

თეზურ სუნიუვილი ირაკლი ზეკუა ზიორგი კვინიკაძე

# 150

## თეორემა და ფორმულა

პლანიმეტრიის საკონკურსო

ამოცანების ამოსახსნელად

თბილისი

2010

..ვინაჲ და ესეჲ წყუყანის-მეზომეოზაჲ დასდრჳს სამთა  
თვსლად ზიბველ ყოველთაჲსა და ორთა მათ უბთისა მიერ  
წამოთაჩენს. ვითავე ძე და სული უბთისაჲან მხოლოთბითისა  
მამისა. ესთავე წმველ წიბი. როძელ აბს ესე — . და  
ყალად ზედსაჩინთჲ  $\Gamma$  ან  $\Delta$  . როძელ აბს ზედჲ  
სახილავი ველისაჲ ყოველთყრთ ვერ მქონე სიღობისაჲ ანა ვით  
ესე ამის უბთისა ს ი მ ი ა ს ე ა ნ წამოთიჩინენს. როძელ  
აბს წენცილი. როძეთჲ წაილყაროს რაჲ წენცილი. ძეიქმს  
წმველსა. როძელ აბს ძე ზიბმძოჲ მისი. სოლო ოდეს რაჲ  
იჭრელოს წიბმან. იძაქმდრჳს ზედსაჩინოსა. როძელ აბს  
ძალი და რეჲ თჲ სული სრულყოფისა მისისაჲ. როძლისა მიერ  
სხჲანი ყოველნი ნაყუთნი და ძედემულეზანი აღიმზადრჳბიან.  
ვითარ ზიბველი ესე ნაყუთთაჲ სამყური  $\triangle$  . და ყალად  
ოთყური  $\square$  . და ძეძელა ძმეჲალი და ძესვეროუჭყალი  $\circ$  .  
როძლისა აბსა აბს დასანყი და აბსა დასასრული. როძეთჲ.  
საიდათ იწყო წყრჳდ. ძენვე და მიისრულა."

პროტოგ დავთხრობი (V ს).  
„უავშინი დვთხმეცყველონი“  
თარგმნილი ოთხე ვეწონის მღერ (XI-XII სს).

თემურ ხუციშვილი ირაკლი ვეკუა გიორგი კვინიკაძე

# 150

თეორემა და ფორმულა  
პლანიმეტრიის საკონკურსო  
ამოცანების ამოსახსნელად

თბილისი

2010

პლანიმეტრიის თეორემებისა და ფორმულების ნაკრები მოიცავს იმ საკითხებს, რომლებიც უშუალოდ არ არიან შეტანილი ეროვნული გამოცდების პროგრამაში. პრაქტიკა გვიჩვენებს, რომ ეროვნულ გამოცდებზე პლანიმეტრიის რთული ამოცანების ამოსახსნელად აუცილებელია უნარ-ჩვევები, რომლებსაც სტანდარტული კურსის გავლისას აბიტურიენტი ვერ იძენს.

წარმოდგენილი სახელმძღვანელო დაგეხმარებათ წარმატებით ამოხსნათ საგამოცდო თუ საოლიმპიადო ამოცანები. პლანიმეტრიის თეორემები და ფორმულები ვერბალურად სრულად არ არის ჩამოყალიბებული, მაგრამ ისეა მოწოდებული, რომ ნახაზების მიხედვით მათი აღქმა და დამახსოვრება იოლდება. თითოეულ თეორემასა და ფორმულას ახლავს დამტკიცება.

რედაქტორი: ივანე კვიციანი

რეცენზენტები: ათანდილ გაგნიძე

გიორგი ლობჯანიძე

ნუგზარ სხირტლაძე

(კავკასიის უნივერსიტეტის პროფესორები)

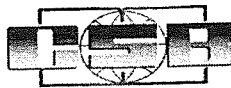
ტექნიკური დირექტორი: ირაკლი ბიგვავა

დახმარებისათვის მადლობას ვუხდით

დავით ფონხუასა და პროფესორ თამაზ აქუბარდიას.



კავკასიის უნივერსიტეტი  
CAUCASUS UNIVERSITY



კავკასიის ბიზნესის სკოლა  
Caucasus School of Business

© თ.ხუციშვილი ივეკუა გ.კვინიკაძე

კავკასიის უნივერსიტეტის გამომცემლობა

ISBN 978-99940-861-5-3

# ს ა რ ჩ ე ვ ი

გამოყენებული აღნიშვნები . . . . .	4
სამკუთხედი და წრეწირი . . . . .	5
მართკუთხა სამკუთხედი . . . . .	17
სამკუთხედი . . . . .	22
რამდენიმე წრეწირი . . . . .	39
წრეწირი . . . . .	50
პარალელოგრამი . . . . .	56
ტრაპეცია . . . . .	62
ოთხკუთხედი და მრავალკუთხედი . . . . .	74
კიდევ ერთი თეორემა . . . . .	81
გამოყენებული ლიტერატურა . . . . .	82

## გამოყენებული აღნიშვნები

$a, b, c, m, n, x, y, z$  – მონაკვეთის სიგრძე;

$h$  – სიმაღლე;

$l$  – ბისექტრისა;

$m_a, m_b, m_c$  – შესაბამისი გვერდებისადმი გავლებული მედიანები;

$r$  – ფიგურაში ჩახაზული წრეწირის რადიუსი;

$R$  – ფიგურაზე შემოსაზული წრეწირის რადიუსი;

$P$  – ფიგურის პერიმეტრი;

$S$  – ფიგურის ფართობი;

$\overline{ABC}$  – შესაბამისი რკალის გრადუსული ზომა;

$L_{\overline{AB}}$  – შესაბამისი რკალის სიგრძე;

$\equiv$  – აღნიშვნის გამომხატველი ნიშანი;

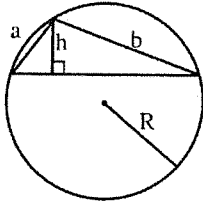
$\sim$  – მსგავსების ნიშანი;

$\Rightarrow$  – გამომდინარეობის ნიშანი;

$const$  – მუდმივი სიდიდე.

# სამკუთხედი და წრეწირი

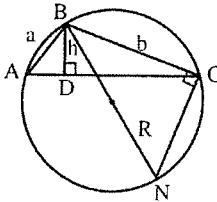
№1



სამკუთხედზე შემოსახული წრეწირის რადიუსი ასეც გამოითვლება:

$$R = \frac{ab}{2h}$$

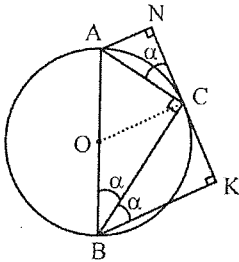
დამტკიცება: გაეყვალთ  $BN = 2R$ .  $\angle BCN$  დიამეტრზე დაყრდნობილი ნახაზული კუთხეა, ამიტომ  $\angle BCN = 90^\circ$ .  $\angle BAC = \angle BNC$ , როგორც ერთ რკალზე დაყრდნობილი კუთხეები. ე.ი.



$\triangle ABD \sim \triangle BNC$ , მსგავსებიდან გამომდინარე:

$$\frac{a}{2R} = \frac{h}{b} \text{ ე.ი. } R = \frac{ab}{2h}$$

№2



დიამეტრის ბოლოდან მხებზე დაშვებულია მართობები, მაშინ

$$\triangle ANC \sim \triangle ABC \sim \triangle BKC$$

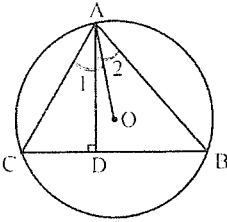
დამტკიცება:  $\angle ACN = \frac{\widehat{AC}}{2}$ , რადგან მხებითა და ქორდით შედგენილი კუთხეა.

$\angle ACN \equiv \alpha$ .  $\angle ABC$  წრეწირში ნახაზული კუთხეა, ამიტომ  $\angle ABC = \frac{\widehat{AC}}{2} = \alpha$  ე.ი.

$\angle ACN = \angle ABC = \alpha$ . ანალოგიურად,  $\angle BCK = \angle BAC = 90^\circ - \alpha$  და  $\angle CBK = \alpha$ .

აქედან გამომდინარეობს, რომ  $ANC$ ,  $ACB$  და  $BKC$  სამკუთხედების შესაბამისი კუთხეები ტოლია. ე.ი.  $\triangle ANC \sim \triangle ABC \sim \triangle BKC$ .

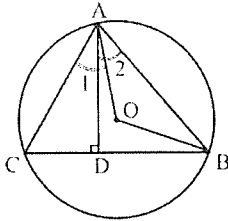
№3



მახვილკუთხა სამკუთხედში თუ  $OA$  რადიუსია და  $AD$  სიმაღლე, მაშინ

$$\angle BAD = \angle CAO$$

დამტკიცება: გაუვლოთ  $OB$  რადიუსი.  $\angle BAD = \angle BAO + \angle OAD$ ,

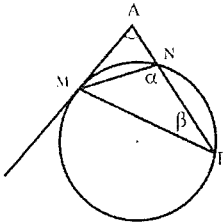


$\angle CAO = \angle CAD + \angle OAD$ . რადგან  $\triangle AOB$  ტოლფერდაა, ამიტომ  $\angle OAB = \angle OBA \equiv \alpha$  და  $\angle AOB = 180^\circ - 2\alpha$ .  $\angle AOB$   $AB$  რკალზე დაყრდნობილი ცენტრალური კუთხეა, ხოლო  $\angle ACB$  ნახაზული კუთხეა, რომელიც იგივე  $AB$  რკალს ეყრდნობა, ანუ  $\angle AOB = 2\angle ACB$ .

$$2\angle ACB = 180^\circ - 2\alpha, \angle ACB = 90^\circ - \alpha \text{ ე.ი. } \angle CAD = \alpha.$$

მივიღეთ, რომ  $\angle OAB = \angle CAD = \alpha$  ე.ი.  $\angle BAD = \angle CAO$ .

№4



კუთხე  $AM$  მხებსა და  $ANP$  მკვეთს შორის ასეც გამოითვლება:

$$\angle A = \alpha - \beta$$

დამტკიცება:  $\angle MPN$  ნახაზული კუთხეა, რომელიც  $MN$  რკალს ეყრდნობა, ანუ

$$\angle MPN = \frac{MN}{2}. \angle AMN \text{ მხებითა და ქორდით შედგენილი კუთხეა, ანუ}$$

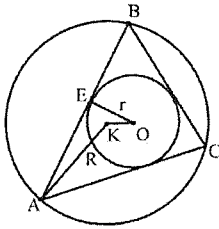
$$\angle AMN = \frac{MN}{2}, \text{ ხაიდანაც } \angle MPN = \angle AMN = \beta. \triangle MNP\text{-დან } \angle NMP = 180^\circ - \alpha - \beta.$$

$$\angle AMP = \angle AMN + \angle NMP = \beta + 180^\circ - \alpha - \beta = 180^\circ - \alpha.$$

$$\triangle AMP\text{-ში } \angle A = 180^\circ - \angle APM - \angle AMP = 180^\circ - (180^\circ - \alpha) - \beta = \alpha - \beta.$$



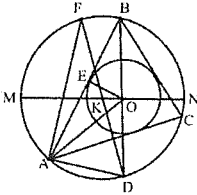
№5



ნებისმიერ სამკუთხედში მანძილი ჩახაზული და შემოხაზული წრეწირების ცენტრებს შორის ასე გამოითვლება:

$$OK^2 = R^2 - 2Rr$$

დამტკიცება:



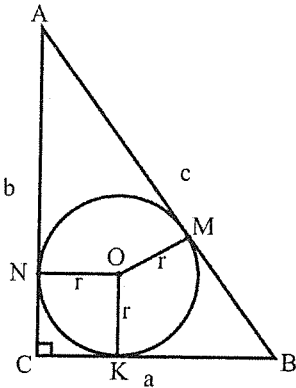
ვთქვათ O და K შესაბამისად  $\triangle ABC$ -ში ჩახაზული და მასზე შემოხაზული წრეწირების ცენტრები არიან. რადგანაც BD ბისექტრისაა, ამიტომ D წერტილი ADC რკალის შუა წერტილია.  $\angle AOD = \angle ABO + \angle BAO$ , როგორც სამკუთხედის გარე კუთხე. რადგანაც AO და BO ბისექტრისები არიან, ამიტომ  $\angle AOD = \angle ABO + \angle OAC = \angle CBD + \angle OAC$  (1).  $\angle OAD = \angle CAD + \angle OAC$  (2).  $\angle CBD = \angle CAD$ , როგორც ერთ რკალზე დაყრდნობილი კუთხეები. (1) და (2)-დან

$\angle AOD = \angle OAD$  და  $AD = OD$ . ურთიერთგადამკვეთ ქორდათა თვისების თანახმად  $MO \cdot ON = BO \cdot OD$ .  $OE \perp AB$  და  $FD$  შემოხაზული წრეწირის დიამეტრია, ამიტომ

$\triangle BOE$  და  $\triangle FDA$  მსგავსია. აქედან გამომდინარე  $\frac{BO}{OE} = \frac{FD}{AD} \Rightarrow BO \cdot AD = OE \cdot FD$

და, რადგანაც  $AD = OD$ , ამიტომ  $BO \cdot OD = OE \cdot FD$  და  $MO \cdot ON = OE \cdot FD$ . ამ ტოლობაში ჩავსვით შემდეგი მნიშვნელობები:  $MO = R + OK$ ,  $ON = R - OK$ ,  $OE = r$ ,  $FD = 2R$ . მივიღებთ, რომ  $R^2 - OK^2 = 2Rr$ . ე.ი.  $OK^2 = R^2 - 2Rr$

№6-7



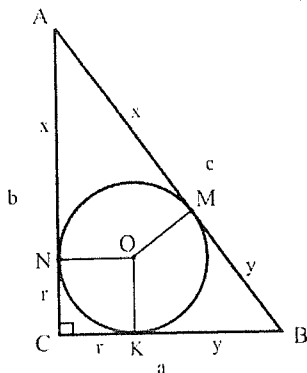
ა) მართკუთხა სამკუთხედში კათეტების ჯამსა და ჩახაზული და შემოხაზული წრეწირების რადიუსებს შორის ასეთი დამოკიდებულებაა:

$$a + b = 2R + 2r$$

ბ) მართკუთხა სამკუთხედში ჩახაზული წრეწირის რადიუსი ასეც გამოითვლება:

$$r = \frac{a + b - c}{2} = \frac{P_{\Delta}}{2} - c$$

დამტკიცება: ა)  $K, M$  და  $N$   $\triangle ABC$ -ში ჩახაზული წრეწირის გვერდებთან შეხების



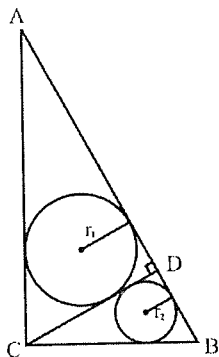
წერტილები არიან,  $O$ -კი ჩახაზული წრეწირის ცენტრია.  $BK$  და  $BM$  მხებები არიან, ამიტომ  $KB = BM$ . ანალოგიურად,  $AN = AM$ ,  $CK = CN$ . ასევე,  $OK = CN$  და  $CK = NO$ .  
 $AC + BC = AN + NC + CK + KB = ON + OK + AB = 2r + 2R$ , სადაც  $r$  ჩახაზული წრეწირის რადიუსია, ხოლო  $R$ -შემოხაზულის.

ბ)  $AN = AM = x$   $BK = BM = y$   $NC = CK = r$ .  
 შევადგინოთ სისტემა

$$\begin{cases} a = y + r \\ b = x + r \\ c = x + y \end{cases} \Rightarrow$$

$$\Rightarrow a + b - c = 2r \text{ ანუ } r = \frac{a+b-c}{2} = \frac{P_{\Delta}}{2} - C.$$

### №8-9



$ABC$  მართკუთხა სამკუთხედში გავლებული  $CD$  სიმაღლე, მაშინ  $ACB$ ,  $ADC$  და  $CDB$

მართკუთხა სამკუთხედებისათვის

შემოხაზული და ჩახაზული წრეწირების

რადიუსებს შორის ასეთი დამოკიდებულებაა:

ა)  $R^2 = R_1^2 + R_2^2$

ბ)  $r^2 = r_1^2 + r_2^2$

დამტკიცება: ა) რადგან მართკუთხა სამკუთხედზე შემოხაზული წრეწირის რადიუსი ჰიპონტენუსის ნახევარია, ამიტომ  $R = \frac{AB}{2}$ ,  $R_1 = \frac{BC}{2}$ ,  $R_2 = \frac{AC}{2}$ .

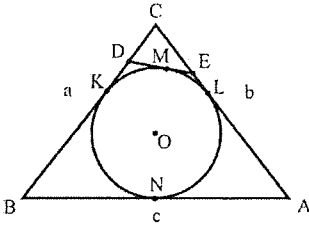
$ABC$  მართკუთხა სამკუთხედში  $\left(\frac{AB}{2}\right)^2 = \left(\frac{BC}{2}\right)^2 + \left(\frac{AC}{2}\right)^2$ , ანუ  $R^2 = R_1^2 + R_2^2$ .

ბ) ორი მართკუთხა სამკუთხედი მსგავსია, თუ მათ ერთი მახვილი კუთხე მაინც ტოლი აქვთ. ანუ  $\triangle ACB \sim \triangle CDB \sim \triangle ADC$ . აქედან გამომდინარე,

$$\left. \begin{aligned} AB:BC:AC &= r:r_1:r_2 \\ AB^2 &= BC^2 + AC^2 \end{aligned} \right\} \Rightarrow AB = rx, BC = r_1x, AC = r_2x.$$

ე.ი.  $(rx)^2 = (r_1x)^2 + (r_2x)^2$  და  $r^2 = r_1^2 + r_2^2$ .

### №10



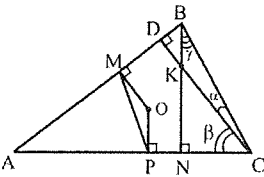
თუ DE სამკუთხედში ჩახაზული წრეწირის მხებია, მაშინ:

$$P_{\Delta CDE} = a + b - c$$

დამტკიცება: წრეწირის გარეთ მდებარე წერტილიდან წრეწირისადმი გაკლებული მხებები ტოლია, ანუ  $KD = DM$ ,  $EM = EL$ ,  $AL = AN$ ,  $BK = BN$ .

$$\begin{aligned} P_{\Delta CDE} &= CD + CE + ED = CD + DM + ME + CE = CD + DK + EL + CE = (CD + DK) + (CE + EL) = CK + CL = (CB - BK) + (CA - AL) = CB + CA - (BK + AL) = \\ &= a + b - (BN + AN) = a + b - BA = a + b - c. \end{aligned}$$

### №11



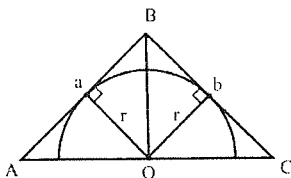
მანძილი სამკუთხედზე შემოხაზული წრეწირის  $O$  ცენტრიდან  $AB$  გვერდამდე ორჯერ ნაკლებია მანძილზე სიმაღლეების გადაკვეთის  $K$  წერტილიდან ამ გვერდის მოპირდაპირე  $C$  წვერომდე:

$$KC = 2 \cdot OM$$

დამტკიცება:  $\angle KCB \equiv \alpha$ ,  $\angle KCN \equiv \beta$ ,  $\angle NBC \equiv \gamma$ .  $\alpha + \beta + \gamma = 90^\circ$  (1),  $\Delta BDC$ -დან  $\angle DBK = 90^\circ - \alpha - \gamma$ . (1)-დან  $\angle DBK = \beta$ .  $MO$  და  $PO$  შუამართობებია, ამიტომ  $MP$  შუახაზია. შესაბამისად,  $MP \parallel BC$ , ამიტომ  $\angle MPA = \alpha + \beta$ ,  $\angle OPA = 90^\circ$ ,  $\angle OPM = 90^\circ - \alpha - \beta$ . (1)-დან  $\angle OPM = \gamma$ . ანალოგიურად,  $\angle OMP = 90^\circ - \gamma - \beta = \alpha$ . განვიხილოთ  $\Delta OMP$  და  $\Delta KCB$ . ამ სამკუთხედების შესაბამისი კუთხეები ტოლია:  $\angle OMP = \angle KCB$ ,  $\angle OPM = \angle KBC$ ,  $\angle MOP = \angle CKB$ , ამიტომ  $\Delta OMP \sim \Delta KCB$ . აქედან

$$\text{გამომდინარე, } \frac{OP}{KB} = \frac{MP}{BC} = \frac{OM}{KC} = \frac{1}{2}. \quad \text{ე.ი. } 2OM = KC.$$

№12



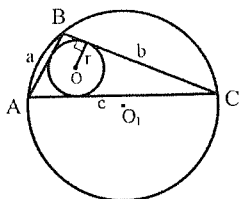
სამკუთხედში ჩახაზული ნახევარწრე-  
წირის რადიუსი ასე გამოითვლება:

$$r = \frac{2S_{\Delta ABC}}{a+b}$$

დამტკიცება: განვიხილოთ  $\Delta ABC$ .  $S_{\Delta AOB} = \frac{1}{2}ar$ , ხოლო  $S_{\Delta BOC} = \frac{1}{2}br$ .

$$S_{\Delta ABC} = S_{\Delta AOB} + S_{\Delta BOC} = \frac{1}{2}r(a+b) \Rightarrow r = \frac{2S_{\Delta ABC}}{a+b}$$

№13-14



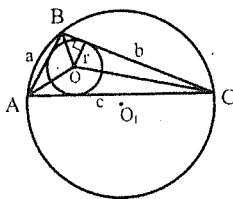
ა) სამკუთხედის ფართობი ჩახაზული  
წრეწირის რადიუსით და პერიმეტრით ასე  
გამოითვლება:

$$S_{\Delta} = \frac{rP_{\Delta}}{2}$$

ბ) სამკუთხედში ჩახაზული წრეწირის  
რადიუსი ასეც გამოითვლება:

$$r = \sqrt{\frac{2}{P_{\Delta}} \left( \frac{P_{\Delta}}{2} - a \right) \left( \frac{P_{\Delta}}{2} - b \right) \left( \frac{P_{\Delta}}{2} - c \right)}$$

დამტკიცება: ა) სამკუთხედის წვეროებიდან გაველოთ ბისექტრისები. მათი გადაკვეთის წერტილი იქნება ჩახაზული წრეწირის O ცენტრი. O წერტილიდან სამკუთხედის გვერდებზე დაშვებული მართობები ჩახაზული წრეწირის რადიუსებია.  $\Delta AOB$ ,  $\Delta BOC$ -სა და  $\Delta AOC$ -ს ფართობები ასე გამოითვლება:

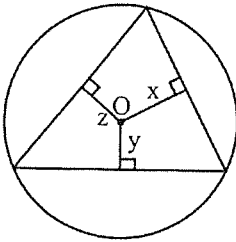


$$S_1 = \frac{1}{2}ar, \quad S_2 = \frac{1}{2}br, \quad S_3 = \frac{1}{2}cr.$$

$$S_{\Delta} = S_1 + S_2 + S_3 = \frac{1}{2}r(a+b+c) = \frac{rP_{\Delta}}{2} \quad (1)$$

ბ) (1)-დან გამომდინარე  $r = \frac{2S_{\Delta}}{P_{\Delta}}$ . ჰერონის ფორმულის გათვალისწინებით

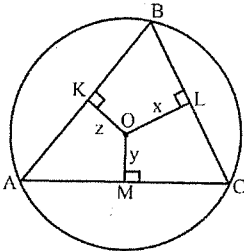
$$r = \frac{2}{P_{\Delta}} \sqrt{\frac{P_{\Delta}}{2} \left( \frac{P_{\Delta}}{2} - a \right) \left( \frac{P_{\Delta}}{2} - b \right) \left( \frac{P_{\Delta}}{2} - c \right)} = \sqrt{\frac{2}{P_{\Delta}} \left( \frac{P_{\Delta}}{2} - a \right) \left( \frac{P_{\Delta}}{2} - b \right) \left( \frac{P_{\Delta}}{2} - c \right)}$$



მახვილკუთხა სამკუთხედში შემოსახული წრეწირის  $O$  ცენტრიდან გავლებულია მართობები, მაშინ

$$R + r = x + y + z$$

დამტკიცება:  $OK \perp AB, OL \perp BC, OM \perp AC$ .  $AKOM$  ოთხკუთხედში



მოპირდაპირე კუთხეების ჯამი  $180^\circ$ -ის ტოლია, ამიტომ მასზე შეიძლება წრეწირის შემოსახვა. პტოლემოსის თეორემის (იხ. №146) თანახმად შეგვიძლია დავწეროთ:

$$AO \cdot KM = AM \cdot OK + AK \cdot OM \quad (1).$$

$K, L$  და  $M$  გვერდების შუაწერტილებია, ამიტომ

$$KM = \frac{1}{2}BC, AM = \frac{1}{2}AC \text{ და } AK = \frac{1}{2}AB, \text{ ხოლო (1)-ის}$$

$$\text{გათუალისწინებით } R \cdot \frac{1}{2}BC = \frac{1}{2}AC \cdot OK + \frac{1}{2}AB \cdot OM \text{ და}$$

$$\text{შესაბამისად } R \cdot BC = AC \cdot OK + AB \cdot OM.$$

ანალოგიურად,  $R \cdot AC = AB \cdot OL + BC \cdot OK$  და  $R \cdot AB = AC \cdot OL + BC \cdot OM$ . შევეკრიბოთ მიღებული ტოლობები:

$$R \cdot (AB + BC + AC) = OL \cdot (AC + AB) + OM \cdot (BC + AB) + OK \cdot (BC + AC)$$

$$S = \frac{AB+AC+BC}{2}r, \text{ აქედან } AC + AB = \frac{2S}{r} - BC, BC + AB = \frac{2S}{r} - AC,$$

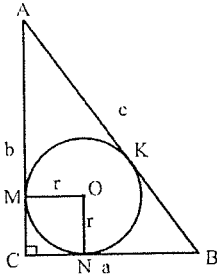
$$BC + AC = \frac{2S}{r} - AB, AB + BC + AC = \frac{2S}{r}.$$

$$R \cdot \frac{2S}{r} = \frac{2S}{r} \cdot OL - OL \cdot BC + \frac{2S}{r} \cdot OM - OM \cdot AC + \frac{2S}{r} \cdot OK - OK \cdot AB.$$

$$OL \cdot BC = 2S_{\Delta BOC}, OM \cdot AC = 2S_{\Delta AOC}, OK \cdot AB = 2S_{\Delta AOB}.$$

$$R \cdot \frac{2S}{r} = \frac{2S}{r} \cdot (OL + OM + OK) - 2S \quad \frac{R}{r} + 1 = \frac{1}{r} \cdot (OL + OK + OM)$$

$$OL + OK + OM = \frac{R+r}{r} \cdot r \text{ ე.ი. } OL + OK + OM = R + r, \text{ ანუ } R + r = x + y + z.$$



მართკუთხა სამკუთხედის ფართობი ასეც გამოითვლება:

ა)  $S_{\Delta} = (a + b)r - r^2$

ბ)  $S_{\Delta} = r^2 + 2Rr$

გ)  $S_{\Delta} = (a - r)(b - r)$

დამტკიცება: ა)  $r = \frac{2S_{\Delta}}{P_{\Delta}}$  (იხ. №13) და  $S = r \cdot \frac{P_{\Delta}}{2} = r \cdot \frac{a+b+c}{2}$ .

რადგან  $AM = AK$ ,  $BN = BK$   $c = (a - r) + (b - r)$  (1).

$S = r \cdot \frac{a + b + (a - r) + (b - r)}{2} = r \cdot \frac{2a + 2b - 2r}{2} = r(a + b - r)$  (2).

მივიღეთ  $S_{\Delta} = (a + b)r - r^2$ .

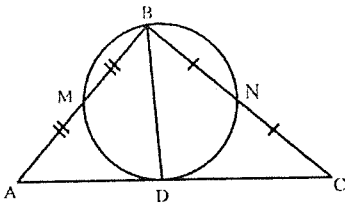
ბ) (2)-დან  $S = r(a + b - r) = r[r + (a - r) + (b - r)]$  და (1)-დან გამომდინარე,  $S = r(r + c) = r(r + 2R) = r^2 + 2Rr$ .

გ)  $S_{\Delta ABC} = \frac{1}{2} ab = \frac{1}{2} \cdot [(a - r) + r][(b - r) + r]$

$$\begin{aligned} 2S_{\Delta ABC} &= (a - r)(b - r) + (a - r)r + (b - r)r + r^2 = \\ &= (a - r)(b - r) + r(a - r + b - r + r) = \\ &= (a - r)(b - r) + r(a + b - r) \end{aligned}$$

(2)-დან გამომდინარე  $r(a + b - r) = S_{\Delta ABC}$ , ამიტომ  $S_{\Delta ABC} = (a - r)(b - r)$

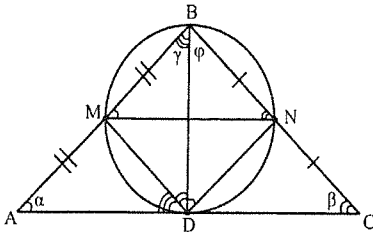
№19



$M$  და  $N$  გვერდების შუაწერტილებია,  $D$  შეხების წერტილია, მაშინ

$BD^2 = AD \cdot DC$

დამტკიცება: რადგან M და N წერტილები გვერდების შუაწერტილებია, ამიტომ



MN მონაკვეთი  $\triangle ABC$ -ს შუახაზია. ე.ი.

$$\angle BMN = \angle BAC, \angle BNM = \angle BCA.$$

განვიხილოთ  $BMDN$  ოთხკუთხედი. ერთ რკალზე დაყრდნობილი კუთხეები

ტოლია, ამიტომ  $\angle BMN = \angle BDN, \angle BNM =$

$$\angle BDM, \angle ABD = \angle MND, \angle CBD = \angle NMD.$$

$$\angle MDA = \angle ABD = \angle MND = \frac{MD}{2}. \text{ ანალოგიურად, } \angle NDC = \angle CBD = \angle NMD = \frac{ND}{2}.$$

$$\angle BAC \equiv \alpha, \angle BCA \equiv \beta, \angle ABD \equiv \gamma, \angle CBD \equiv \varphi. \triangle ABC\text{-დან } \alpha + \beta + \gamma + \varphi = 180^\circ.$$

$$\text{გაშლილი } \angle AMB \text{ კუთხიდან } \angle AMD = 180^\circ - \angle BMN - \angle NMD = 180^\circ - \alpha - \varphi =$$

$$\beta + \gamma, \text{ ხოლო } \triangle AMD\text{-დან } \angle AMD = 180^\circ - \alpha - \gamma.$$

$$\beta + \gamma = 180^\circ - \alpha - \gamma \Rightarrow \alpha + \beta + 2\gamma = 180^\circ$$

თუ გავითვალისწინებთ, რომ  $\alpha + \beta + \gamma + \varphi = 180^\circ$ , მივიღებთ, რომ  $\gamma = \varphi$ . ე.ი.

$$BD \text{ ბისექტრისაა. } \triangle BND \sim \triangle DMA \text{ აქედან გამომდინარეობს, რომ } \frac{BD}{DA} = \frac{BN}{DM} = \frac{DN}{AM}.$$

$$\text{ანალოგიურად, } \triangle BMD \sim \triangle DNC \text{ და } \frac{BD}{DC} = \frac{MD}{NC} = \frac{MB}{DN}.$$

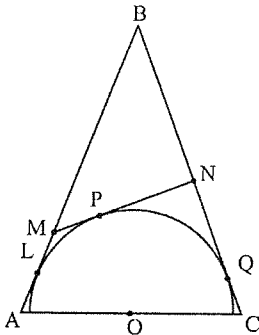
$$\text{შესაბამისად, } AD \cdot BN = BD \cdot MD$$

$$DC \cdot MD = BD \cdot NC.$$

$$\text{გადავამრავლოთ ეს ტოლობები, მივიღებთ } BD^2 \cdot MD \cdot NC = AD \cdot DC \cdot BN \cdot MD.$$

$$\text{რადგან } BN = NC, \text{ ამიტომ } BD^2 = AD \cdot DC.$$

## №20



ტოლფერდა სამკუთხედში ნახევარწრეწირის  
ნებისმიერი წერტილისათვის გავლებულია  
მხები, მაშინ

$$AM \cdot NC = \left(\frac{AC}{2}\right)^2$$

დამტკიცება: ფორმულა ადვილად დამტკიცდება თუ ვანვიხებთ, რომ

$\triangle AOM \sim \triangle CNO$ , სადაც  $O$  ნახევარწრეწირის ცენტრია.

რადგან  $ABC$  ტოლფერდა სამკუთხედია, ამიტომ  $\triangle AOM$ -სა

და  $\triangle CNO$ -ში  $\angle A = \angle C$ . ვანვიხებთ, რომ  $\angle MOA = \angle ONC$ .

ვთქვათ  $L, P$  და  $Q$  ნახევარწრეწირის შეხების წერტილებია

შესაბამისად  $AB, MN$  და  $BC$  გვერდებთან. რადგან  $OL \perp AB$

და  $OQ \perp BC$ , ამიტომ  $\angle LOQB$  ოთხკუთხედში

$\angle LOQ = 180^\circ - \angle B$ , ამასთან  $\triangle ABC$ -ში

$180^\circ - \angle B = \angle A + \angle C = 2\angle A$ . ე.ი.  $\angle LOQ = 2\angle A$ .

$\triangle LOM$  და  $\triangle MOP$  ტოლი სამკუთხედებია, რადგან

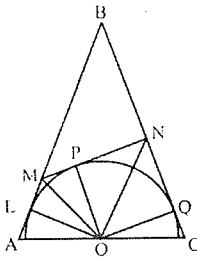
$LM = MP$  და  $PO = LO$  და  $MO$  საერთო გვერდი აქვთ. შესაბამისად,

$\angle LMO = \angle MPO$ , ანალოგიურად  $\angle PNO = \angle ONQ$  ე.ი.  $\angle LOQ = 2\angle MON = 2\angle A$ ,

$\angle MON = \angle A$ . რადგან  $\triangle AOM$  და  $\triangle ONM$ -ში  $\angle AMO = \angle NMO$ , ვასკენით, რომ

$\angle MOA = \angle MNO$ . რადგან  $\angle MNO = \angle ONC$ , ამიტომ  $\angle MOA = \angle ONC$  და

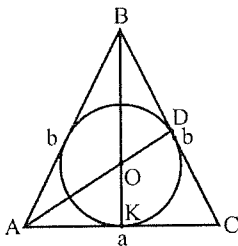
$\triangle AOM \sim \triangle CNO$ . აქედან  $\frac{AM}{AO} = \frac{OC}{NC}$ . მივიღებთ  $AM \cdot NC = AO \cdot OC = AO^2 = \left(\frac{AC}{2}\right)^2$ .



### №21

ტოლფერდა სამკუთხედში ჩახაზული წრეწირის ცენტრი  $AD$  ბისექტრისას ყოფს შეფარდებით:

$$AO : OD = (a + b) : b$$



დამტკიცება: რადგან  $BK$  მედიანაა  $S_{\triangle ABK} = \frac{S_{\triangle ABC}}{2}$ . ბისექტრისის თვისების

თანახმად  $\frac{BO}{OK} = \frac{b}{\frac{a}{2}}$ . სამკუთხედის წვეროდან გავლებული სხივი იმ

შეფარდებით ჰყოფს სამკუთხედის ფართობს, რა შეფარდებითაც იყოფა ამ წვეროს მოპირდაპირე გვერდი. ე.ი.

$$\frac{S_{\triangle AOB}}{S_{\triangle ABK}} = \frac{b}{\frac{a}{2} + b} \Rightarrow S_{\triangle AOB} = S_{\triangle ABK} \cdot \frac{b}{\frac{a}{2} + b} = \frac{S}{2} \cdot \frac{b}{\frac{a}{2} + b}, \quad (1)$$

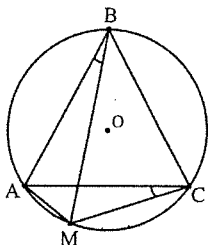
ანალოგიურად  $S_{\triangle BOC} = \frac{S}{2} \cdot \frac{b}{\frac{a}{2} + b}$ , ხოლო ბისექტრისის თვისების თანახმად

$$\frac{DB}{DC} = \frac{b}{a}, \text{ ამიტომ } S_{\triangle BOD} = S_{\triangle BOC} \cdot \frac{b}{a+b} = \frac{S}{2} \cdot \frac{b}{\frac{a}{2} + b} \cdot \frac{b}{a+b}.$$

$$(1)\text{-დან გამომდინარე } \frac{S_{\triangle AOB}}{S_{\triangle BOD}} = \frac{a+b}{b} = \frac{AO}{OD}$$



№22



ტოლგვერდა  $ABC$  სამკუთხედზე შემოსახული წრეწირის  $AC$  რკალის ნებისმიერი  $M$  წერტილისათვის:

$$MA + MC = MB$$

დამტკიცება:  $\angle MCA$  და  $\angle ABM$  ერთ რკალს ეყრდნობიან, ამიტომ

$\angle MCA = \angle ABM \equiv \alpha$ . განვიხილოთ  $\triangle BCM$  და  $\triangle BMA$ . რადგან წრეწირში

ჩახაზულ  $ABCM$  ოთხკუთხედში მოპირდაპირე კუთხეების ჯამი  $180^\circ$ -ია

$$\angle BCM = 180^\circ - \angle BAM. \text{ სინუსების თეორემით გვექნება } \frac{BM}{\sin \angle BCM} = \frac{CM}{\sin \angle CBM},$$

$$\text{ანუ } \frac{BM}{\sin(60^\circ + \alpha)} = \frac{CM}{\sin(60^\circ - \alpha)}. \triangle ABM\text{-დან } \frac{BM}{\sin(180^\circ - \angle BCM)} = \frac{AM}{\sin \angle MBA},$$

$$\text{ანუ } \frac{BM}{\sin(60^\circ + \alpha)} = \frac{AM}{\sin \alpha}. \text{ მივიღეთ, } \frac{BM}{\sin(60^\circ + \alpha)} = \frac{CM}{\sin(60^\circ - \alpha)} = \frac{AM}{\sin \alpha},$$

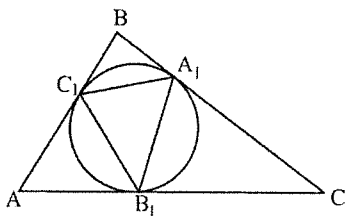
$$\text{პროპორციის თვისების თანახმად, } \frac{BM}{\sin(60^\circ + \alpha)} = \frac{CM + AM}{\sin(60^\circ - \alpha) + \sin \alpha}.$$

დაყვანის ფორმულებით გარდაექმნათ ტოლობის მარჯვენა ნაწილის

$$\text{მნიშვნელი: } \sin(60^\circ - \alpha) + \sin \alpha = 2 \sin 30^\circ \cos(30^\circ - \alpha) = \sin(60^\circ + \alpha).$$

ე.ი.  $MA + MC = MB$ .

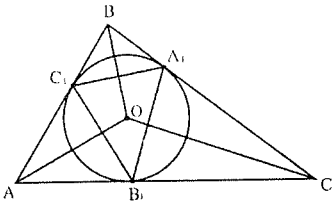
№23



წრეწირში ჩახაზული და მასზე შემოსახული სამკუთხედების ფართობების შეფარდება ასე გამოითვლება:

$$\frac{S_{\triangle A_1 B_1 C_1}}{S_{\triangle ABC}} = 2 \cdot \sin \frac{\angle A}{2} \cdot \sin \frac{\angle B}{2} \cdot \sin \frac{\angle C}{2}$$

ღამტიკეცება:  $S_{\Delta ABC} = S_{\Delta AOB} + S_{\Delta BOC} + S_{\Delta COA}$ ,  $S_{\Delta AOB} = \frac{1}{2} AO \cdot BO \cdot \sin \angle AOB$ .



რადგან  $OC_1 \perp AB$ , ამიტომ  $AO = \frac{r}{\sin \frac{\angle A}{2}}$ ,

ანალოგიურად  $BO = \frac{r}{\sin \frac{\angle B}{2}}$ .  $\Delta AOB$ -დან

$\angle AOB = 180^\circ - \left(\frac{\angle A + \angle B}{2}\right)$ , აქედან

$$\sin \angle AOB = \sin \frac{\angle A + \angle B}{2} = \sin \frac{180^\circ - \angle C}{2} = \sin \left(90^\circ - \frac{\angle C}{2}\right) = \cos \frac{\angle C}{2}$$

ე.ი.  $S_{\Delta AOB} = \frac{1}{2} r^2 \frac{\cos \frac{\angle C}{2}}{\sin \frac{\angle A}{2} \cdot \sin \frac{\angle B}{2}}$ , ანალოგიურად  $\Delta BOC$ -სა და  $\Delta COA$ -სთვის.

საბოლოოდ მივიღებთ, რომ

$$S_{\Delta ABC} = \frac{1}{2} r^2 \frac{\cos \frac{\angle A}{2}}{\sin \frac{\angle B}{2} \cdot \sin \frac{\angle C}{2}} + \frac{1}{2} r^2 \frac{\cos \frac{\angle B}{2}}{\sin \frac{\angle A}{2} \cdot \sin \frac{\angle C}{2}} + \frac{1}{2} r^2 \frac{\cos \frac{\angle C}{2}}{\sin \frac{\angle A}{2} \cdot \sin \frac{\angle B}{2}} \Rightarrow$$

$$S_{\Delta ABC} = \frac{1}{4} r^2 \frac{2 \sin \frac{\angle A}{2} \cos \frac{\angle A}{2} + 2 \sin \frac{\angle B}{2} \cos \frac{\angle B}{2} + 2 \sin \frac{\angle C}{2} \cos \frac{\angle C}{2}}{\sin \frac{\angle A}{2} \cdot \sin \frac{\angle B}{2} \cdot \sin \frac{\angle C}{2}} \Rightarrow$$

$$S_{\Delta ABC} = \frac{r^2}{4} \cdot \frac{\sin \angle A + \sin \angle B + \sin \angle C}{\sin \frac{\angle A}{2} \cdot \sin \frac{\angle B}{2} \cdot \sin \frac{\angle C}{2}}. \text{ ახლა გამოვსახოთ } S_{\Delta A_1 B_1 C_1},$$

$$S_{\Delta A_1 B_1 C_1} = S_{\Delta A_1 O B_1} + S_{\Delta B_1 O C_1} + S_{\Delta A_1 O C_1}.$$

$S_{\Delta A_1 O B_1} = \frac{1}{2} A_1 O \cdot O B_1 \sin \angle A_1 O B_1 = \frac{r^2}{2} \sin \angle A_1 O B_1$ , ანალოგიურად  $S_{\Delta B_1 O C_1}$ -სა და  $S_{\Delta A_1 O C_1}$ -სთვის საბოლოოდ მივიღებთ, რომ

$$S_{\Delta A_1 B_1 C_1} = \frac{r^2}{2} (\sin \angle A_1 O B_1 + \sin \angle B_1 O C_1 + \sin \angle A_1 O C_1)$$

$\angle A_1 O B_1$ -ს გასაგებად განვიხილოთ  $A_1 O B_1 C$  ოთხკუთხედი, საიდანაც  $\angle O A_1 C = \angle O B_1 C = 90^\circ$ , ამიტომ  $\angle A_1 O B_1 + \angle C = 180^\circ$  ეი  $\angle A_1 O B_1 = 180^\circ - \angle C$

ანალოგიურად  $\angle B_1 O C_1$  და  $\angle A_1 O C_1$ -ს შემთხვევაშიც, შესაბამისად:

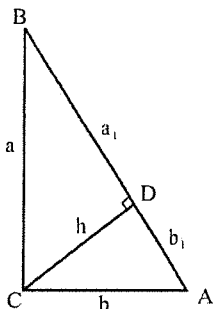
$$S_{\Delta A_1 B_1 C_1} = \frac{r^2}{2} (\sin(180^\circ - \angle C) + \sin(180^\circ - \angle B) + \sin(180^\circ - \angle A))$$

$$S_{\Delta A_1 B_1 C_1} = \frac{r^2}{2} (\sin \angle A + \sin \angle B + \sin \angle C)$$

$$\frac{S_{\Delta A_1 B_1 C_1}}{S_{\Delta ABC}} = 2 \cdot \sin \frac{\angle A}{2} \cdot \sin \frac{\angle B}{2} \cdot \sin \frac{\angle C}{2}$$

## მართკუთხა სამკუთხედი

№24-25



ა) მართკუთხა სამკუთხედში კათეტების პიპოტენუზაზე გეგმილებისათვის:

$$\frac{a^2}{b^2} = \frac{a_1}{b_1}$$

ბ) მართკუთხა სამკუთხედში პიპოტენუზისადმი გავლებული სიმაღლისათვის:

$$\frac{1}{h^2} = \frac{1}{a^2} + \frac{1}{b^2}$$

დამტკიცება: ა)  $\triangle CBD$ -დან  $\cos \angle B = \frac{a_1}{a}$ ,  $\triangle ABC$ -დან  $\cos \angle B = \frac{a}{a_1 + b_1}$ .

ანუ  $\frac{a_1}{a} = \frac{a}{a_1 + b_1} \Rightarrow a^2 = a_1(a_1 + b_1)$ . ანალოგიურად  $\triangle ADC$  -დან

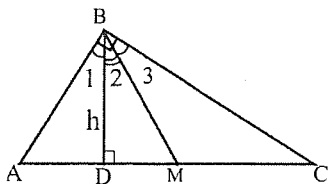
$$b^2 = b_1(a_1 + b_1) \Rightarrow \frac{a^2}{b^2} = \frac{a_1}{b_1}$$

ბ)  $S_{\triangle ABC} = \frac{1}{2}ab$ ,  $S_{\triangle ABC} = \frac{1}{2}hc$ . ცხადია  $ab = hc$ ,  $a^2b^2 = h^2c^2$ ,

პითაგორას თეორემის გათვალისწინებით,  $a^2b^2 = h^2(a^2 + b^2)$ .

$$h^2 = \frac{a^2b^2}{a^2+b^2} \Rightarrow \frac{1}{h^2} = \frac{a^2+b^2}{a^2b^2} = \frac{1}{a^2} + \frac{1}{b^2}$$

№26-27



მართკუთხა სამკუთხედში მართი კუთხის წვეროდან გავლებული სიმაღლისა და მედიანისათვის

ა)  $\angle ABD = \angle CBM$  ( $\angle 1 = \angle 3$ )

ბ)  $\angle DBM = |\angle A - \angle C|$

დამტკიცება: ა) რადგან მართკუთხა სამკუთხედზე შემოხაზული წრეწირის ცენტრი ჰიპოტენუსის შუა წერტილს ემთხვევა, ამიტომ  $AM=MB=MC$ . აქედან გამომდინარე  $\triangle ABM$  და  $\triangle BMC$  ტოლფერდა სამკუთხედებია ე.ი.  $\angle A = \angle 1 + \angle 2$  და  $\angle C = \angle 3$ .  $\triangle DBM$ -დან  $\angle DMB = 90^\circ - \angle 2$ , ხოლო  $\triangle BMC$ -დან  $\angle CMB = 180^\circ - 2\angle 3$ .  $\angle AMC$  გაშლილი კუთხეა, ამიტომ

$$180^\circ - 2\angle 3 + 90^\circ - \angle 2 = 180^\circ$$

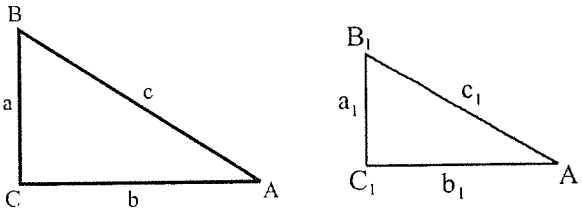
$$2\angle 3 + \angle 2 = 90^\circ, \text{ რადგან } \angle 1 + \angle 2 + \angle 3 = 90^\circ, \text{ ამიტომ } \angle 1 = \angle 3. \quad (1)$$

ბ) (1) ტოლობის გათვალისწინებით  $\angle 1 + \angle 2 - \angle 3 = \angle 2$  (2).  $\triangle ABM$  და  $\triangle BMC$  ტოლფერდა სამკუთხედებია, ამიტომ  $\angle 1 + \angle 2 = \angle A$  და  $\angle C = \angle 3$ .

(2) ტოლობიდან გამომდინარე კი  $\angle A - \angle C = \angle 2$ , ანუ  $\angle DBM = |\angle A - \angle C|$

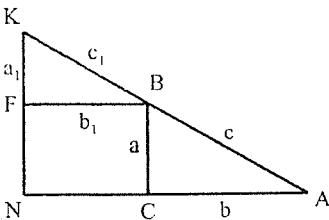
### №28

მსგავსი მართკუთხა სამკუთხედების ჰიპოტენუსების ჯამის კვადრეტი უდრის შესაბამისი კათეტების ჯამის კვადრატების ჯამს:



$$(c + c_1)^2 = (a + a_1)^2 + (b + b_1)^2$$

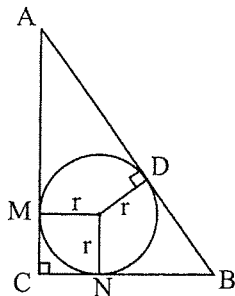
დამტკიცება:  $AC$  გვერდი გავაგრძელოთ  $C$  წვეროდან მარცხნივ და ავაგოთ  $b_1$ -ის ტოლი  $NC$  მონაკვეთი.



ანალოგიურად,  $AB$  გავაგრძელოთ  $c_1$ -ის ტოლი  $BK$  მონაკვეთით. ცხადია, რომ  $NK \parallel BC$  და  $AN \parallel BF$ . რადგან  $\triangle ANK$  მართკუთხაა, ამიტომ  $AK^2 = AN^2 + NK^2$ . ხოლო  $AK = (c + c_1)$ ,  $AN = (b + b_1)$  და  $NK = (a + a_1)$  ე.ი.

$$(c + c_1)^2 = (a + a_1)^2 + (b + b_1)^2$$

№29



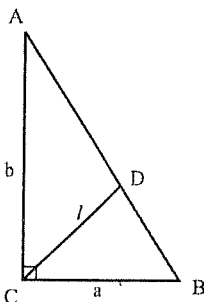
თუ  $D$  წერტილი ჩახაზული წრეწირის პიპოტენუზასთან შეხების წერტილია, მაშინ მართკუთხა სამკუთხედის ფართობი ასე გამოითვლება:

$$S_{\Delta ABC} = AD \cdot DB$$

დამტკიცება: წრეწირის გარეთ მდებარე წერტილიდან წრეწირისადმი გაეღებული მხეხები ტოლია.  $BD = BN$  და  $AM = AD$ , ანუ

$$AD \cdot DB = AM \cdot NB = (CB - r)(AC - r) = S_{\Delta ABC} \text{ (იხ. №18)}$$

№30



მართკუთხა სამკუთხედის მართი კუთხის წვეროდან გაეღებული ბისექტრისის სიგრძე ასე გამოითვლება:

$$l = \frac{ab\sqrt{2}}{a+b}$$

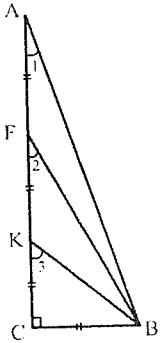
დამტკიცება:  $S_{\Delta ABC} = \frac{ab}{2}$ ,  $S_{\Delta ACD} = \frac{1}{2} \cdot bl \sin \angle ACD$ ,

$S_{\Delta DCB} = \frac{1}{2} \cdot al \sin \angle DCB$ ,  $S_{\Delta ABC} = S_{\Delta ACD} + S_{\Delta DCB}$ , ანუ

$$\frac{1}{2}ab = \frac{1}{2} \cdot bl \sin 45^\circ + \frac{1}{2} \cdot al \sin 45^\circ$$

$ab = l \sin 45^\circ (a + b)$ , საიდანაც  $l = \frac{ab\sqrt{2}}{a+b}$

№31



თუ მართკუთხა სამკუთხედის კათეტი სამ ტოლ ნაწილადაა გაყოფილი და თითოეული ნაწილი მეორე კათეტის ტოლია, მაშინ:

$$\angle 1 + \angle 2 + \angle 3 = 90^\circ$$

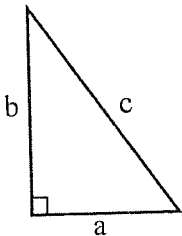
დამტკიცება:  $\angle CKB = \angle 3, \angle CFB = \angle 2, \angle CAB = \angle 1$ .

$KC = CB$ , ანუ  $CKB$  სამკუთხედი ტოლფერდაა და  $\angle 3 = \frac{\pi}{4}$ .

$\operatorname{tg} \angle 2 = \frac{1}{2}$ ,  $\operatorname{tg} \angle 1 = \frac{1}{3}$ , მაშინ  $\operatorname{tg}(\angle 2 + \angle 1) = \frac{\frac{1}{2} + \frac{1}{3}}{1 - \frac{1}{2} \cdot \frac{1}{3}} = 1$  ე.ი  $\angle 1 + \angle 2 = \frac{\pi}{4}$

$$\angle 1 + \angle 2 + \angle 3 = \frac{\pi}{4} + \frac{\pi}{4} = 90^\circ$$

№32-33



მართკუთხა სამკუთხედის ფართობი ასეც გამოითვლება:

ა)  $S = \frac{P_{\Delta}}{2} \left( \frac{P_{\Delta}}{2} - c \right)$

ბ)  $S = \left( \frac{P_{\Delta}}{2} - a \right) \left( \frac{P_{\Delta}}{2} - b \right)$

დამტკიცება: ა)  $r = \left(\frac{P_{\Delta}}{2} - c\right)$  (იხ. №7).  $S = \frac{P_{\Delta}}{2} r$  (იხ. №13).  $S = \frac{P_{\Delta}}{2} \left(\frac{P_{\Delta}}{2} - c\right)$ .

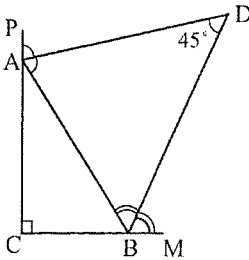
ბ) პერონის ფორმულის თანახმად  $S = \sqrt{\frac{P_{\Delta}}{2} \left(\frac{P_{\Delta}}{2} - a\right) \left(\frac{P_{\Delta}}{2} - b\right) \left(\frac{P_{\Delta}}{2} - c\right)}$ .

ჩვენ უკვე დავამტკიცეთ (ა), რომ  $\frac{P_{\Delta}}{2} \left(\frac{P_{\Delta}}{2} - c\right) = S$ , ანუ

$$S = \sqrt{S \left(\frac{P_{\Delta}}{2} - a\right) \left(\frac{P_{\Delta}}{2} - b\right)}, \Rightarrow S^2 = S \left(\frac{P_{\Delta}}{2} - a\right) \left(\frac{P_{\Delta}}{2} - b\right) \Rightarrow$$

$$\Rightarrow S = \left(\frac{P_{\Delta}}{2} - a\right) \left(\frac{P_{\Delta}}{2} - b\right)$$

### №34-35



ა)  $AD$  და  $BD$  მართკუთხა  $ABC$  სამკუთხედის გარე კუთხეების ბისექტრისებია, მაშინ

$$\angle ADB = 45^{\circ}$$

ბ)  $D$  წერტილი მართი  $C$  კუთხის ბისექტრისაზე მდებარეობს

დამტკიცება: ა)  $\angle ABC \equiv \beta$ .  $\angle ABM = 180^{\circ} - \beta$ , ხოლო  $\angle ABD = 90^{\circ} - \frac{\beta}{2}$ .

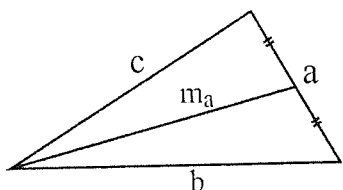
$\angle PAB$  არის  $ABC$  სამკუთხედის გარე კუთხე, ამიტომ  $\angle PAB = 90^{\circ} + \beta$

$\angle DAB = \frac{\angle PAB}{2} = 45^{\circ} + \frac{\beta}{2}$ .  $\triangle DAB$ -დან  $\angle D = 180^{\circ} - 90^{\circ} + \frac{\beta}{2} - 45^{\circ} - \frac{\beta}{2} = 45^{\circ}$ .

ბ) იხ. №59.

# სამკუთხედი

№36-37



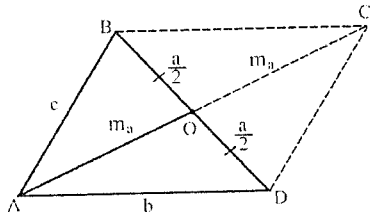
ა) სამკუთხედის მედიანა გვერდებით ასე გამოითვლება:

$$m_a = \frac{1}{2} \sqrt{2(b^2 + c^2) - a^2}$$

ბ) სამკუთხედის გვერდებსა და მედიანებს შორის ასეთი დამოკიდებულებაა:

$$m_a^2 + m_b^2 + m_c^2 = \frac{3}{4}(a^2 + b^2 + c^2)$$

დამტკიცება: ა) სამკუთხედი შევაკვსოთ პარალელოგრამამდე. პარალელოგრამის



დიაგონალების კვადრატების ჯამი უდრის გვერდების კვადრატების ჯამს ე.ი.

$$(2m_a)^2 + a^2 = 2b^2 + 2c^2$$

$$4m_a^2 = 2b^2 + 2c^2 - a^2$$

$$m_a = \frac{1}{2} \sqrt{2(b^2 + c^2) - a^2}$$

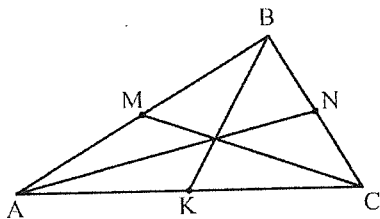
ბ)  $AN \equiv m_a, BK \equiv m_b, CM \equiv m_c$ . მედიანის სიგრძის გამოსათვლელი

ფორმულიდან გვექნება:

$$m_a = \frac{1}{2} \sqrt{2(b^2 + c^2) - a^2}$$

$$m_b = \frac{1}{2} \sqrt{2(a^2 + c^2) - b^2}$$

$$m_c = \frac{1}{2} \sqrt{2(a^2 + b^2) - c^2}$$



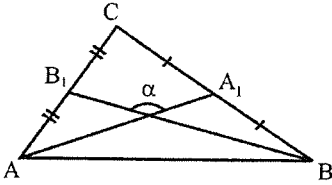
$$m_a^2 + m_b^2 + m_c^2 = \frac{1}{4}(2(b^2 + c^2) - a^2) + \frac{1}{4}(2(a^2 + c^2) - b^2) + \frac{1}{4}(2(a^2 + b^2) - c^2)$$

$$= \frac{1}{4}(2b^2 + 2c^2 - a^2 + 2a^2 + 2c^2 - b^2 + 2a^2 + 2b^2 - c^2) =$$

$$= \frac{1}{4}(3a^2 + 3b^2 + 3c^2) = \frac{3}{4}(a^2 + b^2 + c^2)$$



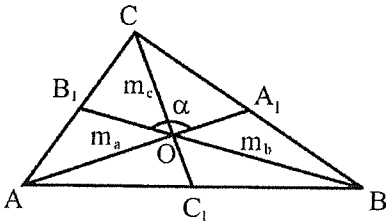
№38



სამკუთხედის ფართობი ორი მედიანითა და მათ შორის მდებარე კუთხით ასე გამოითვლება:

$$S_{\Delta ABC} = \frac{2}{3} m_a m_b \sin \alpha$$

დამტკიცება: გავაგლოთ  $m_c$  მედიანა. მედიანების გადაკვეთით მიღებული ექვსივე სამკუთხედი ტოლფილია (იხ. №51), ამიტომ



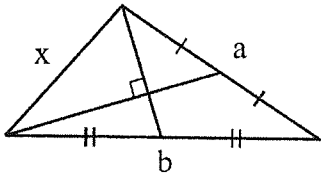
$$\begin{aligned} S_{\Delta AC_1O} &= S_{\Delta BC_1O} = S_{\Delta BA_1O} = S_{\Delta CA_1O} = \\ &= S_{\Delta AB_1O} = S_{\Delta CB_1O} = \frac{1}{6} S_{\Delta ABC} \\ S_{\Delta AOB} &= \frac{2}{6} S_{\Delta ABC} = \frac{1}{3} S_{\Delta ABC} \Rightarrow \\ S_{\Delta ABC} &= 3 S_{\Delta AOB} \end{aligned}$$

$O$  მედიანების კვეთის წერტილია, ამიტომ  $AO = \frac{2}{3} m_a$ ,  $OB = \frac{2}{3} m_b$ .  $\Rightarrow$

$$S_{\Delta AOB} = \frac{1}{2} \cdot \frac{2}{3} m_b \cdot \frac{2}{3} m_a \cdot \sin \alpha = \frac{2}{9} m_b \cdot m_a \cdot \sin \alpha$$

$$S_{\Delta ABC} = 3 S_{\Delta AOB} = \frac{2}{3} m_a m_b \sin \alpha$$

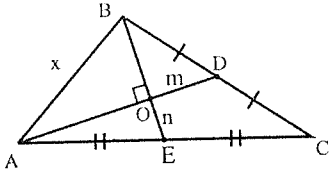
№39



თუ სამკუთხედის ორი მედიანა ურთიერთმართობულია, მაშინ

$$x = \sqrt{\frac{a^2 + b^2}{5}}$$

დამტკიცება:  $OD \equiv m$ ,  $OE \equiv n$ . სამკუთხედში მედიანები გადაკვეთის წერტილით იყოფა შეფარდებით 2:1 წეროს მხრიდან, გამოვიყენოთ ეს თვისება  $AOE$ ,  $BOD$  და  $AOB$  სამკუთხედებში:

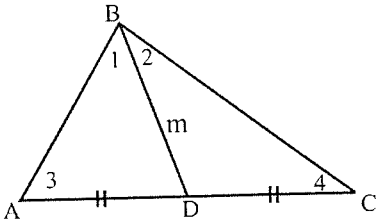


$$\begin{cases} 4m^2 + n^2 = \frac{b^2}{4} \\ 4n^2 + m^2 = \frac{a^2}{4} \end{cases} \Rightarrow \begin{cases} b^2 = 16m^2 + 4n^2 \\ a^2 = 4m^2 + 16n^2 \end{cases}$$

$$\Rightarrow a^2 + b^2 = 20n^2 + 20m^2$$

$$\text{ხოლო } x^2 = 4m^2 + 4n^2 = \frac{1}{5}(a^2 + b^2) \Rightarrow x = \sqrt{\frac{a^2 + b^2}{5}}$$

#### №40



სამკუთხედში გავლებული მედიანისათვის:

$$\frac{\sin \angle 1}{\sin \angle 2} = \frac{\sin \angle 3}{\sin \angle 4}$$

დამტკიცება: განვიხილოთ  $\triangle ABD$  და  $\triangle BDC$ . სინუსების თეორემის თანახმად

$$\frac{AD}{\sin \angle 1} = \frac{BD}{\sin \angle 3} \quad \frac{DC}{\sin \angle 2} = \frac{BD}{\sin \angle 4}$$

$$\frac{AD}{BD} = \frac{\sin \angle 1}{\sin \angle 3} \quad \frac{DC}{BD} = \frac{\sin \angle 2}{\sin \angle 4}$$

$$\text{რადგან } AD=DC, \text{ ამიტომ } \frac{AD}{BD} = \frac{DC}{BD}, \text{ ანუ } \frac{\sin \angle 1}{\sin \angle 3} = \frac{\sin \angle 2}{\sin \angle 4} \Rightarrow$$

$$\Rightarrow \frac{\sin \angle 1}{\sin \angle 2} = \frac{\sin \angle 3}{\sin \angle 4}$$

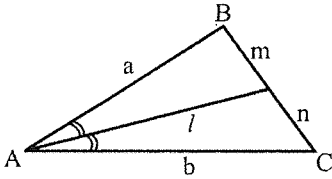
№41-42-43

სამკუთხედში გავლებული  $l$  ბისექტრისისათვის

ა)  $l^2 = ab - mn$

ბ)  $l = \frac{2ab}{a+b} \cos \frac{\angle BAC}{2}$

გ)  $S_{\Delta ABC} = \frac{1}{2}(a+b) \cdot l \cdot \sin \frac{\angle BAC}{2}$

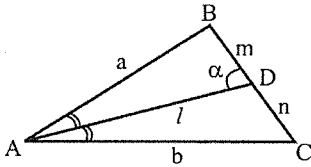


დამტკიცება: ა)  $\angle ADB \equiv \alpha$ , კოსინუსების თეორემის თანახმად :

$a^2 = l^2 + m^2 - 2lm \cos \alpha$  (1)

$b^2 = l^2 + n^2 - 2ln \cos(180^\circ - \alpha) \Rightarrow$

$\Rightarrow b^2 = l^2 + n^2 + 2ln \cos \alpha$  (2)



(1) ტოლობა გავამრავლოთ  $n$ -ზე, ხოლო (2)  $m$ -ზე და შევეკრიბოთ:

$na^2 + mb^2 = nl^2 + nm^2 + ml^2 + mn^2 \Rightarrow na^2 + mb^2 = (n+m)(l^2 + mn)$  (3).

ბისექტრისის თვისების თანახმად  $\frac{a}{m} = \frac{b}{n}$  ე.ი.  $a = \frac{mb}{n}$  და  $b = \frac{nb}{m}$

აქედან გამომდინარე:  $na^2 + mb^2 = na \frac{mb}{n} + mb \frac{nb}{m} = ab(m+n)$  (4)

(3) და (4) ტოლობის გათვალისწინებით მივიღებთ, რომ

$ab = l^2 + mn$  ანუ  $l^2 = ab - mn$ .

ბ) განვიხილოთ  $\Delta ABD$ ,  $S_{\Delta ABD} = \frac{1}{2}al \sin \frac{\angle BAC}{2}$ , ანალოგიურად

$S_{\Delta ADC} = \frac{1}{2}bl \sin \frac{\angle BAC}{2}$ , ხოლო  $S_{\Delta ABC} = \frac{1}{2}ab \sin \angle BAC$ .

$S_{\Delta ABC} = S_{\Delta ABD} + S_{\Delta ADC}$ .  $\frac{1}{2}al \sin \frac{\angle BAC}{2} + \frac{1}{2}bl \sin \frac{\angle BAC}{2} = \frac{1}{2}ab \sin \angle BAC \Rightarrow$

$\Rightarrow l \sin \frac{\angle BAC}{2} (a+b) = ab \sin \angle BAC$ .

$l \sin \frac{\angle BAC}{2} (a+b) = 2ab \sin \frac{\angle BAC}{2} \cos \frac{\angle BAC}{2} \Rightarrow l = \frac{2ab}{a+b} \cos \frac{\angle BAC}{2}$ .

გ) რადგან  $S_{\Delta ABC} = S_{\Delta ABD} + S_{\Delta ADC}$ , ხოლო

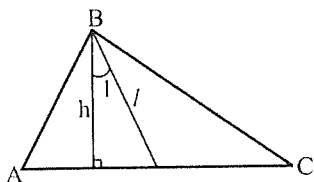
$$S_{\Delta ABD} = \frac{1}{2} al \sin \frac{\angle BAC}{2} \quad \text{და} \quad S_{\Delta ADC} = \frac{1}{2} bl \sin \frac{\angle BAC}{2} .$$

$$\text{ე.ი. } S_{\Delta ABC} = \frac{1}{2} l \sin \frac{\angle BAC}{2} (a + b) .$$

### №44

კუთხე ერთი წვეროდან გავლებულ სიმაღლესა და ბისექტრისას შორის ასე გამოითვლება:

$$\angle 1 = \frac{|\angle A - \angle C|}{2}$$



დამტკიცება:  $\angle A \equiv \alpha$ ,  $\angle C \equiv \beta$ . მახვილკუთხა სამკუთხედში  $\angle ABM = 90^\circ - \alpha$ ,

$\angle ABN = 90^\circ - \alpha + \angle 1$ . რადგან  $l$  ბისექტრისაა

$\angle ABN = \angle NBC = 90^\circ - \alpha + \angle 1$ , ხოლო  $\angle ABC =$

$2(90^\circ - \alpha + \angle 1)$ .  $\Delta ABC$ -ში

$$2(90^\circ - \alpha + \angle 1) + \alpha + \beta = 180^\circ$$

$$2\angle 1 - \alpha + \beta = 0$$

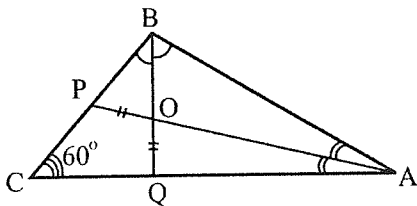
$$\angle 1 = \frac{|\alpha - \beta|}{2} = \frac{|\angle A - \angle C|}{2}$$

ფორმულის ჭეშმარიტება ანალოგიურად მტკიცდება ბლაგვკუთხა სამკუთხედის შემთხვევაშიც.

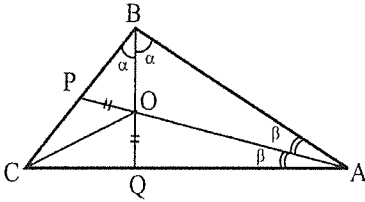
### №45

$\Delta ABC$ -ში  $\angle C = 60^\circ$  და  $AP$  და  $BQ$  ბისექტრისები  $O$  წერტილში იკვეთებიან, მაშინ

$$OP = OQ$$



დამტკიცება:  $\angle BCA = 60^\circ$ , ამიტომ  $\triangle ABC$ -ში  $2\alpha + 2\beta + 60^\circ = 180^\circ$ ,



აქედან  $\alpha + \beta = 60^\circ$ . ხოლო  $\triangle BOA$ -ში

$$\angle BOA = 180^\circ - (\alpha + \beta) = 120^\circ.$$

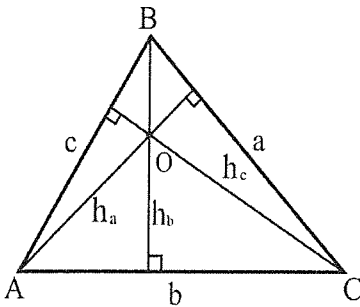
$\angle BOA = \angle POQ = 120^\circ$ , როგორც

ვერტიკალური კუთხეები.

რადგან  $\angle PCQ = 60^\circ$ , ამიტომ

$\angle PCQ + \angle POQ = 180^\circ$ . მოპირდაპირე კუთხეების ჯამი  $CPOQ$  ოთხკუთხედში  $180^\circ$ -ია, ანუ ამ ოთხკუთხედზე შეიძლება წრეწირის შემოსახვა. თუ წრეწირს შემოვსახავთ, რადგან  $\angle PCO = \angle OCQ = 30^\circ$  მივიღებთ, რომ  $PO$  და  $OQ$  ტოლი რკალების მომჭიმბავე ქორდებია, ე.ი.  $OP=OQ$ .

### №46-47



ა) სამკუთხედის ფართობი შემოსახული წრეწირის რადიუსითა და სიმაღლეებით ასე გამოითვლება:

$$S_{\triangle ABC}^2 = \frac{1}{2} R h_a h_b h_c$$

ბ) სამკუთხედში ჩახსული წრეწირის რადიუსსა და სიმაღლეებს შორის ასეთი დამოკიდებულებაა:

$$\frac{1}{r} = \frac{1}{h_a} + \frac{1}{h_b} + \frac{1}{h_c}$$

დამტკიცება: ა)  $S_{\triangle ABC} = \frac{1}{2} h_a a$ ,  $S_{\triangle ABC} = \frac{1}{2} h_b b$ ,  $S_{\triangle ABC} = \frac{1}{2} h_c c$

გადავამრავლოთ ეს ტოლობები ერთმანეთზე, მივიღებთ:

$$S_{\triangle ABC}^3 = \frac{1}{8} a h_a b h_b c h_c$$

$S_{\triangle ABC}^3 = \frac{1}{2} \cdot \frac{abc}{4} h_a h_b h_c$  გავყოთ ეს ტოლობა  $S$ -ზე

$S_{\triangle ABC}^2 = \frac{1}{2} \cdot \frac{abc}{4S} h_a h_b h_c$ , რადგან  $\frac{abc}{4S} = R$ , ამიტომ  $S_{\triangle ABC}^2 = \frac{1}{2} \cdot R h_a h_b h_c$

ბ) უნდა დავამტკიცოთ, რომ  $\frac{1}{r} = \frac{1}{h_a} + \frac{1}{h_b} + \frac{1}{h_c}$ .

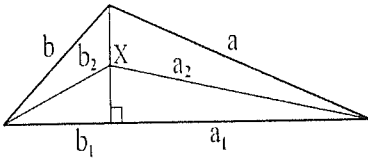
გარდავიქნათ ტოლობის მარცხენა მხარე:  $\frac{1}{r} = \frac{p_\Delta}{2S_\Delta}$  (იხ. №13)

$S_\Delta = \frac{1}{2}ah_a$ ,  $S_\Delta = \frac{1}{2}hb_b$ ,  $S_\Delta = \frac{1}{2}hc_c$  აქედან  $a = \frac{2S_\Delta}{h_a}$ ,  $b = \frac{2S_\Delta}{h_b}$ ,  $c = \frac{2S_\Delta}{h_c}$ .

$$p_\Delta = a + b + c = \frac{2S_\Delta}{h_a} + \frac{2S_\Delta}{h_b} + \frac{2S_\Delta}{h_c} = 2S_\Delta \left( \frac{1}{h_a} + \frac{1}{h_b} + \frac{1}{h_c} \right)$$

$$\frac{1}{r} = \frac{p_\Delta}{2S_\Delta} = 2S_\Delta \cdot \frac{\left( \frac{1}{h_a} + \frac{1}{h_b} + \frac{1}{h_c} \right)}{2S_\Delta} = \frac{1}{h_a} + \frac{1}{h_b} + \frac{1}{h_c}$$

### №48-49

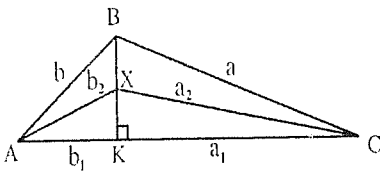


სამკუთხედის სიმაღლის ნებისმიერ  
წერტილისათვის:

ა)  $a^2 - b^2 = a_1^2 - b_1^2$

ბ)  $a^2 - b^2 = a_2^2 - b_2^2$

დამტკიცება: ა) პითაგორას თეორემის თანახმად:



$\Delta BKC$ -დან  $a^2 = a_1^2 + BK^2$

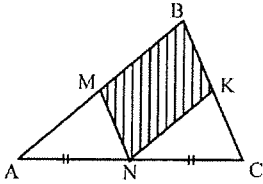
$\Delta BKA$ -დან  $b^2 = b_1^2 + BK^2$

$$a^2 - b^2 = a_1^2 + BK^2 - b_1^2 - BK^2 = a_1^2 - b_1^2$$

ბ)  $\Delta AXK$ -დან  $b_2^2 = b_1^2 + XK^2$ . ანალოგიურად,

$\Delta KXC$ -დან  $a_2^2 = a_1^2 + XK^2$  ე.ი.  $a_2^2 - b_2^2 = a_1^2 - b_1^2 = a^2 - b^2$

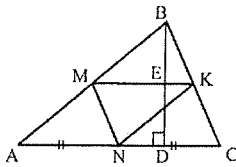
№50



N სამკუთხედის გვერდის შუაწერტილია. აგებულია პარალელოგრამი, მაშინ

$$S_{\text{პარალ}} = \frac{1}{2} S_{\Delta ABC}$$

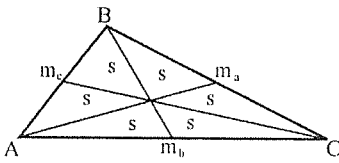
დამტკიცება:  $NK \parallel AB$ .  $AN = NC$  და თაღესის თეორემის თანახმად  $KC = BK$ . ანალოგიურად,  $AM = MB$ . ამ ორი ტოლობიდან გამოდინარე  $MK$  შუახაზია და  $MK = \frac{AC}{2}$ , ასევე  $BE = \frac{BD}{2}$ .



$$S_{\Delta ABC} = \frac{1}{2} BD \cdot AC.$$

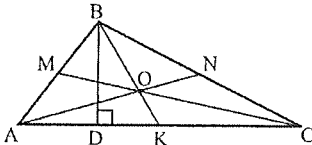
რადგან  $MNKB$  პარალელოგრამია  $S_{MNKB} = 2S_{\Delta MBK} = 2 \cdot \frac{BE \cdot MK}{2} = BE \cdot MK = \frac{BD}{2} \cdot \frac{AC}{2} = \frac{1}{4} BD \cdot AC$  ანუ  $S_{MNKB} = \frac{1}{2} S_{\Delta ABC}$ .

№51



მედიანების გავლებით მიღებული ექვსეუ საკუთხედი ტოლდიდია

დამტკიცება:  $AN = m_a$ ,  $BK = m_b$ ,  $CM = m_c$ . რადგან  $AK = KC$  და  $BD \cdot AK = BD \cdot KC$ , ამიტომ  $S_{\Delta ABK} = S_{\Delta KBC}$ . აქედან



გამოდინარე,  $S_{\Delta ABK} = \frac{S_{\Delta ABC}}{2}$ . მედიანები გადაკვეთის წერტილით იყოფა შუფარდებით 2:1. წევროს მხრიდან, ანუ  $\Delta ABK$ -ში  $\frac{S_{\Delta ABO}}{S_{\Delta AOK}} = \frac{2}{1}$ ,

$S_{\Delta ABO} = 2S_{\Delta AOK}$  (1).  $\Delta ABO$ -ში  $OM$  მედიანაა  $S_{\Delta ABO} = 2S_{\Delta AMO} = 2S_{\Delta MBO}$  (2).

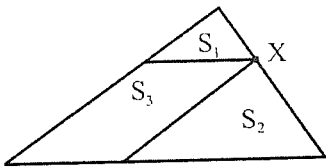
(1) და (2) ტოლობას თუ გაეითვალისწინებთ:

$$S_{\Delta AOK} = S_{\Delta AMO} = S_{\Delta MOB} = \frac{S_{\Delta AOB}}{2}$$

ანალოგიური მსჯელობით,  $\Delta BKC$ -თვის  $S_{\Delta BON} = S_{\Delta NOC} = S_{\Delta KOC} = \frac{S_{\Delta BOC}}{2}$ .  
 $\Delta AOC$ -ში  $OK$  შედინა და  $S_{\Delta AOK} = S_{\Delta KOC}$ . ე.ი.

$$S_{\Delta AOK} = S_{\Delta AMO} = S_{\Delta MOB} = S_{\Delta BON} = S_{\Delta NOC} = S_{\Delta KOC}$$

### №52



სამკუთხედის გვერდის ნებისმიერი  $X$  წერტილისათვის აგებული პარალელოგრამი, მაშინ :

$$S_3 = 2\sqrt{S_1 S_2}$$

დამტკიცება: განვიხილოთ  $\Delta EBX$  და  $\Delta FXC$ . რადგან  $FX \parallel AB$ , ამიტომ

$\angle XFC = \angle A = \angle BEX$ . ანალოგიურად,  $EX \parallel AC$ ,

ამიტომ  $\angle BXE = \angle C$ . აქედან გამომდინარე,

$\Delta BEX \sim \Delta XFC$ . მსგავსებიდან გამომდინარეობს,

რომ  $\frac{S_1}{S_2} = \frac{EX^2}{FC^2}$ , ხოლო რადგანაც  $EX = AF$ ,

ამიტომ  $\frac{S_1}{S_2} = \frac{EX^2}{FC^2} = \frac{AF^2}{FC^2} \Rightarrow \frac{FC}{AF} = \frac{\sqrt{S_2}}{\sqrt{S_1}}$ .

რადგან  $AEXF$  პარალელოგრამია, ამიტომ  $S_{\Delta AEF} = S_{\Delta EXF} = \frac{S_3}{2}$ .

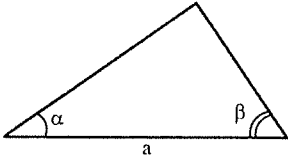
$EX \parallel AC$ , ამიტომ  $\Delta AEF$ -ში  $E$  წვეროდან დაშვებული სიმაღლე ტოლია  $\Delta FXC$ -ში

$X$  წვეროდან დაშვებული სიმაღლის. ე.ი.  $\frac{S_{\Delta FXC}}{S_{\Delta AEF}} = \frac{S_2}{\frac{S_3}{2}} = \frac{FC}{AF} = \frac{\sqrt{S_2}}{\sqrt{S_1}} \Rightarrow$

$$\Rightarrow S_3 = \frac{2S_2 \cdot \sqrt{S_1}}{\sqrt{S_2}} \Rightarrow S_3 = 2\sqrt{S_1 S_2}.$$



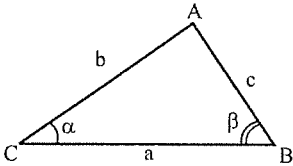
№53



სამკუთხედის ფართობი გვერდითა და მასთან მდებარე კუთხეებით ასე გამოითვლება:

$$S_{\Delta} = a^2 \frac{\sin \alpha \sin \beta}{2 \sin(\alpha + \beta)}$$

დამტკიცება:  $\angle CAB = 180^\circ - (\alpha + \beta)$ .  $\sin \angle CAB = \sin[180^\circ - (\alpha + \beta)] = \sin(\alpha + \beta)$ .

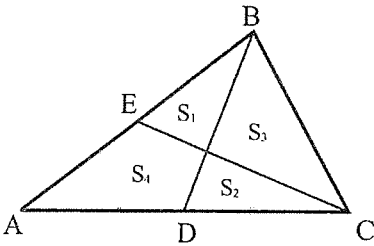


სინუსების თეორემის თანახმად,  $\frac{a}{\sin(\alpha + \beta)} = \frac{c}{\sin \alpha}$

ე.ი.  $c = \frac{a \sin \alpha}{\sin(\alpha + \beta)}$ , ხოლო  $S_{\Delta} = \frac{1}{2} ac \sin \beta =$

$$= \frac{1}{2} a \frac{a \sin \alpha}{\sin(\alpha + \beta)} \sin \beta = \frac{a^2 \sin \alpha \sin \beta}{2 \sin(\alpha + \beta)}$$

№54-55

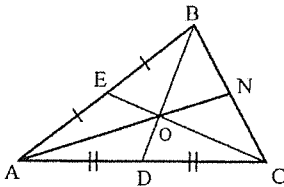


სამკუთხედში გავლებულია ორი მედიანა, მაშინ

ა)  $S_1 = S_2$

ბ)  $S_3 = S_4$

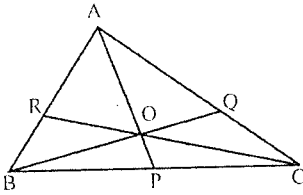
დამტკიცება: ა) გაველოთ მესამე მედიანა. თუ სამკუთხედში გავლებულია სამი მედიანა ექვსივე სამკუთხედი ტოლდრია (იხ. №51), ანუ  $S_1 = S_2$ .



ბ) რადგან  $S_{\Delta AOE} = S_{\Delta ADO} = S_{\Delta BON} = S_{\Delta NOC}$ , ამიტომ  $S_{\Delta AOE} + S_{\Delta ADO} = S_{\Delta BON} + S_{\Delta NOC}$ , ანუ

$$S_3 = S_4$$

№56 (ჩვეის თეორემა)



$AP, CR$  და  $BQ$  ნებისმიერი გადაშკვეთი მონაკვეთებია, მაშინ

$$\frac{BR}{AR} \cdot \frac{AQ}{CQ} \cdot \frac{CP}{BP} = 1$$

დამტკიცება:  $AP, BQ$  და  $CR$  მონაკვეთები ყოფენ  $\triangle ABC$ -ს 6 სამკუთხედად:

$\triangle AOR, \triangle ROB, \triangle BOP, \triangle POC, \triangle COQ$  და  $\triangle QOA$ .

გავითვალისწინოთ ფორმულა

$$\sin(180^\circ - \alpha) = \sin \alpha \text{ და ასევე}$$

ვერტიკალური კუთხეების

თვისება, თითოეული მათგანისთვის

დავწეროთ სინუსების თეორემა:

$$\frac{AR}{\sin \varphi} = \frac{AO}{\sin \gamma}, \quad \frac{AO}{\sin \beta} = \frac{AQ}{\sin \psi},$$

$$\frac{BO}{\sin \gamma} = \frac{BR}{\sin(\varphi + \psi)}, \quad \frac{BP}{\sin \psi} = \frac{BO}{\sin \alpha},$$

$$\frac{CQ}{\sin(\varphi + \psi)} = \frac{CO}{\sin \beta}, \quad \frac{CO}{\sin \alpha} = \frac{CP}{\sin \varphi}.$$

დავწეროთ იგივეობა  $\frac{AO}{\sin \gamma} \cdot \frac{BO}{\sin \alpha} \cdot \frac{CO}{\sin \beta} = \frac{BO}{\sin \gamma} \cdot \frac{AO}{\sin \beta} \cdot \frac{CO}{\sin \alpha}$ , ჩავსვათ ზემოთ

მიღებული მნიშვნელობები იგივეობაში, მივიღებთ:  $\frac{AR}{\sin \varphi} \cdot \frac{BP}{\sin \psi} \cdot \frac{CQ}{\sin(\varphi + \psi)} =$

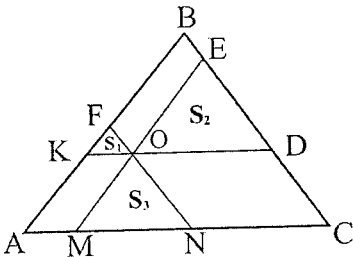
$$\frac{BR}{\sin(\varphi + \psi)} \cdot \frac{AQ}{\sin \psi} \cdot \frac{CP}{\sin \varphi} \Rightarrow AR \cdot BP \cdot CQ = BR \cdot AQ \cdot CP. \text{ ე.ი. } \frac{BR}{AR} \cdot \frac{AQ}{CQ} \cdot \frac{CP}{BP} = 1.$$

№57-58

$O$  სამკუთხედის ნებისმიერი შიგა წერტილია. გავლებულია პარალელური წრფეები, მაშინ

ა)  $S_{\triangle ABC} = (\sqrt{S_1} + \sqrt{S_2} + \sqrt{S_3})^2$

ბ)  $\frac{AK}{AB} + \frac{BE}{BC} + \frac{CN}{CA} = 1$

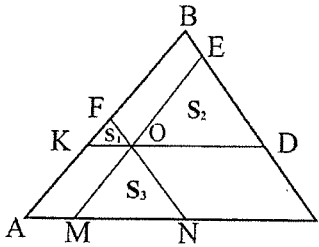


დამტკიცება: ა) მოცემული სამკუთხედის ფართობი აღენიშნოთ  $S$ -ით.

პირობიდან გამომდინარე, თითოეული პატარა სამკუთხედი მსგავსია  $\triangle ABC$ -სი, ამიტომ მათი ფართობების შეფარდება ტოლია შესაბამისი გვერდების სიგრძეთა კვადრატების

$$\text{შეფარდების: } \sqrt{\frac{S_1}{S}} = \frac{KO}{AC} = \frac{AM}{AC}, \quad \sqrt{\frac{S_2}{S}} = \frac{OD}{AC} = \frac{NC}{AC},$$

$$\sqrt{\frac{S_3}{S}} = \frac{MN}{AC}, \quad (AM = KO, NC = OD).$$



$$\sqrt{\frac{S_1}{S}} + \sqrt{\frac{S_2}{S}} + \sqrt{\frac{S_3}{S}} = \frac{AM+MN+NC}{AC} = 1 \Rightarrow$$

$$\Rightarrow \sqrt{S} = \sqrt{S_1} + \sqrt{S_2} + \sqrt{S_3} \Rightarrow S_{\triangle ABC} = (\sqrt{S_1} + \sqrt{S_2} + \sqrt{S_3})^2$$

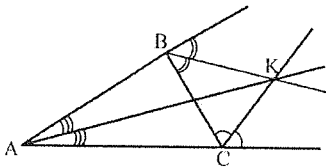
ბ) რადგან  $EM, FN$  და  $KD$  შესაბამის გვერდთა პარალელური მონაკვეთები

არიან, ამიტომ  $\frac{AK}{AB} = \frac{OM}{AB} = \frac{ON}{BC} = \frac{DC}{BC}$  და  $\frac{CN}{CA} = \frac{OD}{CA}$  (1).

$\triangle OED \sim \triangle ABC \Rightarrow$  (ტოლობა (1)-ის გათვალისწინებით)  $\frac{OD}{CA} = \frac{ED}{BC} = \frac{CN}{CA}$ .

შესაბამისად,  $\frac{AK}{AB} + \frac{BE}{BC} + \frac{CN}{CA} = \frac{DC}{BC} + \frac{BE}{BC} + \frac{ED}{BC} = 1$ .

### №59



$\triangle ABC$  -ს გარე კუთხეების  $BK$  და  $CK$  ბისექტრისების გადაკვეთის წერტილი  $A$  კუთხის ბისექტრისის შემცველ წრფეზე მდებარეობს.

დამტკიცება: დავუშვათ  $K$  წერტილიდან მართობები  $AF$ -ზე,  $BC$ -სა და  $AP$ -ზე.

კუთხის ბისექტრისა თანაბრად არის დაშორებული

კუთხის გვერდებიდან. რადგანაც  $CM$  ბისექტრისაა,

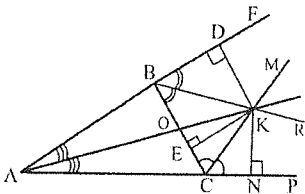
ამიტომ  $KN = EK$ . ანალოგიურად,  $BR$  ბისექტრისაა

და  $DK = EK$ . ე.ი.  $DK = NK$ . რადგანაც  $K$  წერტილი

თანაბრად არის დაშორებული  $\angle FAP$ -ს

გვერდებიდან, ამიტომ ის ამ კუთხის ბისექტრისის

შემცველ წრფეზე ძეხს. ე.ი.  $AK$  ბისექტრისაა.



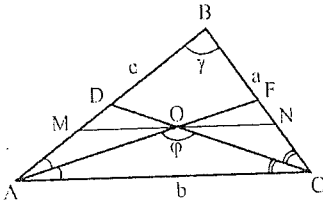
№60-61

ა) სამკუთხედში ბისექტრისებს შორის მდებარე  $\varphi$  კუთხისათვის

$$\varphi = 90^\circ + \frac{\gamma}{2}$$

ბ) სამკუთხედის ბისექტრისების გადაკვეთის წერტილზე გავლებული გვერდის პარალელური  $MN$  მონაკვეთისთვის:

$$MN = \frac{b(a+c)}{a+b+c}$$

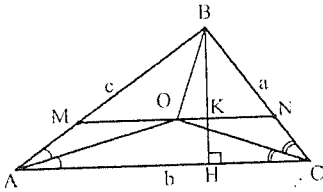


დამტკიცება: ა)  $\angle BAF = \angle FAC \equiv \alpha$ ,  $\angle BCD = \angle DCA \equiv \beta$ .  $2\alpha + 2\beta = 180^\circ - \gamma$ .

$\alpha + \beta = 90^\circ - \frac{\gamma}{2}$  (1). განვიხილოთ  $\triangle AOC$ .  $\alpha + \beta =$

$180 - \varphi$ , (1) ტოლობის გათვალისწინებით

$180 - \varphi = 90^\circ - \frac{\gamma}{2}$  ე.ი.  $\varphi = 90^\circ + \frac{\gamma}{2}$ .



ბ) რადგან  $MN \parallel AC$ , ამიტომ  $\triangle ABC \sim \triangle MBN$ .

მსგავსებიდან გამომდინარე,  $\frac{MN}{AC} = \frac{BK}{BH}$ .

გავითვალისწინოთ, რომ  $O$  ჩახასული წრეწირის ცენტრია, ხოლო  $HK = r$ .

$$\frac{MN}{b} = \frac{h-r}{h} = 1 - \frac{r}{h} = 1 - \frac{\frac{s_{\Delta}}{p_{\Delta}}}{\frac{2s_{\Delta}}{b}} = 1 - \frac{b}{p_{\Delta}} = 1 - \frac{b}{a+b+c} = \frac{a+c}{a+b+c} \Rightarrow$$

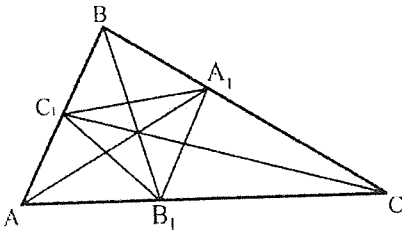
$$\Rightarrow MN = \frac{b(a+c)}{a+b+c}$$

№62

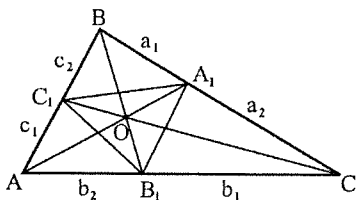
სამკუთხედში გავლებულია სამი ბისექტრისა. ვთქვათ

$AB:BC:AC = p:q:l$ , მაშინ

$$\frac{S_{\triangle A_1 B_1 C_1}}{S_{\triangle ABC}} = \frac{2pql}{(p+q)(p+l)(q+l)}$$



დამტკიცება: ბისექტრისის თვისებიდან გამომდინარე გვაქვს:



$$\begin{cases} a_1 + a_2 = a \\ \frac{a_1}{a_2} = \frac{c}{b} \end{cases}$$

ამ სისტემის ამოხსნით მივიღებთ:  $a_1 = \frac{ac}{b+c}$ ,

$a_2 = \frac{ab}{b+c}$ . ანალოგიურად,  $\Delta ABC$ -ს  $b$  და  $c$

გვერდებისათვის გვექნება:  $b_1 = \frac{ba}{c+a}$ ,

$b_2 = \frac{bc}{c+a}$ ,  $c_1 = \frac{cb}{a+b}$ ,  $c_2 = \frac{ca}{a+b}$ . საერთო კუთხის მქონე სამკუთხედების

ფართობების შეფარდება ტოლია იმ გვერდების ნამრაველთა შეფარდებისა, რომელთა შორისაც ეს კუთხე მდებარეობს. შესაბამისად,

$$\frac{S_{\Delta A_1 B_1 C_1}}{S_{\Delta ABC}} = \frac{c_1 b_2}{cb} = \frac{bc}{(a+b)(a+c)}, \quad \frac{S_{\Delta A_1 B_1 C_1}}{S_{\Delta ABC}} = \frac{ac}{(a+b)(b+c)}, \quad \frac{S_{\Delta A_1 B_1 C_1}}{S_{\Delta ABC}} = \frac{ab}{(a+c)(b+c)}.$$

$$\frac{S_{\Delta A_1 B_1 C_1}}{S_{\Delta ABC}} = \frac{S_{\Delta ABC} - (S_{\Delta A_1 B_1 C} + S_{\Delta A_1 B C_1} + S_{\Delta A B_1 C_1})}{S_{\Delta ABC}} =$$

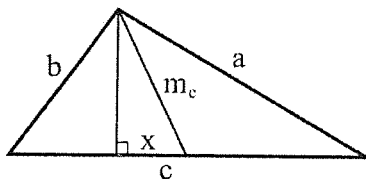
$$= 1 - \left( \frac{S_{\Delta A_1 B_1 C}}{S_{\Delta ABC}} + \frac{S_{\Delta A_1 B C_1}}{S_{\Delta ABC}} + \frac{S_{\Delta A B_1 C_1}}{S_{\Delta ABC}} \right) =$$

$$= 1 - \frac{ab}{(a+c)(b+c)} - \frac{ac}{(a+b)(b+c)} - \frac{bc}{(a+b)(a+c)}.$$

ტოლობის გაერთმნის შენედიანებითა და გამარტივებით მივიღებთ:

$$\frac{S_{\Delta A_1 B_1 C_1}}{S_{\Delta ABC}} = \frac{2abc}{(a+b)(a+c)(b+c)} = \frac{2pql}{(p+q)(p+l)(q+l)}$$

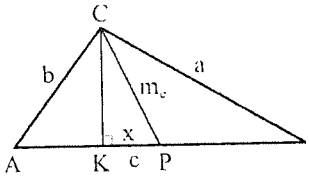
### №63



თუ  $X$  არის მედიანის გვემილი სამკუთხედის  $c$  სიგრძის მქონე გვერდზე, მაშინ

$$|a^2 - b^2| = 2cx$$

დამტკიცება: განვიხილოთ  $\triangle BCK$  და  $\triangle ACK$ . გამოვსახოთ  $CK$  სიმაღლე.



$$CK^2 = a^2 - \left(\frac{c}{2} + x\right)^2 \quad (1)$$

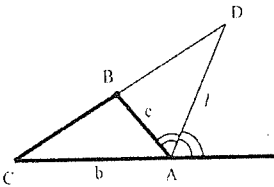
$$CK^2 = b^2 - \left(\frac{c}{2} - x\right)^2 \quad (2)$$

(1) ტოლობას გამოვკლებთ (2), მივიღებთ:

$$a^2 - b^2 - \left(\frac{c}{2} + x\right)^2 + \left(\frac{c}{2} - x\right)^2 = 0 \Rightarrow a^2 - b^2 = \left(\frac{c}{2}\right)^2 + cx + x^2 - \left(\frac{c}{2}\right)^2 + cx - x^2.$$

$$|a^2 - b^2| = 2cx$$

### №64



$ABC$  სამკუთხედის გარე კუთხის ბისექტრისის მონაკვეთის სიგრძე  $CB$  გვერდის გაგრძელების გადაკვეთამდე ასე გამოითვლება:

$$l = \frac{2bc \sin \frac{\angle CAB}{2}}{b - c}$$

დამტკიცება: ზოგადობის შეუხლუღადავ დაუეშვათ, რომ  $b > c$ .

$\angle CAB \equiv \alpha$ , მაშინ  $S_{\triangle CAD}$  შეიძლება გამოვსახოთ  $b$  და  $l$  გვერდებითა და  $\sin \angle CAD$ -ს საშუალებით, ან  $\triangle ABC$ -სა და  $\triangle ABD$ -ს ფართობთა ჯამის სახით.

$$S_{\triangle CAD} = \frac{1}{2}bl \sin \angle CAD = \frac{1}{2}bl \sin(\angle CAB + \angle BAD) = \frac{1}{2}bl \sin\left(\alpha + \frac{180^\circ - \alpha}{2}\right) =$$

$$= \frac{1}{2}bl \sin\left(90^\circ + \frac{\alpha}{2}\right). \text{ აგრეთვე } S_{\triangle CAD} = S_{\triangle ABC} + S_{\triangle ABD} =$$

$$= \frac{1}{2}bc \sin \alpha + \frac{1}{2}cl \sin\left(\frac{180^\circ - \alpha}{2}\right) = \frac{1}{2}bc \sin \alpha + \frac{1}{2}cl \sin\left(90^\circ - \frac{\alpha}{2}\right)$$

$$\text{ი.ე. } \frac{1}{2}bl \sin\left(90^\circ + \frac{\alpha}{2}\right) = \frac{1}{2}bc \sin \alpha + \frac{1}{2}cl \sin\left(90^\circ - \frac{\alpha}{2}\right)$$

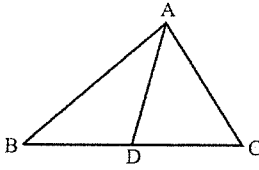
$$bl \sin\left(90^\circ + \frac{\alpha}{2}\right) - cl \sin\left(90^\circ - \frac{\alpha}{2}\right) = bc \sin \alpha$$

$$bl \cos \frac{\alpha}{2} - cl \cos \frac{\alpha}{2} = bc \sin \alpha \Rightarrow l \cos \frac{\alpha}{2}(b - c) = 2 \sin \frac{\alpha}{2} \cos \frac{\alpha}{2} bc, \text{ რადგან}$$

სამკუთხედში  $\cos \frac{\alpha}{2}$  არ შეიძლება 0-ის ტოლი გახდეს, ამიტომ

$$l = \frac{2bc \sin \frac{\angle CAB}{2}}{b - c}$$

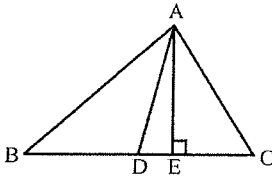
№65 (სტიუარტის თეორემა)



$D$  სამკუთხედის გვერდის ნებისმიერი წერტილია, მაშინ

$$AB^2 \cdot DC + AC^2 \cdot BD - AD^2 \cdot BC = BC \cdot DC \cdot BD$$

დამტკიცება:  $A$  წერტილიდან  $BC$  მონაკვეთზე დაეშვათ  $AE$  მართობი.



მიღებული 3 მართკუთხა სამკუთხედისათვის:

$$AB^2 = BE^2 + AE^2 = (BD + DE)^2 + AE^2;$$

$$AC^2 = CE^2 + AE^2 = (CD - DE)^2 + AE^2;$$

$$AD^2 = DE^2 + AE^2.$$

გამოვთვალოთ  $AB^2 \cdot DC + AC^2 \cdot BD - AD^2 \cdot BC$ .

$$AB^2 \cdot DC + AC^2 \cdot BD - AD^2 \cdot BC =$$

$$= [(BD + DE)^2 + AE^2]DC + [(CD - DE)^2 + AE^2]BD - (DE^2 + AE^2)BC =$$

$$= BD^2DC + 2BD \cdot DE \cdot DC + (DE^2 + AE^2)DC + CD^2BD - 2CD \cdot DE \cdot BD + (DE^2 +$$

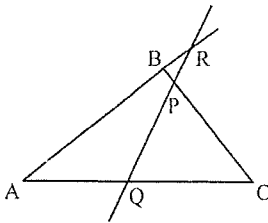
$$+ AE^2)BD - (DE^2 + AE^2)BC = (DE^2 + AE^2)(DC + BD - BC) + DC \cdot BD^2 + BD \cdot CD^2$$

რადგანაც  $DC + BD - BC = 0$ ,  $AB^2 \cdot DC + AC^2 \cdot BD - AD^2 \cdot BC =$

$$= DC \cdot BD^2 + BD \cdot CD^2 = (BD + CD)CD \cdot BD = BC \cdot DC \cdot BD$$

$$AB^2 \cdot DC + AC^2 \cdot BD - AD^2 \cdot BC = BC \cdot DC \cdot BD.$$

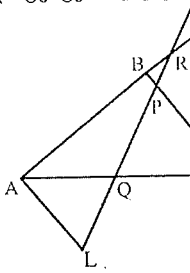
№66 (მენელაოსის თეორემა)



$PQ$  წრფე კვეთს  $ABC$  სამკუთხედის გვერდების შემცველ წრფეებს, მაშინ

$$BR \cdot PC \cdot QA = AR \cdot BP \cdot CQ$$

დამტკიცება: გაეყვანოთ  $BC$  მონაკვეთის პარალელური  $AL$ .  $\Delta RAL \sim \Delta RBP$ ,



ამიტომ  $\frac{BR}{AR} = \frac{BP}{AL}$ . ე.ი.  $\frac{BR \cdot AL}{AR \cdot BP} = 1$  (1).

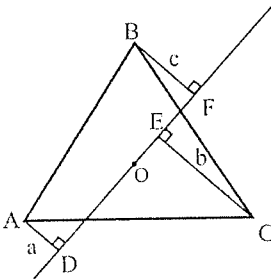
$\Delta AQL \sim \Delta CQP$ , ამიტომ  $\frac{AL}{PC} = \frac{AQ}{QC}$ . ე.ი.  $AL = \frac{AQ \cdot PC}{QC}$ .

$AL$  მნიშვნელობა გავითვალისწინოთ (1)

ტოლობაში, მივიღებთ:  $\frac{BR \cdot AQ \cdot PC}{AR \cdot BP \cdot QC} = 1 \Rightarrow$

$\Rightarrow BR \cdot PC \cdot QA = AR \cdot BP \cdot CQ$

### №67



წესიერ სამკუთხედში  $O$  ცენტრია.  $AB$   $O$ -ზე გამავალი ნებისმიერი გადაშტევითი წრფეა, მაშინ შემოსახული წრეწირის რადიუსი ასე გამოითვლება:

$$R^2 = \frac{2}{3}(a^2 + b^2 + c^2)$$

დამტკიცება:  $\angle AOD$  აღვნიშნოთ  $\alpha$ -თი. რადგან  $\angle AOB$  და  $\angle BOC$   $120^\circ$ -ს

ტოლია, ამიტომ  $\angle BOF$  და  $\angle COE$  შესაბამისად ტოლია  $(60^\circ - \alpha)$ -სა და  $(60^\circ + \alpha)$ -სი.

$\Delta AOD$ -დან  $a = R \sin \alpha$ ,  $\Delta BOF$ -ში  $c = R \sin(60^\circ - \alpha)$ , ხოლო  $\Delta OEC$ -ში  $b = R \sin(60^\circ + \alpha)$ . ე.ი.  $a^2 + b^2 + c^2 = R^2 \sin^2 \alpha + R^2 \sin^2(60^\circ + \alpha) + R^2 \sin^2(60^\circ - \alpha)$  (1).

თუ გავითვალისწინებთ, რომ  $\sin^2 \alpha = \frac{1 - \cos 2\alpha}{2}$  და გარდავაქმნით (1) ტოლობას, მივიღებთ:

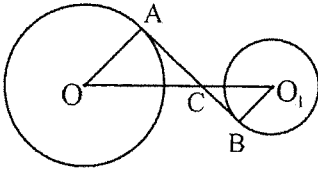
$$a^2 + b^2 + c^2 = \frac{R^2}{2} [1 - \cos 2\alpha + 1 - \cos(120^\circ + 2\alpha) + 1 - \cos(120^\circ - 2\alpha)] =$$

$$= \frac{R^2}{2} (3 - \cos 2\alpha - 2 \cos 120^\circ \cos 2\alpha) = \frac{R^2}{2} \left( 3 - \cos 2\alpha + 2 \cos 2\alpha \cdot \frac{1}{2} \right) = \frac{3}{2} R^2.$$



## რამდენიმე წრეწირი

№68



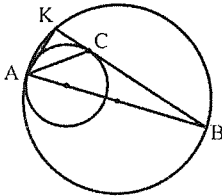
თუ ორი წრეწირის ცენტრებს შორის მანძილი რადიუსების ჯამს აღემატება, მაშინ

$$OO_1^2 = AB^2 + (R + r)^2$$

დამტკიცება:  $AB$  მხებია, ამიტომ  $OA \perp AB$ . ასევე  $O_1B \perp AB$ .  $OAC$  და  $O_1BC$  მსგავსი მართკუთხა სამკუთხედებია, რომელთათვის ადგილი აქვს შემდეგ ტოლობას:  $(OC + O_1C)^2 = (AC + CB)^2 + (OA + O_1B)^2$  (იხ. №28), სადაც  $OC + O_1C = OO_1$ ,  $OA = R$ ,  $O_1B = r$ , ხოლო  $AC + CB = AB$  ე.ი.

$$OO_1^2 = AB^2 + (R + r)^2$$

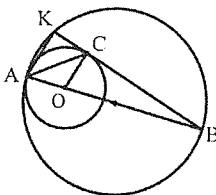
№69



გაელეებულება  $AB$  დიამეტრი და  $BCK$  მხები, რომელიც დიდი წრეწირის ქორდაა, მაშინ

$$\angle KAC = \angle BAC$$

დამტკიცება: პატარა წრეწირის ცენტრი აღენიშნოთ  $O$ -თი. რადგან  $AK \perp BK$

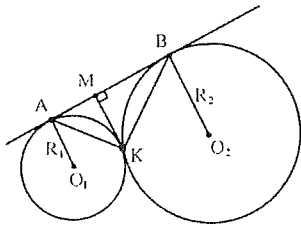


და  $OC \perp BK$ , ამიტომ  $AK \parallel OC$ . ამასთან  $OA = OC$  და

შესაბამისად  $\angle ACO = \angle OAC$ .  $KAC$  და  $ACO$

შიგაჯვარედინად მდებარე კუთხეებია, მაშასადამე

$$\angle KAC = \angle ACO = \angle OAC = \angle BAC.$$

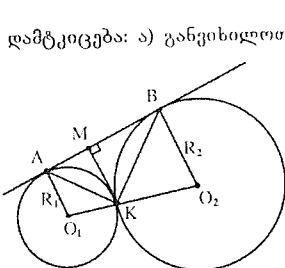


$K$  წრეწირების შეხების წერტილია. თუ  $KM \perp AB$ , მაშინ

ა)  $\angle AKB = 90^\circ$

ბ)  $\frac{1}{R_1} + \frac{1}{R_2} = \frac{2}{KM}$

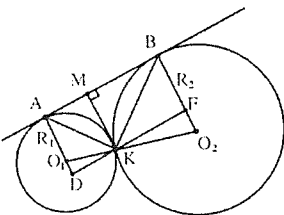
გ)  $AB = 2\sqrt{R_1 \cdot R_2}$



დამტკიცება: ა) განვიხილოთ  $\triangle KMB$ .  $\angle KBM = \frac{KB}{2}$ ,  $\angle MKB = \frac{KB}{2}$ .

ე.ი.  $\angle KBM = \angle MKB$ . რადგან  $\angle KMB = 90^\circ$ , ამიტომ  $\angle KBM = \angle MKB = 45^\circ$ , ანალოგიურად  $\triangle AMK$ -ში  $\angle MAK = \angle MKA = 45^\circ$ .  $\angle AKB = \angle MKA + \angle MKB = 90^\circ$ .

ბ) გვაეგლოთ  $AB$  საერთო მხების პარალელური  $DF$  მონაკვეთი, წრეწირების შეხების  $K$  წერტილზე. ცხადია,  $AD \perp DF$  და  $DF \perp BO_2$  რადგან  $\angle DKO_1$  და  $\angle O_2KF$  ვერტიკალური



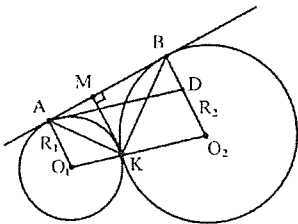
კუთხეები არიან, ამიტომ  $\angle DKO_1 = \angle O_2KF$ . ე.ი.  $\triangle DKO_1 \sim \triangle O_2KF$ . მსგავსებიდან გამომდინარეობს, რომ

$\frac{O_2K}{O_1K} = \frac{O_2F}{O_1D} = \frac{R_2}{R_1}$ . რადგან  $AB \parallel DF$ , ამიტომ

$KM = AD = BF$ . აქედან გამომდინარე,

$\frac{R_2}{R_1} = \frac{R_2 - MK}{MK - R_1}$ . ე.ი.  $R_1R_2 - R_1MK = R_2MK - R_2R_1$

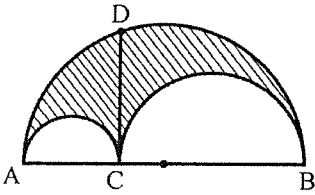
$\Rightarrow MK(R_1 + R_2) = 2R_1R_2 \Rightarrow \frac{2}{MK} = \frac{R_1 + R_2}{R_1R_2}$ . ე.ი.  $\frac{1}{R_1} + \frac{1}{R_2} = \frac{2}{KM}$ .



გ) გვაეგლოთ  $AD \parallel O_1O_2$ , მივიღებთ  $ADO_2O_1$  პარალელოგრამს  $AD = O_1O_2 = R_1 + R_2$ .

$BD = (R_2 - R_1)$ .  $\triangle ABD$  მართკუთხაა, ამიტომ  $AB^2 = AD^2 - BD^2 = (R_1 + R_2)^2 - (R_2 - R_1)^2 \Rightarrow AB = 2\sqrt{R_1 \cdot R_2}$ .

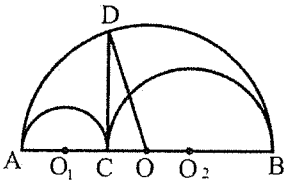
№73



*AB* მონაკვეთის ნებისმიერი *C* წერტილისათვის აგებულია სამი ნახევარწრეწირი და გაელეებულია *CD* მართობი, მაშინ დაშტრისული ფიგურის ფართობი ასე გამოითვლება:

$$S_{\text{დაშტრ.}} = \frac{\pi}{4} \cdot CD^2$$

დამტკიცება:  $AO = OB \equiv R, CO_2 = O_2B \equiv R_2, AO_1 = O_1C \equiv R_1$



$$2R = 2R_1 + 2R_2$$

$$R_1 + R_2 = R \quad (1)$$

$$R_2 = R - R_1 \quad (2)$$

$$CO = R - 2R_1, OD = R.$$

$\triangle CDO$  მართკუთხეა, ამიტომ

$$CD^2 = OD^2 - CO^2 = R^2 - (R - 2R_1)^2 = 4R_1R - 4R_1^2 = 4R_1(R - R_1)$$

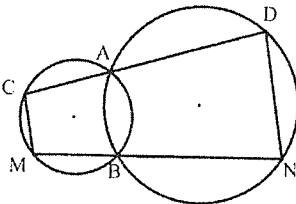
თუ (2) ტოლობას გავითვალისწინებთ  $CD^2 = 4R_1R_2, \frac{CD^2}{2} = 2R_1R_2 \quad (3).$

$$S_{\text{დაშტრ.}} = \frac{1}{2}\pi R^2 - \frac{1}{2}\pi R_1^2 - \frac{1}{2}\pi R_2^2 = \frac{1}{2}\pi(R^2 - R_1^2 - R_2^2) = \frac{1}{2}\pi(R^2 - (R_1^2 + R_2^2)) = \\ = \frac{1}{2}\pi(R^2 - (R_1^2 + R_2^2 + 2R_1R_2) + 2R_1R_2) = \frac{1}{2}\pi(R^2 - (R_1 + R_2)^2 + 2R_1R_2)$$

(1) ტოლობის გათვალისწინებით  $S_{\text{დაშტრ.}} = \frac{1}{2}\pi(R^2 - R^2 + 2R_1R_2) = \frac{1}{2}\pi 2R_1R_2$

ახლა კი გავითვალისწინოთ (3) ტოლობა  $S_{\text{დაშტრ.}} = \frac{1}{2}\pi \cdot \frac{CD^2}{2} = \frac{\pi CD^2}{4}.$

№74

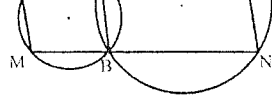


*CD* და *MN* წრეწირების თანაკვეთის *A* და *B* წერტილებზე გამავალი მკვეთებია, მაშინ

$$CM \parallel DN$$

დამტკიცება: გაავლოთ  $AB$  ხაერთო ქორდა.  $ABND$  ოთხკუთხედზე შემოსა-  
ზულია წრეწირი, ამიტომ  $\angle ADN + \angle NBA = 180^\circ$ .

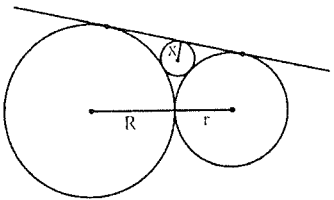
ანალოგიურად,  $ABMC$  ოთხკუთხედისთვის  
 $\angle ABM + \angle MCA = 180^\circ$ . ე.ი.



$\angle ADN + \angle NBA + \angle ABM + \angle MCA = 360^\circ$ .  $MBA$   
გაშლილი კუთხეა, ამიტომ  $\angle NBA + \angle ABM = 180^\circ$ .  
ე.ი  $\angle ADN + \angle MCA = 180^\circ$ , ანუ ორი წრფის  
შესამეთი გადაკვეთისას შიგაჯალმხრივად

მდებარე კუთხეების ჯამი  $180^\circ$ -ია. ე.ი.  $CM \parallel DN$ .

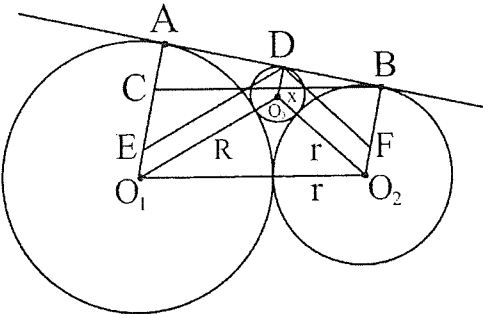
№75



წრეწირი ჩახაზულია ორი შემხები  
წრეწირითა და მათი ხაერთო მხებით  
შემოსაზღვრულ ფიგურაში, მაშინ ამ  
წრეწირის რადიუსი ასე გამოითვლება:

$$x = \frac{Rr}{(\sqrt{R} + \sqrt{r})^2}$$

დამტკიცება: გაავლოთ  $BC \parallel O_1O_2$ .  $O_1A \perp AB$ , შესაბამისად  $\triangle ABC$ -დან



$$AB = \sqrt{BC^2 - AC^2} = \sqrt{(R+r)^2 - (R-r)^2} = 2\sqrt{Rr}$$

ასევე გაავლოთ  $DE \parallel O_1O_2$ .  
მართკუთხა  $\triangle ADE$ -დან

$$AD = \sqrt{ED^2 - AE^2} = \sqrt{(R+x)^2 - (R-x)^2} = 2\sqrt{Rx}$$

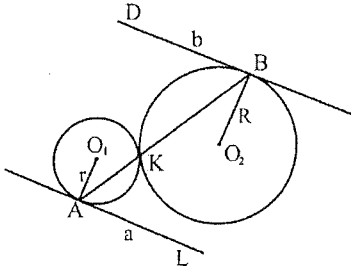
სადაც  $x$  მცირე წრეწირის  
სადიებელი რადიუსია.

გაავლოთ  $DF \parallel O_2O_3$ ,

$$\triangle DBF\text{-დან } DB = \sqrt{DF^2 - BF^2} = \sqrt{(r+x)^2 - (r-x)^2} = 2\sqrt{rx}. \quad AB = AD + DB, \text{ ანუ}$$

$$2\sqrt{Rr} = 2\sqrt{Rx} + 2\sqrt{rx} \Rightarrow \sqrt{x} = \frac{\sqrt{Rr}}{\sqrt{R} + \sqrt{r}} \Rightarrow x = \frac{Rr}{(\sqrt{R} + \sqrt{r})^2}$$

№76-77

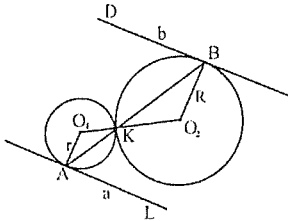


წრეწირების შეხების  $K$  წერტილზე გავლებულია  $AB$  მკვეთი,  $A$ -ზე და  $B$ -ზე გავლებულია  $AL$  და  $BD$  მხეხებები, მაშინ

ა)  $O_1A \parallel O_2B$

ბ)  $AL \parallel BD$

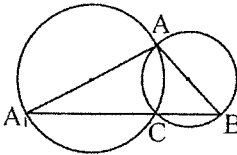
დამტკიცება: ა) წრეწირის ცენტრები შევეართოთ ერთმანეთთან.



$\Delta BO_2K$  ტოლფერდაა, რადგანაც  $BO_2 = KO_2 = R$ ,  $\angle O_2BK = \angle O_2KB$ . ანალოგიურად,  $\Delta AO_1K$  ტოლფერდაა და  $\angle O_1AK = \angle O_1KA$ . კერტიკალური კუთხეები ტოლია, ამიტომ  $\angle O_1KA = \angle O_2KB$ , ანუ  $\angle O_1AK = \angle O_1KA = \angle O_2BK = \angle O_2KB$  (1), ანუ ორი ( $BO_2$  და  $AO_1$ ) წრფის მესამე ( $BA$ ) წრფით გადაკვეთისას მიღებული შიგაჯვარედინად მდებარე კუთხეები ტოლია. ე.ი.  $R \parallel r$  და  $O_1A \parallel O_2B$ .

ბ) რადგან  $a$  და  $b$  წრეწირის მხეხებები არიან  $O_2B \perp b$  და  $O_1A \perp a$ .  $\angle DBA = 90^\circ - \angle O_2BK$ .  $\angle BAL = 90^\circ - \angle O_1AK$ . (1) ტოლობიდან გამომდინარე  $\angle O_2BK = \angle AKO_1$  ე.ი.  $\angle DBA = \angle BAL$ , ანუ  $a$  და  $b$ -ს  $AB$  წრფით გადაკვეთისას მიღებული შიგაჯვარედინად მდებარე კუთხეები ტოლია. ე.ი.  $a$  და  $b$  პარალელურია და  $AL \parallel BD$ .

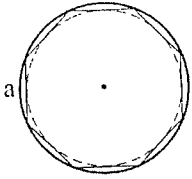
№78



გავლებულია  $AA_1$  და  $AB_1$  დიამეტრები, მაშინ  $A_1B_1$  გადის წრეწირების გადაკვეთის  $C$  წერტილზე

დამტკიცება: შევეართოთ  $A$  წერტილი  $C$  წერტილთან, მიღებული  $\angle ACA_1$   $90^\circ$ -ის ტოლი იქნება, რადგან იგი  $AA_1$  დიამეტრს კერძნობა. ანალოგიურად,  $\angle ACB_1 = 90^\circ$ . აქედან გამომდინარე,  $\angle A_1CB_1$  გაშლილია. ე.ი.  $A_1B_1$  გადის  $C$  წერტილზე.

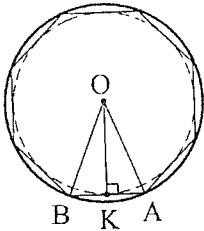
№79



მოცემულია  $a$  გვერდის მქონე წესიერი  $n$ -კუთხედი, მაშინ ჩახაზული და შემოხაზული წრეწირებისათვის

$$R^2 - r^2 = \frac{a^2}{4}$$

დამტკიცება:  $OA = OB = R$ , ხოლო  $OK = r$ .  $\triangle BOA$  ტოლფერდაა  $OK$

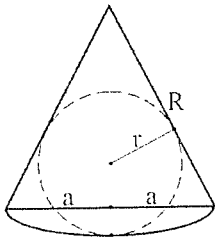


სიმაღლეცაა და მედიანაც, ანუ  $AK = \frac{a}{2}$ . პითაგორას

$$\text{თეორემის თანახმად } OA^2 - OK^2 = AK^2 \Rightarrow R^2 - r^2 = \left(\frac{a}{2}\right)^2$$

$$\text{ე.ი. } R^2 - r^2 = \frac{a^2}{4}$$

№80

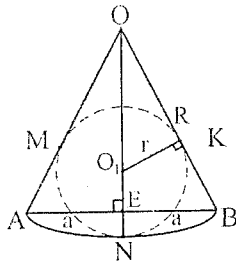


სექტორის ქორდაა  $2a$ , მაშინ

$$\frac{1}{a} = \frac{1}{r} - \frac{1}{R}$$

დამტკიცება: გაველოთ  $O$  ცენტრზე გაშვებული წრფე  $ON \perp AB$ .  $\triangle OEB \sim \triangle OO_1K$ ,

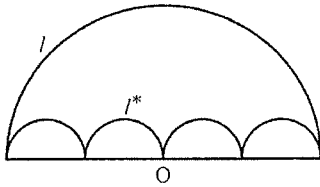
(რადგან ორივე მართკუთხაა და  $\angle EOB$  საერთო აქვთ).



$$\frac{OO_1}{OB} = \frac{O_1K}{EB} \quad \frac{R-r}{R} = \frac{r}{a}$$

$$a(R-r) = Rr \quad a = \frac{Rr}{R-r}$$

$$\frac{1}{a} = \frac{R-r}{Rr} \quad \frac{1}{a} = \frac{1}{r} - \frac{1}{R}$$



ნახევარწრეწირის დიამეტრი  $n$  ტოლ ნაწილადაა გაყოფილი, მაშინ

ა) რკალის სიგრძეებს შორის ასეთი დამოკიდებულებაა:

$$l_{\text{ნახ.წრეწ.}} = n \cdot l^*_{\text{ნახ.წრეწ.}}$$

ბ) ნახევარწრეების ფართობებს შორის ასეთი დამოკიდებულებაა:

$$S_{\text{ნახ.წრ.}} = n^2 \cdot S^*_{\text{ნახ.წრ.}}$$

დამტკიცება: ა)  $l_{\text{ნახ.წრეწ.}} = \frac{2\pi R}{2} = \pi R$ .

თითოეული პატარა ნახევარწრეწირის დიამეტრია  $\frac{2R}{n}$ , ანუ რადიუსი  $\frac{R}{n}$ -ის

ტოლია.  $l^*_{\text{ნახ.წრეწ.}} = \frac{1}{2} \cdot 2\pi \cdot \frac{R}{n} = \frac{\pi R}{n}$ .

$n$  რაოდენობის ნახევარწრეწირისათვის კი -  $n \cdot l^*_{\text{ნახ.წრეწ.}} = \pi R = l_{\text{ნახ.წრეწ.}}$ .

ბ)  $S_{\text{ნახ.წრე}} = \frac{\pi R^2}{2}$ .

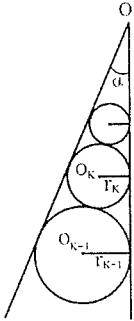
თითოეული პატარა ნახევარწრის დიამეტრია  $\frac{2R}{n}$ , ანუ რადიუსი  $\frac{R}{n}$ -ის ტოლია.

შესაბამისად,  $S^*_{\text{ნახ.წრ.}} = \frac{1}{2} \cdot \pi \cdot \frac{R^2}{n^2}$ .  $n$  რაოდენობის ნახევარწრისათვის

გვექნება -  $S^*_{\text{ნახ.წრ.}} \cdot n = \frac{\pi R^2}{2n^2} \cdot n = \frac{\pi R^2}{2n} = \frac{\pi R^2}{2} : n = S_{\text{ნახ.წრ.}} : n$

გ.ი  $S_{\text{ნახ.წრ.}} = n^2 \cdot S^*_{\text{ნახ.წრ.}}$ .

№83



$\alpha$  სიდიდის მახვილ კუთხეში ჩახაზულია შემხები წრეწირები, მაშინ  $r_k$  რადიუსები ქმნიან გეომეტრიულ პროგრესიას და

$$r_{k+1} = \frac{1 + \sin \frac{\alpha}{2}}{1 - \sin \frac{\alpha}{2}} \cdot r_k$$

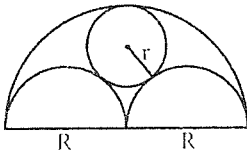
დამტკიცება:  $O$  მახვილი  $\alpha$  კუთხის წვეროა, ხოლო  $O_k$  კი  $k$ -ური წრეწირის ცენტრია. წრეწირთა ცენტრები  $\alpha$  კუთხის ბისექტრისაზე მდებარეობენ, ამიტომ  $r_k = OO_k \sin \frac{\alpha}{2}$  (1). შესაბამისად,  $r_{k+1} = (OO_k + r_k + r_{k+1}) \sin \frac{\alpha}{2}$ . ურჩხილების გახსნისა და (1) ტოლობის გათუვალისწინების შედეგად

მივიღებთ:  $r_k = r_k + r_k \sin \frac{\alpha}{2} + r_{k+1} \sin \frac{\alpha}{2} \Rightarrow \frac{r_{k+1}}{r_k} = \frac{1 + \sin \frac{\alpha}{2}}{1 - \sin \frac{\alpha}{2}}$

ე.ი. წრეწირის რადიუსები ქმნიან გეომეტრიულ პროგრესიას, რომლის

მნიშვნელი  $q = \frac{1 + \sin \frac{\alpha}{2}}{1 - \sin \frac{\alpha}{2}}$  და  $r_{k+1} = \frac{1 + \sin \frac{\alpha}{2}}{1 - \sin \frac{\alpha}{2}} \cdot r_k$ .

№84

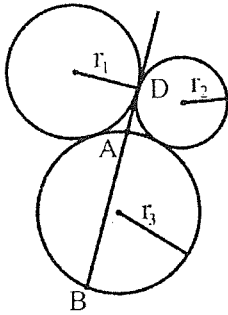


მოცემულია სამი ნახევარწრეწირი და ერთი ჩახაზული წრეწირი, მაშინ

$$R = 3r$$



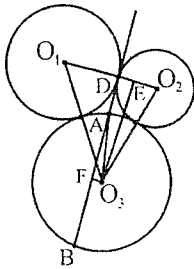




$AD$  არის ( $O_1; r_1$ ) და ( $O_2; r_2$ ) წრეწირების საერთო მხევი, მაშინ

$$AB = 4r_3 \frac{\sqrt{r_1 r_2}}{r_1 + r_2}$$

დამტკიცება: გაავალოთ  $O_3E \perp O_1O_2$ ,  $O_3F \perp AB$  და შევაერთოთ  $O_3$  ცენტრი  $A$  წერტილთან. ცხადია, რომ  $AD \perp O_1O_2$ ,  $AB = 2AF =$



$= 2\sqrt{AO_3^2 - FO_3^2} = 2\sqrt{r_3^2 - x^2}$ , სადაც  $x = O_3F = DE$ . განვიხილოთ  $\Delta O_1O_3E$  და  $\Delta O_2O_3E$ , რომელთაც საერთო  $O_3E$  კათეტი აქვთ.

$$(O_3E)^2 = (O_1O_3)^2 - (O_1E)^2 = (O_2O_3)^2 - (O_2E)^2 \Rightarrow$$

$$\Rightarrow (r_3 + r_1)^2 - (r_1 + x)^2 = (r_2 + r_3)^2 - (r_2 - x)^2 \Rightarrow$$

$$\Rightarrow (r_1 + x)^2 - (r_2 - x)^2 = (r_3 + r_1)^2 - (r_2 + r_3)^2;$$

დავშალოთ მიღებული ტოლობა კვადრატების

სხვაობად, მივიღებთ:

$$(r_1 + r_2)(r_1 - r_2 + 2x) = (r_1 + r_2 + 2r_3)(r_1 - r_2);$$

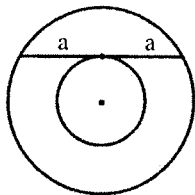
$$r_1^2 - r_2^2 + 2x(r_1 + r_2) = r_1^2 - r_2^2 + 2r_3(r_1 - r_2);$$

$$2x(r_1 + r_2) = 2r_3(r_1 - r_2); \quad x = r_3 \cdot \frac{r_1 - r_2}{r_1 + r_2}$$

$$BC = 2\sqrt{r_3^2 - x^2} = 2\sqrt{r_3^2 - r_3^2 \frac{(r_1 - r_2)^2}{(r_1 + r_2)^2}} = 2\sqrt{\frac{r_3^2(r_1 + r_2)^2 - r_3^2(r_1 - r_2)^2}{(r_1 + r_2)^2}} =$$

$$= 2r_3 \cdot \sqrt{\frac{(r_1 + r_2)^2 - (r_1 - r_2)^2}{(r_1 + r_2)^2}} = 4r_3 \cdot \frac{\sqrt{r_1 r_2}}{r_1 + r_2}$$

№87



კონცენტრულ წრეწირებში  $2a$  სიგრძის ქორდა ეხება მცირე წრეწირს, მაშინ წრიული რგოლის ფართობი ასე გამოითვლება:

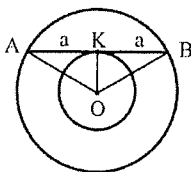
$$S_{\text{წრ.რგ}} = \pi a^2$$

დამტკიცება: გავაუღლოთ  $OA = OB = R$ ,  $OK = r$  მონაკვეთები.

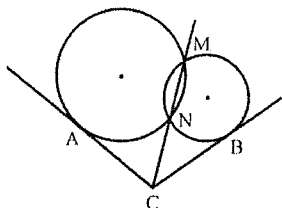
პითაგორას თეორემის თანახმად  $\Delta BOK$ -ში,

$$OB^2 - OK^2 = KB^2 \Rightarrow R^2 - r^2 = a^2.$$

$$S_{\text{წრ.რგ}} = \pi R^2 - \pi r^2 = \pi(R^2 - r^2) = \pi a^2$$



№88



$CA$  და  $CB$  მხებთათვის  $CA = CB$

დამტკიცება: გავაუღლოთ  $AM$  და  $AN$  მონაკვეთები.  $\angle CAN = \frac{\widehat{AN}}{2}$ ,  $\angle AMN$

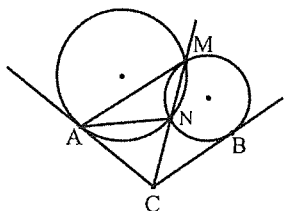
ჩახაზული კუთხეა და ასევე  $\frac{\widehat{AN}}{2}$ -ის ტოლია. ე.ი.

$\angle CAN = \angle AMN$ .  $\Delta ANC \sim \Delta AMC$  (რადგან  $\angle ACM$

საერთოა, ხოლო  $\angle CAN = \angle AMN$ ). ე.ი.  $\frac{AC}{CN} = \frac{MC}{AC}$ .

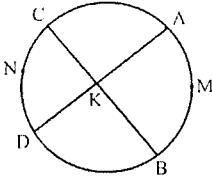
$AC^2 = MC \cdot NC$ . ანალოგიურად,  $BC^2 = MC \cdot NC$ . ე.ი.

$CA = CB$



# წრეწირი

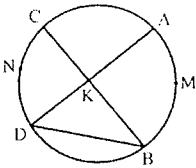
№89



$AD$  და  $BC$  წრეწირის ურთიერთგაღამკვეთი ქორდებია, მაშინ

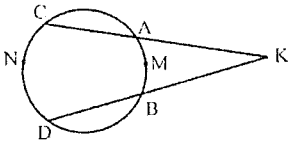
$$\angle AKB = \frac{\widehat{AMB} + \widehat{CND}}{2}$$

დამტკიცება: გაველოთ  $DB$  ქორდა.  $\angle CKD$  და  $\angle AKB$  არის  $DKB$  სამკუთხედის გარე კუთხეები. სამკუთხედის გარე კუთხე მისი არამოსაზღვრე ორი შიგა კუთხის ჯამის ტოლია. ე.ი.



$\angle AKB = \angle CKD = \angle D + \angle B$ .  $D$  და  $B$  ჩახაზული კუთხეების გრადუსული ზომები შესაბამისად  $AMB$  და  $CND$  რკალების გრადუსული ზომების ნახევრის ტოლია, ანუ  $\angle AKB = \angle CKD = \frac{\widehat{AMB} + \widehat{CND}}{2}$ .

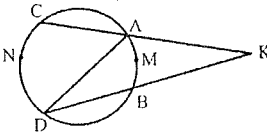
№90



წრეწირის გარეთ მდებარე  $K$  წერტილიდან გავლებულია წრეწირის  $KC$  და  $KD$  მკვეთები, მაშინ

$$\angle K = \frac{\widehat{CND} - \widehat{AMB}}{2}$$

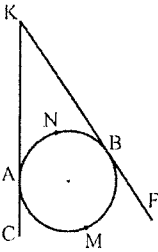
დამტკიცება: გაველოთ  $AD$  ქორდა.  $\angle CAD$  არის  $ADK$  სამკუთხედის გარე კუთხე. აქედან გამომდინარე  $\angle CAD = \angle K + \angle D$ , საიდანაც  $\angle K = \angle CAD - \angle D$ .  $CAD$  და  $D$



ჩახაზული კუთხის გრადუსული ზომები შესაბამისად  $CND$  და  $AMB$  რკალების გრადუსული ზომების ნახევრის ტოლია. ე.ი.

$$\angle K = \frac{\widehat{CND} - \widehat{AMB}}{2}$$

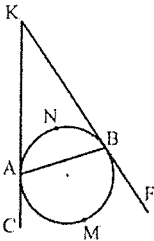
№91



წრეწირის გარეთ მდებარე  $K$  წერტილიდან წრეწირისადმი გავლებულია  $KA$  და  $KB$  მხებები, მაშინ

$$\angle K = 180^\circ - \overline{ANB}$$

დამტკიცება: გაავლოთ  $AB$  ქორდა.  $\triangle AKB$ -ში  $\angle KAB = \frac{\overline{ANB}}{2}$ , რადგან  $KAB$  მხებითა და ქორდით შედგენილი კუთხეა.

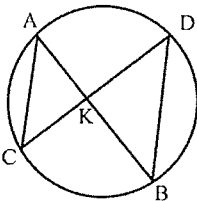


ანალოგიურად,  $\angle KBA = \frac{\overline{ANB}}{2}$ .  $AKB$  სამკუთხედში

$$\angle K = 180^\circ - \angle KAB - \angle KBA = 180^\circ - \frac{\overline{ANB}}{2} - \frac{\overline{ANB}}{2} \Rightarrow$$

$$\Rightarrow \angle K = 180^\circ - \overline{ANB}.$$

№92

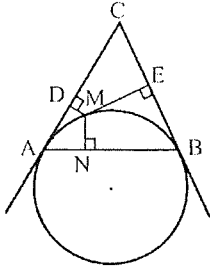


$AB$  და  $CD$  ნებისმიერი ქორდებია, მაშინ

$$\triangle AKC \sim \triangle DKB$$

დამტკიცება:  $AKC$  და  $DKB$  კუთხეები ტოლია, როგორც ვერტიკალური კუთხეები.  $\angle CAB = \angle CDB$ , რადგანაც ორივე კუთხე ერთ რკალს ეყრდნობა, ანალოგიურად  $\angle ACD = \angle ABD$ . მივიღეთ, რომ მოცემული სამკუთხედების შესაბამისი კუთხეები ტოლია, ამიტომ  $\triangle AKC \sim \triangle DKB$

№93



თუ გაველებულია  $AB$  ქორდა და ქორდის ბოლოებზე ორი მხები, მაშინ რკალის ნებისმიერი  $M$  წერტილიდან გაველებული მართობებისათვის:

$$MN^2 = MD \cdot ME$$

დამტკიცება:  $\angle MNA + \angle ADM = \frac{\pi}{2} + \frac{\pi}{2} = \pi$  და  $\angle MEB + \angle BNM =$

$$= \frac{\pi}{2} + \frac{\pi}{2} = \pi, \text{ ამიტომ } ADMN \text{ და } NMEB \text{ ოთკუთხედებზე}$$

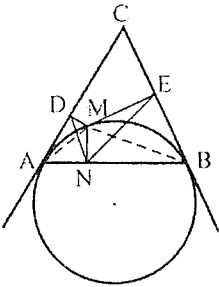
შემოიხსნება წრეწირი.  $\angle MND = \angle MAD$  და

$\angle MEN = \angle MBN$  (როგორც ერთ რკალზე დაყრდნობილი

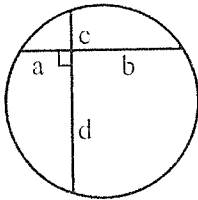
კუთხეები). ხოლო  $\angle MBN = \angle MAD = \frac{\widehat{AM}}{2}$  ე.ი.  $\angle MND =$

$= \angle MEN$ . ანალოგიურად,  $\angle NDM = \angle ENM$ .

$\triangle DMN \sim \triangle NME$ , ანუ  $\frac{DM}{MN} = \frac{MN}{ME} \Rightarrow MN^2 = MD \cdot ME$ .



№94



ურთიერთმართობული ქორდებისთვის

$$a^2 + b^2 + c^2 + d^2 = (2R)^2$$

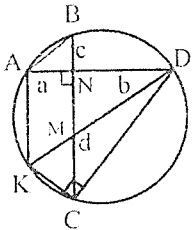
დამტკიცება: გაველოთ  $AK \parallel BC$ . მივიღებთ  $ABCK$  ტრაპეციას, რომელიც ტოლფერდაა, რადგანაც მასზე წრეწირია შემოსაზული.

$$AB = KC, AB^2 = a^2 + c^2, KC^2 = AB^2 = a^2 + c^2. (1)$$

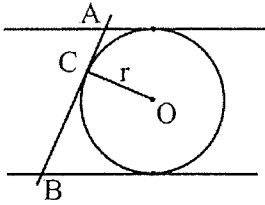
$$\triangle CND \text{ მართკუთხაა, ამიტომ } CD^2 = b^2 + d^2. (2)$$

განვიხილოთ  $\triangle KAD$ .  $\angle KAD = 90^\circ$ , ამიტომ  $KD$  დიამეტრია. შესაბამისად  $\angle KCD = 90^\circ$ . ე.ი.

$$KC^2 + CD^2 = KD^2. (1) \text{ და } (2) \text{ ტოლობის გათვალისწინებით: } a^2 + b^2 + c^2 + d^2 = (2R)^2.$$



№95

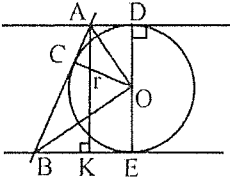


თუ მხებები პარალელურია და C წრეწირის ნებისმიერი წერტილია, მაშინ

$$r^2 = AC \cdot CB$$

დამტკიცება: A წერტილიდან დაეუშუათ მართობი BE-ზე.

რადგან  $AD \parallel BE$ , ამიტომ  $AK = DE = 2r$ .



განვიხილოთ  $\triangle ABK$ .  $BK = BE - AD$ .

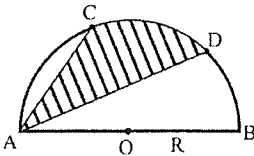
$BE = BC$  და  $AD = AC$  (როგორც ერთი წერტილიდან გამოსული მხებები), ამიტომ  $BK = BC - AC$ .

$AB = BC + AC$ , დაეწეროთ პითაგორას თეორემა

$\triangle ABK$ -სთვის:  $AK^2 + BK^2 = AB^2 \Rightarrow$

$$\begin{aligned} \Rightarrow (2r)^2 + (BC - AC)^2 &= (BC + AC)^2 \Rightarrow 4r^2 = (BC + AC)^2 - (BC - AC)^2 \Rightarrow \\ \Rightarrow 4r^2 &= 2BC \cdot 2AC \Rightarrow r^2 = AC \cdot CB. \end{aligned}$$

№96



ნახევარწრეწირი გაყოფილია სამ ტოლ ნაწილად, მაშინ დაშტრიხული ფიგურის ფართობი

$$S_{ADC} = \frac{\pi R^2}{6}$$

დამტკიცება:  $\widehat{ANC} = \widehat{CLD} = \widehat{DMB} = 60^\circ$ .  $\angle CAD = 30^\circ$ , როგორც  $\widehat{CLD}$  რკალზე

დაერდნობილი კუთხე.  $\angle AOC = \angle COD = \angle DOB = 60^\circ$ .

ცხადია,  $AOC$ ,  $COD$  და  $DOB$  წესიერი სამკუთხედებია.

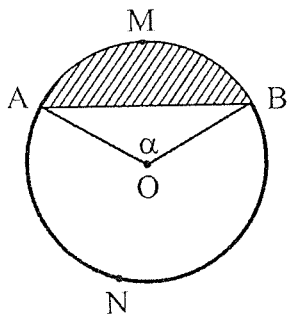
$\triangle ADB$ -ში  $\angle ADB = 90^\circ$ , აგრეთვე  $DB = R$ ,  $AB = 2R$

და  $AD = \sqrt{3}R$ . განვიხილოთ  $\triangle CAD$ .  $AC = R$ ,

შესაბამისად  $S_{ADC} = \frac{1}{2} AC \cdot AD \sin \angle CAD =$

$$\frac{1}{2} R \sqrt{3} R \sin 30^\circ = \frac{\sqrt{3}}{4} R^2. \text{ თავისმხრივ, } S_{ACOD} = \frac{1}{2} R \cdot R \cdot \sin 60^\circ = \frac{\sqrt{3}}{4} R^2. \text{ ე.ი.}$$

$$S_{ADC} = S_{ACOD} \Rightarrow S_{ADC} = S_{COD} = \frac{\pi R^2}{6}.$$



სეგმენტის ფართობი, რომლის შესაბამისი ცენტრალური კუთხე  $\alpha$ -ს ტოლია ასე გამოითვლება:

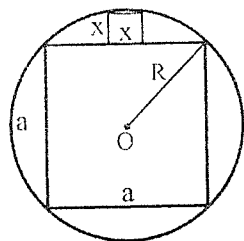
$$S_{\text{სეგმ}} = \frac{\pi R^2}{360} \alpha - S_{\Delta AOB}$$

დამტკიცება: წრიული სექტორის ფართობი შეადგენს წრის ფართობის  $\frac{\alpha}{360}$

ნაწილს, სადაც  $\alpha$  სექტორის შესაბამისი ცენტრალური კუთხის გრადუსული

ზომაა. ანუ  $S_{\text{სექტ}} = \frac{\pi R^2}{360} \alpha$ .

$$S_{\text{სეგმ}} = S_{\text{სექტ}} - S_{\Delta AOB} = \frac{\pi R^2}{360} \alpha - S_{\Delta AOB}$$



$a$  გვერდიან კვადრატზე შემოსახულია წრეწირი და მიღებულ სეგმენტში ჩახსახულია კვადრატი, მაშინ ამ კვადრატის გვერდი, ასე გამოითვლება:

$$x = \frac{a}{5}$$



დამტკიცება: კუდრატზე შემოხაზული წრეწირის რადიუსი ტოლია:

$$R = \sqrt{\left(\frac{a}{2}\right)^2 + \left(\frac{a}{2}\right)^2} = \frac{a}{\sqrt{2}}.$$

განვიხილოთ  $\Delta KOB$ , რომელიც ცხადია მართკუთხაა.

$$KB^2 + KO^2 = OB^2 \Rightarrow \left(\frac{x}{2}\right)^2 + \left(\frac{a}{2} + x\right)^2 = \left(\frac{a}{\sqrt{2}}\right)^2.$$

$$\frac{x^2}{4} + \frac{a^2}{4} + ax + x^2 = \frac{a^2}{2}.$$

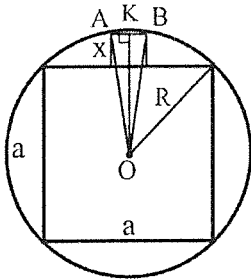
$$x^2 + a^2 + 4ax + 4x^2 = 2a^2$$

$$5x^2 + 4ax - a^2 = 0.$$

$$D = 16a^2 + 20a^2 = 36a^2.$$

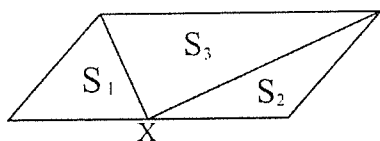
რადგანაც  $x$  უარყოფითი ვერ იქნება, ამიტომ

$$x = \frac{-4a + 6a}{10} = \frac{a}{5}.$$



## პარალელოგრამი

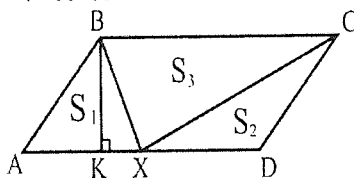
№99



პარალელოგრამის გვერდის  
ნებისმიერი X წერტილისთვის

$$S_1 + S_2 = S_3$$

დამტკიცება: B წერტილიდან AD გვერდზე დაეშვათ  $BK = h$  მართობი.



გამოსახსოთ სამკუთხედთა ფართობები:

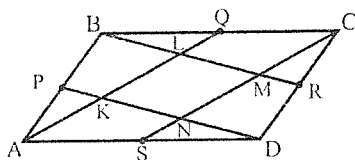
$$S_1 = \frac{1}{2}h \cdot AK; \quad S_2 = \frac{1}{2}h \cdot XD;$$

$$S_1 + S_2 = \frac{1}{2}h \cdot AK + \frac{1}{2}h \cdot XD =$$

$$= \frac{1}{2}h(AK + XD) = \frac{1}{2}h \cdot AD.$$

$$S_3 = \frac{1}{2}h \cdot BC = \frac{1}{2}h \cdot AD. \text{ ე.ი. } S_1 + S_2 = S_3$$

№100



$ABCD$  პარალელოგრამის გვერდების  
შუაწერტილები წვერობთანაა  
შეერთებული. მიღებული  
პარალელოგრამის ფართობი ასე  
გამოითვლება:

$$S_{KLMN} = \frac{1}{5} S_{ABCD}$$

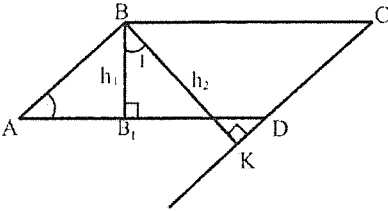
დამტკიცება:  $AQ \parallel CS$  და  $BR \parallel PD$ , აქედან გამომდინარე,  $\triangle BLQ$ -ისა და  $\triangle SND$ -ს  
შესაბამისი კუთხეები ტოლია, ე.ი. ეს სამკუთხედები ტოლია და  $LQ = SN$ .

$\triangle BMC$ -ში (თაღესის თეორემის თანახმად)  $LQ$  შუახაზია. შესაბამისად,

$CM = 2LQ$ . ანალოგიურად,  $\triangle CND$ -ში  $CM = MN$  ე.ი.  $CM = MN = 2LQ = 2SN$  და

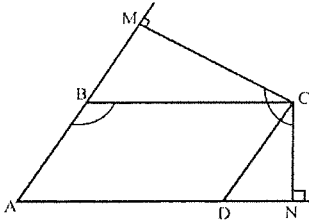
$$MN = \frac{2}{5}SC. \Rightarrow S_{KLMN} = \frac{2}{5}S_{AQCS} = \frac{2}{5} \cdot \frac{1}{2}S_{ABCD} = \frac{1}{5}S_{ABCD}.$$

№101-102



კუთხე პარალელოგრამის წვეროდან გაღებულ სიმაღლეებს შორის პარალელოგრამის ერთ-ერთი კუთხის ტოლია:

ა)  $\angle 1 = \angle A$

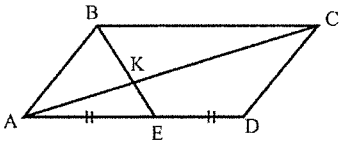


ბ)  $\angle MCN = \angle ABC$

დამტკიცება: ა) პარალელოგრამის მოპირდაპირე კუთხეები ტოლია  $\angle A = \angle C$ .  $\triangle BKC$ -ში,  $\angle KBC = 90^\circ - \angle A$ .  $\angle B_1BC = 90^\circ \Rightarrow \angle 1 + \angle KBC = 90^\circ$ .  $\angle 1 + 90^\circ - \angle A = 90^\circ \Rightarrow \angle 1 = \angle A$ .

ბ)  $ABCD$  პარალელოგრამში  $\angle BAD + \angle ABC = 180^\circ$ . ოთხკუთხედის კუთხეების ჯამი  $360^\circ$ -ია, ანუ  $\angle BAD + \angle BMC + \angle MCN + \angle CNA = 360^\circ$ ,  $CN$  და  $CM$  სიმაღლეებია, ამიტომ  $\angle BAD + \angle MCN = 180^\circ$  ე.ი.  $\angle MCN = \angle ABC$

№103

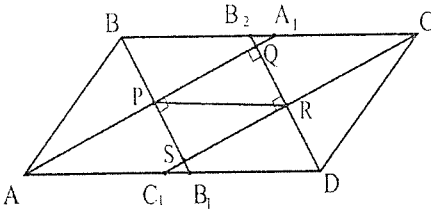


პარალელოგრამში თუ  $AE = ED$ , მაშინ

$AK : KC = 1 : 2$

დამტკიცება: თუ  $AE = ED$ ,  $AE : AD = AE : BC = 1 : 2$ .  $\angle CAD = \angle BCA$ , ასევე  $\angle EBC = \angle BEA$ , როგორც შიგაჯვარედინად მდებარე კუთხეები. ე.ი.  $\triangle AKE \sim \triangle CKB$ , მსგავსებიდან გამომდინარე  $AK : KC = AE : BC = 1 : 2$

№104-105



პარალელოგრამში  
გაგელებულია ოთხივე კუთხის  
ბისექტრისა, მაშინ

ა) მიღებული  $PQRS$   
ოთხკუთხედი მართკუთხედი

ბ)  $PR = AD - AB$

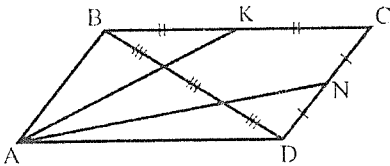
დამტკიცება: ა)  $\angle BAC_1 = \angle DCA_1$ , ამასთან  $AA_1$  და  $CC_1$  ამ კუთხეების  
ბისექტრისებია. შესაბამისად,  $\angle A_1AC_1 = \angle A_1CC_1$ .  $\angle BA_1A$  და  $\angle A_1AC_1$   
შიგაჯვარედინად მდებარე კუთხეებია, ამიტომ  $\angle BA_1A = \angle A_1AC_1$ . ანალოგიუ-  
რად,  $\angle A_1CC_1 = \angle CC_1D$ . რადგან  $\angle A_1AC_1 = \angle A_1CC_1$ , ამიტომ  $\angle BA_1A = \angle CC_1D$ .  
აქედან გამომდინარე,  $\angle AA_1C = \angle CC_1A$ . რადგან  $AA_1CC_1$  ოთხკუთხედის  
მოპირდაპირე კუთხეები ტოლია, ამიტომ იგი პარალელოგრამია და  $AA_1 \parallel CC_1$ .  
ანალოგიურად,  $BB_1 \parallel DB_2$ . რადგან  $AA_1$  და  $BB_1$  პარალელოგრამის  $A$  და  $B$   
კუთხის ბისექტრისები არიან, ამიტომ  $\triangle APB$ -დან

$$\angle APB = 180^\circ - (\angle BAP + \angle ABP) = 180^\circ - \frac{1}{2}(\angle BAD + \angle ABC) = 180^\circ - 90^\circ = 90^\circ.$$

ე.ი.  $\angle APB = \angle SPQ = 90^\circ$ .  $PQRS$  ოთხკუთხედის მოპირდაპირე გვერდები  
პარალელურია და ერთ-ერთი კუთხე მართია, ამიტომ  $PQRS$  მართკუთხედი.

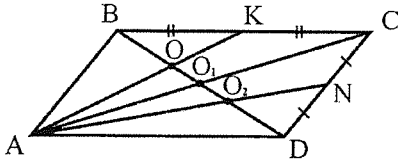
ბ)  $\triangle BAB_1$  და  $\triangle B_2CD$  ტოლფერდა სამკუთხედები არიან (რადგან ამ  
სამკუთხედებში ბისექტრისები სიმაღლეებსაც წარმოადგენენ). აქედან  
გამომდინარე,  $BP = PB_1$ ,  $B_2R = RD$ . რადგან  $BB_2DB_1$  პარალელოგრამია, ამიტომ  
 $PB_1 = RD$ . ე.ი.  $PRDB_1$  პარალელოგრამია და  $PR = B_1D = AD - AB_1 = AD - AB$ .

№106



პარალელოგრამში  $K$  და  $N$   
გვერდების შუაწერტილებია, მაშინ  
 $BD$  ტოლ ნაწილებად იყოფა

დამტკიცება:  $\triangle ABC$ -ში  $AK$  მედიანაა. რადგან პარალელოგრამში დიაგონალები



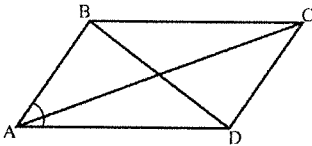
გადაკვეთის წერტილით შუაზე იყოფა, ამიტომ  $BO_1$  მედიანაა.  $O$  წერტილი მედიანების გადაკვეთის წერტილია  $\triangle ABC$ -ში, მედიანები კი სამკუთხედში გადაკვეთის წერტილით 2:1

შეფარდებით იყოფა წვეროს მხრიდან. ე.ი.  $BO:OO_1 = 2:1$ .  $OO_1 \equiv x$ ,  $BO = 2x$ .

ანალოგიური მსჯელობით,  $DO_2:O_2O_1 = 2:1$ .  $DO_2 = 2x$ ,  $O_2O_1 = x$ .

$OO_2 = OO_1 + O_2O_1 = x + x = 2x$ . ე.ი.  $BO = OO_2 = O_2D = 2x$ .

### №107-108



ა) პარალელოგრამის ფართობი დიაგონალებითა და პარალელოგრამის კუთხის საშუალებით ასე გამოითვლება:

$$S_{\text{პარალ.}} = \frac{1}{4}(AC^2 - BD^2) \operatorname{tg} \angle BAD$$

ბ) პარალელოგრამში  $AC^2 + BD^2 = 2(AB^2 + BC^2)$

დამტკიცება: ა)  $\triangle ABC$ -ში დავწეროთ კოსინუსების თეორემა:

$$AC^2 = AB^2 + BC^2 - 2AB \cdot BC \cos \angle ABC =$$

$$= AB^2 + BC^2 - 2AB \cdot BC \cos(180^\circ - \angle BAD) = AB^2 + BC^2 + 2AB \cdot BC \cos \angle BAD \quad (1).$$

ანალოგიურად  $\triangle ABD$ -ს შემთხვევაში:

$$BD^2 = AB^2 + AD^2 - 2AB \cdot AD \cos \angle BAD = AB^2 + BC^2 - 2AB \cdot BC \cos \angle BAD \quad (2).$$

(1) და (2)-დან გამომდინარეობს, რომ

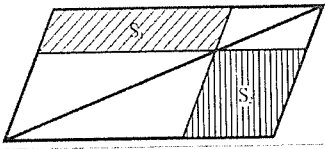
$$AC^2 - BD^2 = 4AB \cdot BC \cos \angle BAD \Rightarrow AB \cdot BC \cos \angle BAD = \frac{1}{4}(AC^2 - BD^2) \Rightarrow$$

$$\Rightarrow AB \cdot BC \cdot \sin \angle BAD = \frac{1}{4}(AC^2 - BD^2) \operatorname{tg} \angle BAD.$$

$$AB \cdot BC \sin \angle BAD = S_{ABCD} \quad \text{ე.ი.} \quad S_{\text{პარალ.}} = \frac{1}{4}(AC^2 - BD^2) \operatorname{tg} \angle A$$

ბ) (1) და (2)-დან გამომდინარეობს, რომ  $AC^2 + BD^2 = 2(AB^2 + BC^2)$

№109

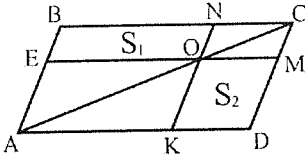


პარალელოგრამის დიაგონალის ნებისმიერ წერტილზე გავლებული გვერდების პარალელური წრფეები, მაშინ

$$S_1 = S_2$$

დამტკიცება: პარალელოგრამში დიაგონალის გავლებით მიღებულ

სამკუთხედთა ფართობები ტოლია, ამიტომ



$$S_{\Delta ABC} = S_{\Delta ACD} \text{ რადგანაც } EM \text{ და } NK$$

შესაბამისად  $AD$ -სა და  $CD$ -ს პარალელურია,

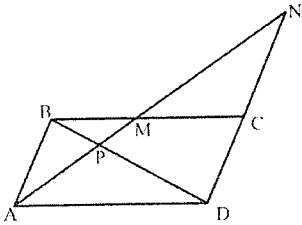
ამიტომ  $AEOK$  და  $KOMD$  პარალელოგრამებია.

$$\text{ე.ი. } S_{\Delta AEO} = S_{\Delta AOK} \text{ და } S_{\Delta ONC} = S_{\Delta OMC}.$$

$$S_1 = S_{\Delta ABC} - S_{\Delta AEO} - S_{\Delta ONC}; \quad S_2 = S_{\Delta ACD} - S_{\Delta AOK} - S_{\Delta OMC}.$$

სამკუთხედის ფართობთა ტოლობებიდან გამომდინარე,  $S_1 = S_2$

№110-111



$P$  პარალელოგრამის დიაგონალის ნებისმიერი წერტილია, მაშინ

$$\text{ა) } \frac{1}{AP} = \frac{1}{AM} + \frac{1}{AN}$$

$$\text{ბ) } AP^2 = PM \cdot PN$$

დამტკიცება: ა)  $\angle BMA = \angle MAD$ ,  $\angle MBD = \angle BDA$ , როგორც შიგაჯვარედინად

მდებარე კუთხეები.  $\Delta MPB \sim \Delta APD$ . მსგავსებიდან გამომდინარე,  $\frac{PM}{AP} = \frac{BM}{AD} = \frac{BM}{BC}$

ტოლობაში  $\frac{PM}{AP} = \frac{BM}{BC}$ , გამოვიყენოთ პროპორციის შემდეგი თვისება:

$$\left( \text{თუ } \frac{a}{b} = \frac{c}{d}, \text{ მაშინ } \frac{a+b}{b} = \frac{c+d}{d} \right) \quad \frac{AP+PM}{AP} = \frac{BC+BM}{BC} \text{ ე.ი. } \frac{AM}{AP} = \frac{BC+BM}{BC} \quad (1)$$

$AB \parallel DN$ , ამიტომ  $\angle BAN = \angle AND$ . ხოლო  $\angle ABC = \angle ADC$ , ე.ი.  $\Delta MBA \sim \Delta ADN$ .

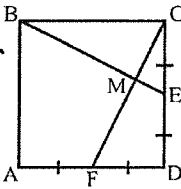
მსგავსებიდან გამომდინარე,  $\frac{AM}{AN} = \frac{BM}{AD} = \frac{BM}{BC}$ ,  $\frac{AM+AN}{AN} = \frac{BM+BC}{BC}$ .

(1)-ის გათვალისწინებით  $\frac{AM}{AP} = \frac{AM+AN}{AN} \Rightarrow \frac{1}{AP} = \frac{AM+AN}{AN \cdot AM} \Rightarrow \frac{1}{AP} = \frac{1}{AM} + \frac{1}{AN}$

ბ)  $\triangle APB \sim \triangle NPD$ , ამიტომ  $\frac{AP}{PN} = \frac{BP}{PD}$ ,  $\triangle APD \sim \triangle MPB$  და შესაბამისად  $\frac{MP}{AP} = \frac{BP}{PD}$ .

ე.ი.  $\frac{AP}{PN} = \frac{MP}{AP} \Rightarrow AP^2 = PM \cdot PN$

### №112-113



კვადრატში  $E$  და  $F$  გვერდების შუაწერტილებია, მაშინ

ა)  $\angle M = 90^\circ$

ბ)  $S_{\triangle BMC} = \frac{1}{5} \cdot S_{ABCD}$ .

დამტკიცება: ა) განვიხილოთ  $\triangle BCE$  და  $\triangle CDF$ . ამ სამკუთხედთა შესაბამისი გვერდები ტოლია, აქედან გამომდინარე,  $\angle CFD = \angle BEC$ .

ანუ  $\angle FCD + \angle CFD = \angle FCD + \angle BEC = 90^\circ$ . ე.ი.  $\triangle CME$ -ში  $\angle CME = 90^\circ$ .

ბ)  $\triangle BMC \sim \triangle BCE$ . აქედან გამომდინარე,

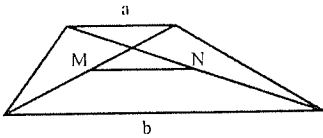
$$\frac{S_{\triangle BMC}}{S_{\triangle BCE}} = \frac{BC^2}{BE^2} = \frac{BC^2}{BC^2 + \frac{CD^2}{4}} = \frac{BC^2}{BC^2 + \frac{BC^2}{4}} = \frac{4}{5} \Rightarrow S_{\triangle BMC} = \frac{4}{5} S_{\triangle BCE} \quad (1)$$

$$\frac{S_{\triangle BCE}}{S_{ABCD}} = \frac{\frac{1}{2} \cdot BC \cdot CE}{BC^2} = \frac{1}{4} \Rightarrow S_{\triangle BCE} = \frac{1}{4} \cdot S_{ABCD}, \quad (1) \text{ ტოლობის გათვალისწინებით:}$$

$$S_{\triangle BMC} = \frac{4}{5} \cdot \frac{1}{4} \cdot S_{ABCD} = \frac{1}{5} \cdot S_{ABCD}$$

# ტრაპეცია

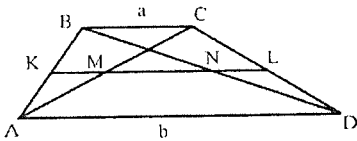
№114



$M$  და  $N$  ტრაპეციის დიაგონალების შუაწერტილებია, მაშინ

$$MN = \frac{b - a}{2}$$

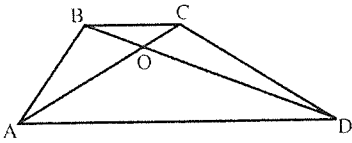
დამტკიცება: გავეგრძელოთ  $MN$  უგრდების გადაკვეთამდე. მიღებული  $KL$  მონაკვეთი ტრაპეციის შუახაზია.  $MN = KL - KM - NL$ . განვიხილოთ  $\triangle ABC$ .



$KM$  მონაკვეთი ამ სამკუთხედის შუახაზია. ანალოგიურად,  $\triangle BCD$ -ში  $NL$  შუახაზია.

ე.ი. 
$$MN = \frac{b+a}{2} - \frac{a}{2} - \frac{a}{2} = \frac{b-a}{2}$$

№115



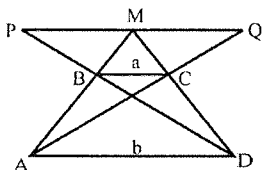
ტრაპეციაში

$$AO \cdot BO = CO \cdot DO$$

დამტკიცება:  $\angle ACB = \angle CAD$ , როგორც შიგაჯვარედინად მდებარე კუთხეები. ანალოგიურად,  $\angle CBD = \angle BDA$ . ე.ი.  $\triangle COB \sim \triangle AOD$ . მსგავსებიდან გამომდინარე,

$$\frac{AO}{OC} = \frac{DO}{OB}, \text{ ე.ი. } AO \cdot BO = CO \cdot DO$$



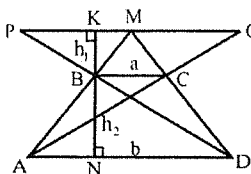


ტრაპეციის  $AB$  და  $CD$  ფერდების შემცველი წრფეების გადაკვეთის  $M$  წერტილზე გავლებულია ფუძეების პარალელური წრფე, მაშინ

ა)  $PM = MQ$

ბ)  $PQ = \frac{2ab}{b-a}$

დამტკიცება: ა) განვიხილოთ  $\Delta PBM$  და  $\Delta ABD$ .  $\angle PBM = \angle ABD$ , როგორც



ვერტიკალური კუთხეები.  $\angle PMA = \angle MAD$ , როგორც

შიგაჯვარედინად მდებარე კუთხეები. ე.ი.

$\Delta MBP \sim \Delta ABD$ . აქედან გამომდინარე,  $\frac{BM}{AB} = \frac{PM}{AD}$  (1)

ანალოგიურად,  $\Delta QCM \sim \Delta ACD$  და  $\frac{MC}{CD} = \frac{MQ}{AD}$  (2).  $BC \parallel AD$ , ამიტომ თაღისის

თეორემის თანახმად გვექნება:  $\frac{MC}{CD} = \frac{BM}{AB}$ , (1) და (2)-ს გათვალისწინებით:

$\frac{MC}{CD} = \frac{BM}{AB} = \frac{MQ}{AD} = \frac{PM}{AD} \Rightarrow PM = MQ$ .

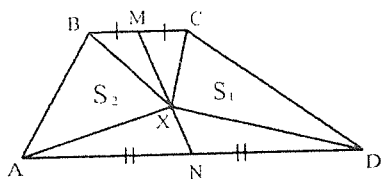
ბ)  $\Delta MBP \sim \Delta ABD$ , ამიტომ  $\frac{PM}{AD} = \frac{BK}{BN} = \frac{h_1}{h_2}$ .  $BC \parallel PM$ , ამიტომ  $\Delta BCD \sim \Delta PMD$ .

$\frac{PM}{BC} = \frac{h_1+h_2}{h_2} = 1 + \frac{h_1}{h_2}$ , რადგან  $\frac{PM}{AD} = \frac{h_1}{h_2}$ , ამიტომ  $\frac{PM}{BC} = 1 + \frac{PM}{AD}$ .  $BC = a$ ,  $AD =$

$b$ , ე.ი.  $\frac{PM}{a} = 1 + \frac{PM}{b}$ .  $PM \cdot b = ab + a \cdot PM \Rightarrow PM = \frac{ab}{b-a}$ .  $PQ =$

$2PM$ , ამიტომ  $PQ = \frac{2ab}{b-a}$ .

№118



$M$  და  $N$  ფუძეების  
შუაწერტილებია.  $X$  არის  $MN$   
მონაკვეთის ნებისმიერი წერტილი,  
მაშინ

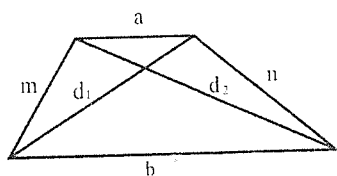
$$S_1 = S_2$$

დამტკიცება: რადგანაც  $M$  და  $N$  ფუძეების შუაწერტილებია, ამიტომ  $XM$  არის  $\triangle BXC$ -ს მედიანა  $S_{\triangle BXM} = S_{\triangle MCX} \equiv S_3$ . ასევე  $\triangle AXD$ -ში  $XN$  მედიანაა

$$S_{\triangle AXN} = S_{\triangle NXD} \equiv S_4 \text{ ცხადია, } S_{\triangle BMN} = S_{\triangle MND} \text{ ანუ } S_1 + S_3 + S_4 = S_2 + S_3 + S_4$$

ე.ი.  $S_1 = S_2$

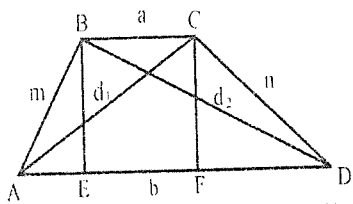
№119



ტრაპეციაში დიაგონალებსა და  
გვერდებს შორის ასეთი  
დამოკიდებულებაა:

$$d_1^2 + d_2^2 = m^2 + n^2 + 2ab$$

დამტკიცება: ტრაპეციის  $B$  და  $C$  წერტილებიდან დავეშვათ სიმაღლეები  $AD$



გვერდზე. განვიხილოთ  $\triangle ACF$  და  $\triangle FCD$ .

$$\text{პითაგორის თეორემით: } d_1^2 - AF^2 = n^2 - FD^2 \quad (1)$$

განვიხილოთ  $\triangle EDB$  და  $\triangle ABE$ .

$$d_2^2 - ED^2 = m^2 - AE^2 \quad (2) \text{ შევკრიბოთ (1) და}$$

(2) ტოლობები, მივიღებთ:

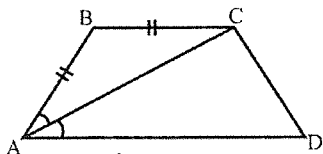
$$d_1^2 + d_2^2 = m^2 + n^2 + AF^2 - FD^2 + ED^2 - AE^2 =$$

$$= m^2 + n^2 + (AF + FD)(AF - FD) + (ED + AE)(ED - AE) =$$

$$= m^2 + n^2 + AD(AF - FD) + AD(ED - AE) = m^2 + n^2 + AD(AF - FD + ED - AE) =$$

$$= m^2 + n^2 + AD \cdot 2EF = m^2 + n^2 + 2AD \cdot BC \Rightarrow d_1^2 + d_2^2 = m^2 + n^2 + 2ab.$$

№120

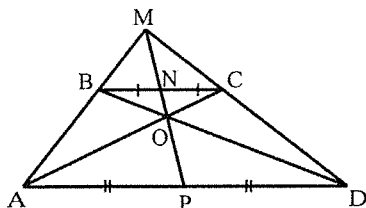


თუ ტრაპეციაში  $AC$  დიაგონალი ბისექტრისაცაა, მაშინ

$$AB = BC$$

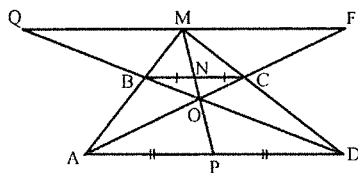
დამტკიცება: რადგან  $AC$  ბისექტრისაა, ამიტომ  $\angle BAC = \angle CAD$ . გარდა ამისა,  $\angle CAD = \angle BCA$ , როგორც შიგაჯვარედინად მდებარე კუთხეები. აქედან გამომდინარე,  $\angle BAC = \angle BCA$ . ე.ი.  $\triangle ABC$  ტოლფერდაა და  $AB = BC$ .

№121



$N$  და  $P$  ფუძეების შუაწერტილები არიან, მაშინ  $M, N, P$  და  $O$  წერტილები ერთ წრფეზე მდებარეობენ

დამტკიცება: დავამტკიცოთ, რომ  $MP$  მონაკვეთი გადის  $N$  წერტილზე.  $BC \parallel AD$ , ამიტომ  $\triangle BMN \sim \triangle AMP$  და  $\triangle NMC \sim \triangle PMD$ .



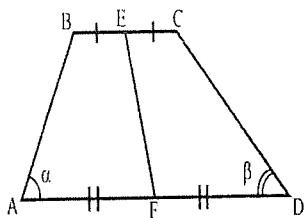
მსგავსებიდან გამომდინარე,  $\frac{BN}{AP} = \frac{MN}{MP}$ .

ანალოგიურად,  $\frac{NC}{PD} = \frac{MN}{MP}$ . ე.ი.  $\frac{BN}{AP} = \frac{NC}{PD}$ .

რადგან  $AP = PD$ , ამიტომ  $BN = NC$ , ანუ  $MP$  მონაკვეთი  $BC$ -ს  $N$  შუაწერტილში გადის. გავაგრძელოთ  $AC$  და  $DB$

დიაგონალები  $AD$ -ს პარალელური  $QF$  მონაკვეთის გადაკვეთამდე. განვიხილოთ  $FCBQ$  ტრაპეცია.  $QM = MF$  (იხ. №116). ამ ტრაპეციის გვერდების გადაკვეთის  $O$  წერტილიდან გავლუბული  $OM$  მონაკვეთი  $CB$ -ს შუაწერტილზე გადის (ანალოგიურად იმისა, რომ  $MP$  მონაკვეთი  $BC$ -ს  $N$  შუაწერტილზე გადის). ე.ი.  $N \in OM$  და, ამასთან,  $N \in MP$ . აქედან გამომდინარე,  $M, N, P$  და  $O$  წერტილები ერთ წრფეზე მდებარეობენ.

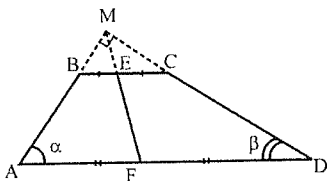
№122



თუ  $\alpha + \beta = 90^\circ$ , და  $E$  და  $F$  ფუძეების შუაწერტილებია, მაშინ

$$EF = \frac{AD - BC}{2}$$

დამტკიცება: ტრაპეციის  $AB$  და  $DC$  გვერდები გავაგრძელოთ მათ

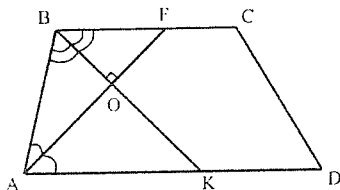


გადაკვეთამდე და გადაკვეთის წერტილი აღენიშნოთ  $M$ -ით.  $M$  წერტილი შევეერთოთ  $AD$  გვერდის  $F$  შუაწერტილთან, ( $MF$  აუცილებლად გაივლის  $E$  წერტილზე, (იხ. №121). რადგანაც  $\alpha + \beta = 90^\circ$ , ამიტომ  $\angle M = 90^\circ$ , ხოლო  $BC$  და  $AD$  შესაბამისად  $\triangle BMC$ -სა და  $\triangle AMD$ -ს ჰიპოტენუსებია.

მართკუთხა სამკუთხედის მედიანის სიგრძე, ჰიპოტენუსის სიგრძის ნახევარია,

ამიტომ  $ME = \frac{BC}{2}$ ,  $MF = \frac{AD}{2}$  ე.ი.  $EF = \frac{AD - BC}{2}$

№123-124



ტრაპეციაში გავლებულია ორი ბისექტრისა, მაშინ

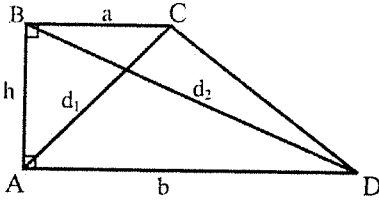
ა)  $\angle O = 90^\circ$

ბ)  $O$  შუამონაკვეთზეა

დამტკიცება: ა) ტრაპეციაში  $\angle A + \angle B = 180^\circ$ . რადგან  $AF$  და  $BK$  ბისექტრისებია არიან, ამიტომ  $\angle BAO + \angle ABO = 90^\circ$ . ე.ი.  $\angle AOB = 90^\circ$ .

ბ)  $\angle FAD = \angle BFA = \angle BAF$ .  $\triangle ABF$  ტოლფერდაა  $BO$  სიმაღლეცაა და მედიანაც  $AO = OF$ . თუ გავაველებთ ფუძეების პარალელურ წრფეს  $O$  წერტილზე, მაშინ იგი, თაღესის თეორემის თანახმად,  $AB$ -სა და  $CD$ -ს შუაწერტილში გადაკვეთს

№125

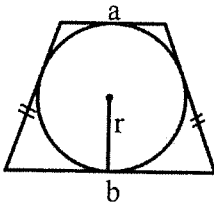


მართკუთხა ტრაპეციაში  
 დიაგონალებსა და ფუძეებს  
 შორის ასეთი დამოკიდებულებაა:

$$d_2^2 - d_1^2 = b^2 - a^2$$

დამტკიცება: განვიხილოთ  $\triangle ABD$  და  $\triangle ABC$ . პითაგორას თეორემის თანახმად:  
 $d_1^2 - a^2 = h^2$ ,  $d_2^2 - b^2 = h^2$ , ე.ი.  $d_2^2 - d_1^2 = b^2 - a^2$ .

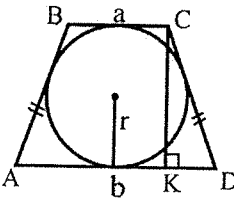
№126



შემოხაზულ ტოლფერდა ტრაპეციაში  
 ჩახაზული წრეწირის რადიუსი ასეც  
 გამოითვლება:

$$r = \frac{1}{2}\sqrt{ab}$$

დამტკიცება: C წერტილიდან დავუშვათ მართობი AD გვერდზე. ცხადია

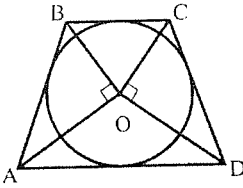


$CK = 2r$ . რადგან ABCD ტოლფერდა ტრაპეციაა, ამიტომ  $KD = \frac{b-a}{2}$ . თუ ოთხკუთხედში წრეწირი ჩახაზება, მაშინ მისი მოპირდაპირე გვერდების ჯამი ტოლია. ე.ი.  $AB + CD = a + b$ . ჩვენს შემთხვევაში  $AB = CD$ , აქედან გამომდინარე  $CD = \frac{a+b}{2}$ .  $\triangle CKD$ -ში, პითაგორას თეორემის

$$\text{გათვალისწინებით: } \left(\frac{b-a}{2}\right)^2 + 4r^2 = \left(\frac{a+b}{2}\right)^2,$$

$$4r^2 = \frac{4ab}{4} \Rightarrow 2r = \sqrt{ab} \Rightarrow r = \frac{1}{2}\sqrt{ab}$$

№127

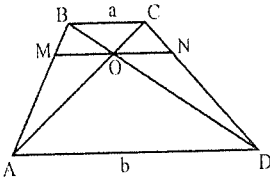


O ცენტრის მქონე წრეწირზე შემოსახულ  
 $ABCD$  ტრაპეციაში:

$$\angle AOB = \angle COD = 90^\circ$$

დამტკიცება: ოთხკუთხედში ჩახაზული წრეწირის ცენტრი მდებარეობს მისი კუთხეების ბისექტრისების გადაკვეთის წერტილზე. ეი  $AO$  და  $OB$  ბისექტრისებია და შესაბამისად, რადგან  $\angle DAB + \angle CBA = 180^\circ$ , ამიტომ  $\angle AOB = 90^\circ$ . ანალოგიურად  $\angle COD = 90^\circ$ .

№128



ტრაპეციაში დიაგონალების გადაკვეთის  
 წერტილზე გავლებული ფუძეების  
 პარალელური  $MN$  მონაკვეთისთვის:

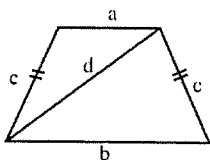
$$MN = \frac{2ab}{a+b}$$

დამტკიცება: რადგან  $MO \parallel BC \parallel AD$ , ამიტომ  $\triangle AMO \sim \triangle ABC$  და  $\triangle BMO \sim \triangle BAD$ .  
 მსგავსებიდან გამომდინარე,  $\frac{MO}{a} = \frac{AM}{AB}$ ,  $\frac{MO}{b} = \frac{MB}{AB}$ ,  $\frac{MO}{a} + \frac{MO}{b} = \frac{MB}{AB} + \frac{AM}{AB} = 1$

$$MO \left( \frac{1}{a} + \frac{1}{b} \right) = 1, \quad MO = \frac{ab}{a+b}. \quad \text{ანალოგიურად, } \triangle OND \sim \triangle BCD, \triangle CON \sim \triangle CAD \text{ და}$$

$$ON = \frac{ab}{a+b}. \quad MN = ON + MO = \frac{2ab}{a+b}.$$

№129

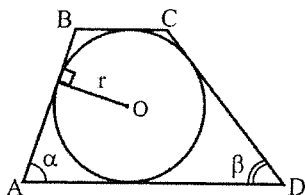


ტოლფერდა ტრაპეციაში

$$d^2 = c^2 + ab$$

დამტკიცება: ტრაპეციაში  $d_1^2 + d_2^2 = 2ab + m^2 + n^2$ , სადაც  $d_1$  და  $d_2$  დიაგონალებია, ხოლო  $m$  და  $n$  კი ტრაპეციის ფერდები. (იხ. №119).  
 ტოლფერდა ტრაპეციის შემთხვევაში  $m = n \equiv c$  და  $d_1 = d_2$ . შესაბამისად ფორმულა შეიძლება ასე გადაეწეროს:  $2d^2 = 2c^2 + 2ab \Rightarrow d^2 = c^2 + ab$ .

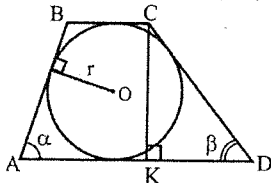
№130



შემოსახული ტრაპეციის ფართობი ასე გამოითვლება:

$$S = 2r^2 \left( \frac{1}{\sin \alpha} + \frac{1}{\sin \beta} \right)$$

დამტკიცება:  $C$  წერტილიდან დაეშუათ მართობი  $AD$  გვერდზე. ცხადია



$CK = 2r$ . აქედან გამომდინარე,  $CD = \frac{2r}{\sin \beta}$ .

ანალოგიურად,  $AB = \frac{2r}{\sin \alpha}$ . შეეერთოთ ოთხკუთხედის წვეროები წრეწირის ცენტრთან და განვიხილოთ მიღებული  $AOB$ ,  $BOC$ ,  $COD$  და  $AOD$

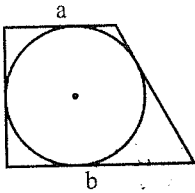
სამკუთხედები. თითოეულის სიმაღლე, ცხადია  $r$ -ის

ტოლია. აქედან გამომდინარე,  $S_{AOB} = \frac{1}{2}r \cdot AB$ ,  $S_{BOC} = \frac{1}{2}r \cdot BC$ ,  $S_{COD} = \frac{1}{2}r \cdot CD$

და  $S_{AOD} = \frac{1}{2}r \cdot AD$ . ე.ი.  $S = \frac{1}{2}r(AB + BC + CD + AD)$ . თუ  $ABCD$ -ში ჩახაზულია წრეწირი, მაშინ  $AB + CD = BC + AD$ . ე.ი.  $S = r(AB + CD)$ .

რადგან  $AB = \frac{2r}{\sin \alpha}$  და  $CD = \frac{2r}{\sin \beta}$ . აქედან გამომდინარე,  $S = 2r^2 \left( \frac{1}{\sin \alpha} + \frac{1}{\sin \beta} \right)$ .

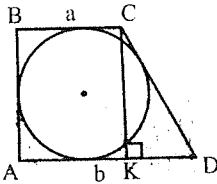
№131



შემოსახული მართკუთხა ტრაპეციის ფართობი ასე გამოითვლება:

$$S = ab$$

დამტკიცება:  $C$  წერტილიდან დაუშვით მართობი  $AD$  გვერდზე. ცხადია,



$CK = AB \equiv h$  და  $KD = b - a$ , პითაგორას

თეორემიდან  $\triangle CKD$ -სთვის:

$$(b - a)^2 + h^2 = CD^2 \quad (1).$$

თუ ოთხკუთხედში წრეწირი ჩახაზება, მაშინ მისი მოპირდაპირე გვერდების ჯამები ტოლია. ე.ი.  $h + CD = a + b \Rightarrow$

$$h^2 + 2h \cdot CD + CD^2 = (a + b)^2 \quad (2).$$

(1)-სა და (2)-ს დაჯამებითა და გარდაქმნებით მივიღებთ:

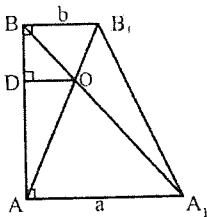
$$2ab = h(h + CD).$$

$$S = S_{ABCK} + S_{\triangle CKD}, \text{ ე.ი. } S = h \cdot a + \frac{h(b-a)}{2} = h \frac{a+b}{2}.$$

რადგან ტრაპეციაში ჩახაზულია წრეწირი, ამიტომ  $h + CD = a + b$ , ე.ი.  $S = h \frac{h+CD}{2}$ .

თუ გაითვალისწინებთ, რომ  $2ab = h(h + CD)$ , მივიღებთ  $S = ab$ .

№132



მართკუთხა ტრაპეციაში დიაგონალების გადაკვეთის წერტილიდან მართ ფერდამდე მანძილი ასე გამოითვლება:

$$OD = \frac{ab}{a+b}$$

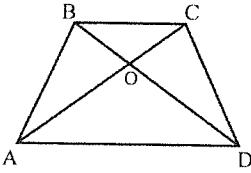
დამტკიცება: რადგან  $\triangle ABA_1 \sim \triangle DBO$  და  $\triangle BAB_1 \sim \triangle DAO$ , ამიტომ  $\frac{OD}{a} = \frac{BD}{BA}$  და

$$\frac{OD}{b} = \frac{AD}{AB}. \text{ აქედან გამომდინარე, } \frac{OD}{a} + \frac{OD}{b} = OD \left( \frac{1}{a} + \frac{1}{b} \right) = \frac{AD+DB}{AB} = 1 \Rightarrow$$

$$\Rightarrow OD \left( \frac{a+b}{ab} \right) = 1 \Rightarrow OD = \frac{ab}{a+b}.$$



№133



თუ ტრაპეციის  $BC:AD = p$ , მაშინ ადგილი აქვს შემდეგ დამოკიდებულებას:

$$\frac{S_{ABCD}}{S_{\Delta AOD}} = (p + 1)^2$$

დამტკიცება:  $\Delta BOC \sim \Delta AOD$ , მსგავსებიდან გამომდინარე  $\frac{BC}{AD} = \frac{OC}{AO} = \frac{BO}{OD} = p$ . მსგავსი სამკუთხედების ფართობების შეფარდება ტოლია შესაბამისი

გვერდების კვადრატების შეფარდებისა ე.ი  $\frac{S_{\Delta BOC}}{S_{\Delta AOD}} = p^2$ ,  $S_{\Delta BOC} = S_{\Delta AOD} p^2$ .

$\Delta ABD$ -ში  $\frac{S_{\Delta AOB}}{S_{\Delta AOD}} = \frac{BO}{OD} = p$ ,  $S_{\Delta AOB} = p S_{\Delta AOD}$ ,  $\Delta ACD$ -ში ანალოგიურად

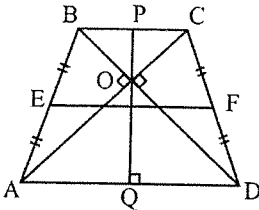
$\frac{S_{\Delta COD}}{S_{\Delta AOD}} = \frac{OC}{AO} = p$ ,  $S_{\Delta COD} = p S_{\Delta AOD}$ . ყველა მიღებული ტოლობიდან

გამომდინარე:

$$S_{ABCD} = S_{\Delta BOC} + S_{\Delta AOB} + S_{\Delta COD} + S_{\Delta AOD} = S_{\Delta AOD} p^2 + S_{\Delta AOD} 2p + S_{\Delta AOD} \Rightarrow$$

$$\Rightarrow S_{ABCD} = S_{\Delta AOD} (p^2 + 2p + 1) \Rightarrow \frac{S_{ABCD}}{S_{\Delta AOD}} = (p + 1)^2.$$

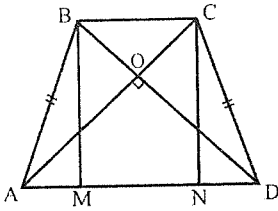
№134



თუ ტოლფერდა ტრაპეციის დიაგონალები ურთიერთმართობულია, მაშინ შუამონაკვეთი სიმაღლის ტოლია.

$$EF = PQ$$

დამტკიცება: ტოლფერდა ტრაპეციის დიაგონალები ტოლია,  $AC = BD$ .



$ABD$  და  $ACD$  სამკუთხედის გვერდები ტოლია და შესაბამისად კუთხეებიც, ანუ  $\angle BDA = \angle CAD$ . ე.ი  $\triangle AOD$  ტოლფერდაა და  $AO = OD$ .  
 რადგან  $\angle AOD = 90^\circ$ , ამიტომ  $\angle ODA = \angle OAD = 45^\circ$ .  
 აქედან გამოდინარე,  $BDM$  მართკუთხა სამკუთხედი ტოლფერდაა ე.ი.  $BM = MD$ .  
 ტოლფერდა ტრაპეციაში  $AM = ND$ , აგრეთვე  $MN = BC$ .  $AM + MN + ND = AD$ ,  $\Rightarrow$

$$\Rightarrow 2AM = AD - MN = AD - BC \Rightarrow AM = \frac{AD - BC}{2}$$

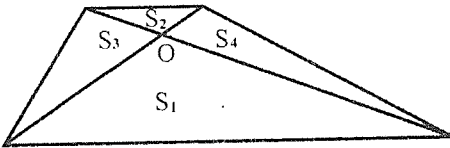
ცხადია,  $MD = AD - AM$

$$MD = AD - \frac{AD - BC}{2} = \frac{AD + BC}{2}$$

ე.ი.  $BM = PQ = MD = \frac{AD + BC}{2}$

რადგანაც  $EF$  შუახაზია, ამიტომ  $EF = \frac{AD + BC}{2} = PQ$ .

### №135-136



ტრაპეციაში დიაგონალების გაეღებით მიღებული სამკუთხედების ფართობებს შორის ასეთი დამოკიდებულებაა:

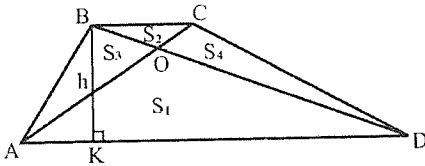
ა)  $S_3 \cdot S_4 = S_1 \cdot S_2$

ბ)  $S_3 = S_4$

დამტკიცება: ა) სამკუთხედში სხივი, სათავით წვეროში, მოპირდაპირე გვერდსა და ფიგურის ფართობს ერთნაირი შეფარდებით ეოფს, ამიტომ

$$\frac{S_3}{S_2} = \frac{S_1}{S_4} = \frac{AO}{OC}$$

ანუ  $S_3 \cdot S_4 = S_1 \cdot S_2$ .

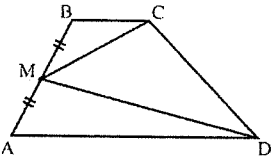


ბ)  $S_{\triangle ABD} = \frac{1}{2}AD \cdot h$ . ანალოგიურად,  
 $S_{\triangle ACD} = \frac{1}{2}AD \cdot h$ . ე.ი.  $S_{\triangle ABD} = S_{\triangle ACD}$ .  
 $S_{\triangle ABD} = S_1 + S_3$  და  $S_{\triangle ACD} = S_1 + S_4$   
 ე.ი.  $S_3 = S_4$ .

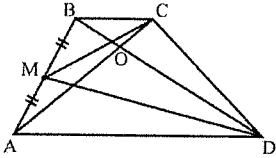
№137

$M$  ტრაპეციის ფერდის შუაწერტილია, მაშინ

$$S_{\Delta CMD} = \frac{S_{ABCD}}{2}$$



დამტკიცება: რადგანაც  $CM$  მედიანაა  $\Delta ABC$ -ში, ამიტომ  $S_{\Delta MBC} = \frac{S_{\Delta ABC}}{2}$ .



ანალოგიურად,  $S_{\Delta AMD} = \frac{S_{\Delta ABD}}{2}$ .

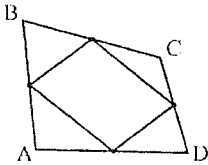
რადგან  $S_{\Delta ABO} = S_{\Delta COD}$  (იხ. №136), ამიტომ  $S_{\Delta ABC} + S_{\Delta ABD} = S_{ABCD}$ . აქედან გამომდინარე,

$$S_{\Delta MBC} + S_{\Delta AMD} = \frac{S_{\Delta ABC}}{2} + \frac{S_{\Delta ABD}}{2} = \frac{S_{ABCD}}{2}.$$

$$S_{\Delta CMD} = S_{ABCD} - (S_{\Delta MBC} + S_{\Delta AMD}) = \frac{S_{ABCD}}{2}.$$

# ოთხკუთხედი და მრავალკუთხედი

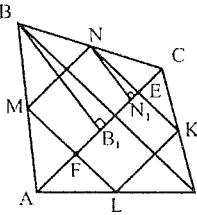
№138



ნებისმიერი ამოზნექილი ABCD ოთხკუთხედის გვერდების შუაწერტილების შეერთებით მიიღება პარალელოგრამი და

$$S_{\text{პარალ.}} = \frac{1}{2} S_{ABCD}$$

დამტკიცება: გავევლოთ AC და BD დიაგონალები მოცემულ ABCD ოთხკუთხედში. რადგან M და N არიან AB და BC გვერდების შუაწერტილები,



ამიტომ  $\triangle ABC$ -ში MN შუახაზია და  $MN = \frac{AC}{2}$ , ამასთან  $MN \parallel AC$ . ანალოგიურად,  $\triangle ADC$ -ში LK შუახაზია, ანუ  $LK = \frac{AC}{2}$  და  $LK \parallel AC$ . ე.ი.  $MN = LK$  და  $MN \parallel LK$ . აქედან გამომდინარე, MNKL პარალელოგრამია. ცხადია,  $\triangle ABC$ -ში ჩახაზული MNEF ოთხკუთხედიც

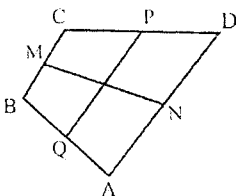
პარალელოგრამია.  $S_{\triangle ABC} = \frac{1}{2} BB_1 \cdot AC$ . ცხადია, რომ

$$BB_1 = 2NN_1 \text{ და } MN = \frac{AC}{2} = EF, \text{ ამიტომ } S_{MNEF} = EF \cdot NN_1 = \frac{1}{4} BB_1 \cdot$$

$$AC = \frac{1}{2} S_{\triangle ABC}. \text{ ანალოგიურად, } S_{\triangle ADC}\text{-ში } S_{KLFE} = \frac{1}{2} S_{\triangle ADC}.$$

$$S_{MNKL} = S_{MNEF} + S_{KLFE} = \frac{1}{2} S_{\triangle ABC} + \frac{1}{2} S_{\triangle ADC} = \frac{1}{2} (S_{\triangle ABC} + S_{\triangle ADC}) = \frac{1}{2} S_{ABCD}$$

№139



თუ M, N, P და Q ოთხკუთხედის გვერდების შუაწერტილები არიან, მაშინ

$$BD^2 + AC^2 = 2(MN^2 + PQ^2)$$

დამტკიცება: ჩვენ უკვე დავამტკიცეთ, რომ ნებისმიერი ამოზნექილი ოთხკუთხედის გვერდების შუაწერტილების შეერთებით მიიღება პარალელოგრამი (იხ. №138). ე.ი.  $QMPN$  ოთხკუთხედი პარალელოგრამია. პარალელოგრამში გვერდების კვადრატების ჯამი ტოლია დიაგონალების კვადრატების ჯამისა:  
 $2QM^2 + 2MP^2 = MN^2 + PQ^2$  (1).  
 რადგან  $MP$  შუახაზია  $\Delta BCD$ -ში, ამიტომ  $BD = 2MP$ . ანალოგიურად,  $\Delta ABC$ -ში  $QM$  შუახაზია,  $AC = 2QM$ .

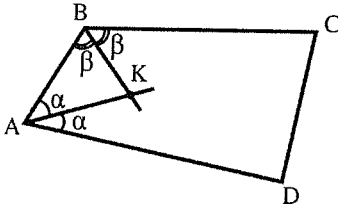
აქედან გამომდინარე,

$$BD^2 + AC^2 = 4MP^2 + 4QM^2 \Rightarrow \frac{BD^2 + AC^2}{2} = 2MP^2 + 2QM^2 \quad (2)$$

(1) და (2)-დან გამომდინარე:

$$\frac{BD^2 + AC^2}{2} = MN^2 + PQ^2 \Rightarrow BD^2 + AC^2 = 2(MN^2 + PQ^2)$$

### №140



თუ  $AK$  და  $BK$  ოთხკუთხედის შიგა კუთხეების ბისექტრისებია, მაშინ

$$\angle AKB = \frac{\angle C + \angle D}{2}$$

დამტკიცება:  $AK$  და  $BK$  ბისექტრისებია,  $\angle KAD = \angle BAK \equiv \alpha$  და  $\angle ABK = \angle KBC \equiv \beta$ .  $\Delta ABK$ -დან  $180^\circ - \angle AKB = \alpha + \beta$ . თუ გავითვალისწინებთ, რომ ოთხკუთხედის შიგა კუთხეების ჯამი ტოლია  $360^\circ$ -ის, მივიღებთ:

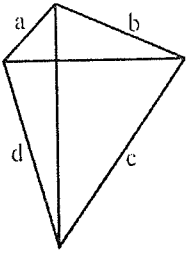
$$2(\alpha + \beta) + \angle C + \angle D = 360^\circ$$

$$(\alpha + \beta) + \frac{\angle C + \angle D}{2} = 180^\circ$$

$$180^\circ - (\alpha + \beta) = \frac{\angle C + \angle D}{2}$$

$$\angle AKB = \frac{\angle C + \angle D}{2}$$

№141



თუ ოთხკუთხედში  $a^2 + c^2 = b^2 + d^2$ , მაშინ დიაგონალები ურთიერთმართობულია

დამტკიცება: მოცემულია, რომ  $a^2 + c^2 - (b^2 + d^2) = 0$  (1).  $\angle AOB = \angle DOC \equiv \alpha$ ,

ხოლო  $\angle AOD = \angle BOC \equiv \beta$ . კოსინუსების თეორემიდან გამომდინარე,  $\triangle AOB$ -სა და  $\triangle DOC$ -ში გვექნება:

$$a^2 = AO^2 + OB^2 - 2BO \cdot OA \cos \alpha$$

$$c^2 = DO^2 + OC^2 - 2DO \cdot OC \cos \alpha$$

ანალოგიურად,  $\triangle AOD$ -სა და  $\triangle BOC$ -ში:

$$d^2 = OA^2 + OD^2 - 2AO \cdot OD \cos \beta =$$

$$= OA^2 + OD^2 - 2AO \cdot OD \cos(180^\circ - \alpha) =$$

$$= OA^2 + OD^2 + 2AO \cdot OD \cos \alpha$$

$$b^2 = BO^2 + OC^2 - 2BO \cdot OC \cos \beta = BO^2 + OC^2 + 2BO \cdot OC \cos \alpha$$

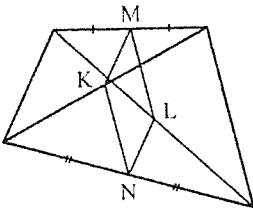
მიღებული მნიშვნელობები ჩავსვათ (1) ტოლობაში:

$$a^2 + c^2 - (b^2 + d^2) = -\cos \alpha (2BO \cdot OA + 2DO \cdot OC + 2DO \cdot OC + 2AO \cdot OD) = 0$$

ცხადია, რომ  $2BO \cdot OA + 2DO \cdot OC + 2DO \cdot OC + 2AO \cdot OD \neq 0$ , ამიტომ  $\cos \alpha = 0$ .

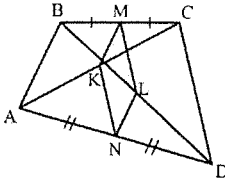
ე.ი.  $\alpha = \beta = 90^\circ$

№142

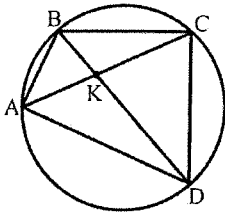


თუ  $M, N, K$  და  $L$  შესაბამისი მონაკვეთების შუაწერტილები არიან, მაშინ  $MKNL$  პარალელელოგრამია

დამტკიცება: განვიხილოთ  $\triangle CBD$ .  $M$  არის  $BC$  მონაკვეთის შუაწერტილი, ხოლო  $L$  კი  $BD$ -სი. ე.ი.  $ML$  ამ სამკუთხედის შუახაზია და  $ML = \frac{CD}{2}$ . განვიხილოთ  $\triangle ACD$ . რადგან  $K$  და  $N$  შუაწერტილები არიან, ამიტომ  $NK$  შუახაზია და  $NK = \frac{CD}{2}$ . ე.ი.  $NK = ML$ . ანალოგიურად,  $\triangle ABC$ -სა და  $\triangle ABD$ -ში შესაბამისად  $MK$  და  $LN$  შუახაზები არიან,  $MK = LN = \frac{AB}{2}$ .  $MKNL$  ოთხკუთხედის მოპირდაპირე გვერდები ტოლია. ე.ი.  $MKNL$  პარალელოგრამია.



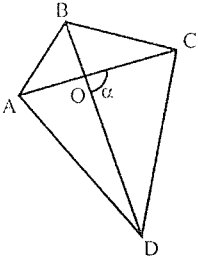
### №143



თუ ოთხკუთხედში  $AK \cdot KC = BK \cdot KD$ , მაშინ ამ ოთხკუთხედზე შეიძლება წრეწირის შემოსახვა.

დამტკიცება: მოცემული ტოლობა გარდაექმნათ შემდეგნაირად  $\frac{AK}{KD} = \frac{BK}{KC}$  (1). განვიხილოთ  $\triangle AKB$  და  $\triangle DKC$ . ამ სამკუთხედებში  $\angle AKB = \angle DKC$ , როგორც ვერტიკალური კუთხეები. ხოლო (1) ტოლობიდან მათი გვერდები პროპორციულია. რადგან  $\triangle AKB$ -ს ორი გვერდი პროპორციულია  $\triangle DKC$ -ს ორი გვერდისა და მათ შორის მდებარე კუთხეები ტოლია, ამიტომ  $\triangle AKB \sim \triangle DKC$ . მსგავსებიდან გამომდინარეობს, რომ  $\angle ABK = \angle KCD \equiv \alpha$ ,  $\angle BAK = \angle KDC \equiv \beta$ . ანალოგიურად მტკიცდება  $\triangle BKC$ -სა და  $\triangle AKD$ -ს მსგავსება. ე.ი.  $\angle KBC = \angle KAD \equiv \gamma$ , ხოლო  $\angle BCK = \angle ADB \equiv \varphi$ . ოთხკუთხედის კუთხეების ჯამი  $360^\circ$ -ია, აქედან გამომდინარე  $2(\alpha + \beta + \gamma + \varphi) = 360^\circ$ ,  $(\alpha + \beta + \gamma + \varphi) = 180^\circ$ .  $\angle ABC + \angle ADC = (\alpha + \beta + \gamma + \varphi) = 180^\circ$ . რადგანაც  $ABCD$  ოთხკუთხედის მოპირდაპირე კუთხეების ჯამი  $180^\circ$ -ია, ამიტომ მასზე შეიძლება წრეწირის შემოსახვა.

№144



ნებისმიერი ოთხკუთხედის ფართობი ასე გამოითვლება:

$$S_{ABCD} = \frac{1}{2} AC \cdot BD \cdot \sin \alpha$$

დამტკიცება: განვიხილოთ დიაგონალების გავლებით მიღებული თითოეული სამკუთხედი.  $S_{\triangle AOB} = \frac{1}{2} AO \cdot OB \sin \alpha$ ,  $S_{\triangle AOD} = \frac{1}{2} AO \cdot OD \sin(180^\circ - \alpha)$ ,

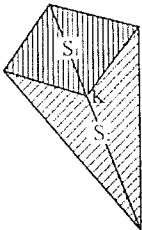
$$S_{\triangle BOC} = \frac{1}{2} BO \cdot OC \sin(180^\circ - \alpha) \text{ და } S_{\triangle COD} = \frac{1}{2} CO \cdot OD \sin \alpha.$$

გავითვალისწინოთ, რომ  $\sin(180^\circ - \alpha) = \sin \alpha$  და შევკრიბოთ მიღებული შედეგები:  $S_{ABCD} = S_{\triangle AOB} + S_{\triangle AOD} + S_{\triangle BOC} + S_{\triangle COD} =$

$$= \frac{1}{2} \sin \alpha [AO(OB + OD) + CO(OB + OD)] =$$

$$= \frac{1}{2} \sin \alpha (OB + OD)(AO + OC) = \frac{1}{2} AC \cdot BD \sin \alpha.$$

№145

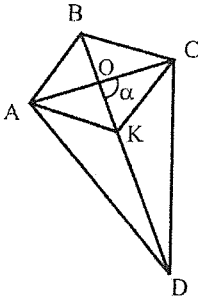


თუ  $K$  ოთხკუთხედის დიაგონალის შუაწერტილია, მაშინ

$$S_1 = S_2.$$



დამტკიცება: განვიხილოთ ოთხკუთხედი  $ABCK$  და  $ABCD$ .

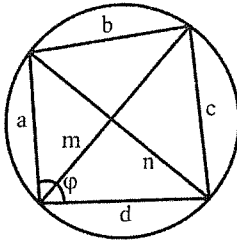


$$S_{ABCK} = \frac{1}{2} BK \cdot AC \cdot \sin \alpha \quad (\text{იხ. №144}), \text{ ხოლო}$$

$$S_{ABCD} = \frac{1}{2} BD \cdot AC \cdot \sin \alpha. \text{ რადგან } BK = \frac{BD}{2}, \text{ ამიტომ}$$

$$S_{ABCK} = \frac{S_{ABCD}}{2}. \text{ ე.ი. } S_{ABCK} = S_{AKCD} = \frac{S_{ABCD}}{2}.$$

### №146-147



ჩახაზულ ოთხკუთხედში დიაგონალებსა და გვერდებს შორის ასეთი დამოკიდებულებაა:

ა)  $m \cdot n = ac + bd$  (პტოლემეოსის თეორემა)

ბ)  $\frac{m}{n} = \frac{ab+cd}{bc+ad}$

დამტკიცება: ა) კოსინუსების თეორემის თანახმად:

$$n^2 = a^2 + d^2 - 2ad \cos \varphi$$

$$n^2 = b^2 + c^2 - 2cb \cos(180^\circ - \varphi) = b^2 + c^2 + 2cb \cos \varphi$$

პირველი ტოლობა გაეამრავლოთ  $bc$ -ზე, მეორე -  $ad$ -ზე და შეეკრიბოთ:

$$(bc + ad)n^2 = (a^2 + d^2)bc + (b^2 + c^2)ad = (ab + cd)(ac + bd) \quad \text{ე.ი.}$$

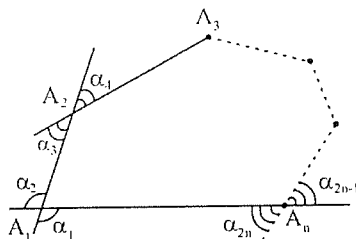
$$n^2 = \frac{(ab+cd)}{(bc+ad)} (ac + bd) \quad (1), \text{ ანალოგიურად}$$

$$m^2 = \frac{(ad+cb)}{(ab+cd)} (ac + bd) \quad (2).$$

(1) და (2) ტოლობების გადამრავლებით მივიღებთ:  $mn = ac + bd$

ბ) (1) და (2) ტოლობების გაყოფით გვექნება:  $\frac{m}{n} = \frac{ab+cd}{bc+ad}$ .

### №148



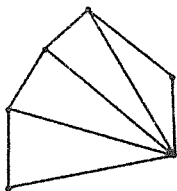
ამოზნეპილი  $n$ -კუთხედის ყველა გარე კუთხეთა ჯამი  $720^\circ$ -ის ტოლია.

$$\alpha_1 + \alpha_2 + \alpha_3 + \dots + \alpha_{2n-1} + \alpha_{2n} = 720^\circ$$

დამტკიცება: თითოეულ  $A_i$  წვეროსთან მდებარე ოთხივე კუთხის ჯამია  $360^\circ$ . სულ  $n$  წვეროსთან ასეთ კუთხეთა ჯამია  $360^\circ \cdot n$ . ცნობილია, რომ მრავალკუთხედის შიგა კუთხეების ჯამია  $180^\circ(n-2)$ , ხოლო ყოველ წვეროსთან შიგა კუთხის ვერტიკალური და ე.ი. მისი ტოლი კუთხე არსებობს. ამრიგად ყველა შესაძლო გარე კუთხეთა ჯამი ტოლია:

$$\alpha_1 + \alpha_2 + \alpha_3 + \dots + \alpha_{2n} = 360^\circ \cdot n - 2 \cdot 180^\circ(n-2) = 360^\circ \cdot n - 360^\circ \cdot n + 720^\circ = 720^\circ$$

### №149

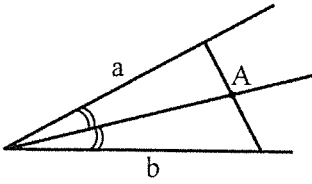


$n$ -კუთხედში ყველა შესაძლო დიაგონალების რაოდენობაა:

$$\frac{n(n-3)}{2}$$

დამტკიცება: რადგან  $n$ -კუთხედში დიაგონალი ორი არამეზობელი წვეროს შემაერთებელი მონაკვეთია, ამიტომ ერთი წვეროდან  $(n-3)$  დიაგონალის გაყვლა არის შესაძლებელი. აქედან გამომდინარე,  $n$  წვეროდან  $n(n-3)$  გაყვლა შეიძლება. ამ წესით ყოველი დიაგონალი დათვლილია 2-ჯერ, ამიტომ  $n$ -კუთხედში ყველა შესაძლო დიაგონალების რაოდენობაა  $\frac{n(n-3)}{2}$ .

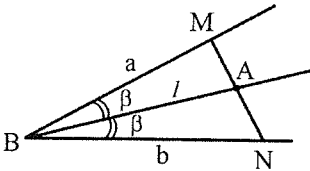
## კიდევ ერთი თეორემა



კუთხის ბისექტრისაზე მდებარე  $A$  წერტილზე გამავალი ნებისმიერი მკვეთის მიერ მოკვეთილი მონაკვეთებისთვის:

$$\frac{1}{a} + \frac{1}{b} = \text{const}$$

დამტკიცება: განვიხილოთ სამკუთხედი  $ABM$  და  $ABN$ .  $BA \equiv l$ .



$$S_{\triangle ABM} = \frac{1}{2}al \sin \beta. \text{ ანალოგიურად,}$$

$$S_{\triangle ABN} = \frac{1}{2}bl \sin \beta.$$

$$S_{\triangle MBN} = \frac{1}{2}ab \sin 2\beta.$$

რადგან  $S_{\triangle ABM} + S_{\triangle ABN} = S_{\triangle MBN}$ , ამიტომ

$$l \sin \beta (a + b) = ab \sin 2\beta. \quad \frac{a+b}{ab} = \frac{\sin 2\beta}{l \sin \beta}$$

$$\text{აქედან გამომდინარე, } \frac{1}{a} + \frac{1}{b} = \frac{\sin 2\beta}{l \sin \beta}$$

$\sin 2\beta$ ,  $l$  და  $\sin \beta$  თავიდანვე დაფიქსირებული სიდიდეებია, ამიტომ

$$\frac{1}{a} + \frac{1}{b} = \text{const.}$$

## გამოყენებული ლიტერატურა

1. ს. თოფურია, გ. აბესაძე, გ. ოზბეგაშვილი, ვ. ხოჭოლავა, ზ. მეტრეველი, ნ. მაჭარაშვილი – მათემატიკა, ნაწ. 2, თბილისი, 1991;
2. მათემატიკის ამოცანათა კრებული უმაღლეს ტექნიკურ სასწავლებლებში საკონკურსო გამოცდებისათვის, მ. ი. სკანავის რედაქციით – თბილისი, 1976;
3. Шувалова Э. З., Агафонов Б. Г., Богатырев Г. И. – Повторим математику, Москва, 1969;
4. Шахно К. У. – Сборник задач по элементарной математике повышенной трудности, Минск, 1969;
5. Ваховский Е. Б. – Задачи по элементарной математике, Москва, 1971;
6. Вересова Е. Е., Денисова Н. С. – Практикум по решению математических задач, Москва, 1979;
7. Лидский В. Б., Овсянников Л. В., Тулайков А. Н., Шабунин М. И., Федосов Б. В. – Задачи по элементарной математике, Москва, 1973.

Temur Khutsishvili   Irakli Vekua   Giorgi Kvinikadze

**150 THEOREMS AND  
FORMULAE FOR SOLVING  
COMPETITIVE PLANIMETRY  
PROBLEMS**

There are 150 theorems and formulae in this textbook. They will help you in solving complex (olympic and exam) planimetry problems. Theorems do not give verbal information completely, but graphics will help you understand them easily.